

Чему научились во 2 классе

Урок № 135-136



Школа России
Математика 2 класс





Устный счёт



1 множитель	9	?	8
2 множитель	3	3	?
произведение	?	30	24

10

16

29

54

-9

41

19


8

62

	1	2	3	4	5	6 
1	25	67	39	46	60	35
2	10	50	21	34	20	55
3	15	20	50	21	12	16
4	3	5	10	7	4	8

Сложи первую и вторую строчку. Третью строчку

результат записывай

На рынке купили **16** кг клубники и **8** кг смородины. Из **15** кг ягод сварили варенье, а из остальных сделали компот. Сколько кг ягод ушло на компот? 

$$16 + 8 - 15 = 9 \text{ (кг)}$$



9 кг

На речке купалось **17** мальчиков и **8** девочек.

Через

некоторое время пришли ещё **9** мальчиков. На 

СКОЛЬКО

$$(17 + 8) - 9 = 16 \text{ (м.)}$$

на 16 больше



Три блокнота стоят **18** рублей, а один фотоальбом **35**

рублей. На сколько фотоальбом дороже одного



$$35 - 18 : 3 = 29 \text{ (руб.)}$$



на **29**

рублей

Задания на смекалку



Разгадай ребусы.



ЮГ



ро А



5

ТОТ
КОТ

М
И
Л



А

Л = Ж

ЛОЖЬ

100

ЯНКА

ПОЗЛ

СОК

КА

Е

РА
РОК

га

В парке **10** скамеек. Весной **4** скамейки заменили новыми.  Сколько скамеек стало в парке?



10 скамеек

Пловец стоит на берегу реки. На том же или на другом берегу реки он окажется, если переплывёт реку **8** раз?



На том

Капитан пиратской шхуны приказал пиратам собраться на шхуне в **8** часов. Верно ли, что пираты соберутся вовремя? Почему?



**Нет, надо уточнит
8 утра или 8**

вечера

В ящике **2** красных и **3** зелёных кубика. Из ящика, не глядя, взяли 3 кубика. Окажется ли среди них зелёный кубик?



Да

Шла баба в Москву и повстречала **3** мужиков.
Каждый из них нёс по мешку, в каждом мешке по
коту. Сколько существ направлялось в Москву?




1 баба

Верно ли, что из **8** учащихся нашего класса хотя бы двое отмечают свой день рождения в один и тот же день недели. Почему?




**Верно, потому
что в**

В шкафу лежат **белые** и **жёлтые** салфетки. Не глядя, из шкафа достали две салфетки. Верно ли, что взятые салфетки будут обязательно одного и того же цвета?



Нет

Часы показывают **7 часов 20 минут** утра. Известно, что они спешат на **3 минуты**. Какое время действительности?



7 часов 17 минут

Какое время показывают часы?



Физкультминутка



http://www.youtube.com/watch?v=3ILs_uu5arQ

Весёлая физкультминутка:

Конец