

Вычитание вида 8 - , 9 -

Математика 1 класс
УМК «Школа России»

27 ФЕВРАЛЯ.

- Каллиграфическая минутка.
- Пропиши числа

○ 8 8 8 8 8 8 8 8 8

○ 9 9 9 9 9 9 9 9 9

Математический ДИКТАНТ

Выполни устно



- Сумма чисел 2 и 7?
- Первое слагаемое 3, второе слагаемое 4, найти сумму.
- Разность чисел 8 и 5?
- Уменьшаемое 7, вычитаемое 5, найти разность.
- 9 это 3 да * ?
- 6 это 2 да * ?
- Я задумала число, к нему прибавила 5 и получила 6, какое число я задумала?
- Запишите число, которое на 2 меньше чем 4, на 1 больше чем 7.
- В аквариуме плавало 7 рыбок, кошка съела три рыбки. Сколько рыбок осталось?



ПРОВЕРКА:

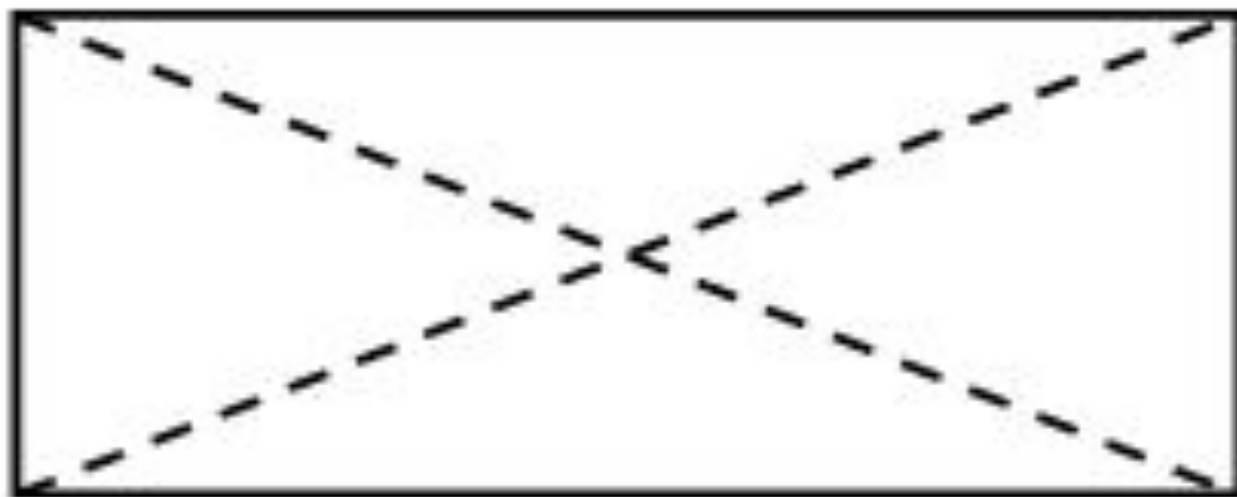
9 7 3 2 6 2 1 2 8 4

Выполни устно

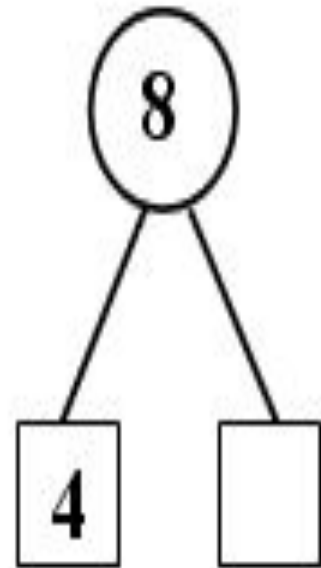
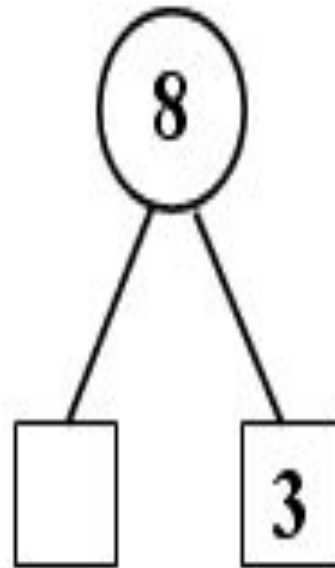
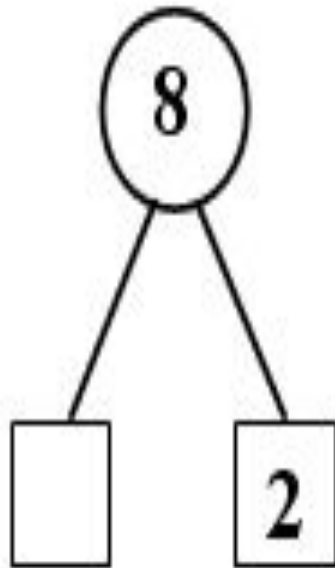
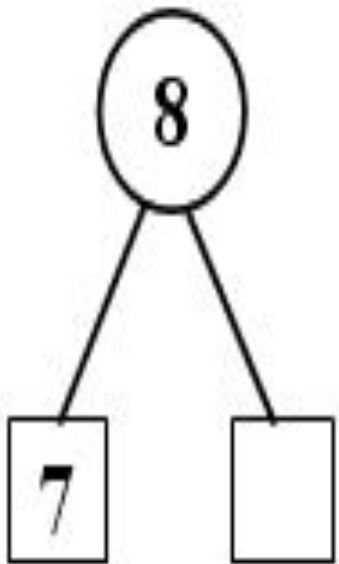
КАК ПРОВЕСТИ В ПРЯМОУГОЛЬНИКЕ 2
ОТРЕЗКА ТАК, ЧТОБЫ ПОЛУЧИЛОСЬ 8
ТРЕУГОЛЬНИКОВ



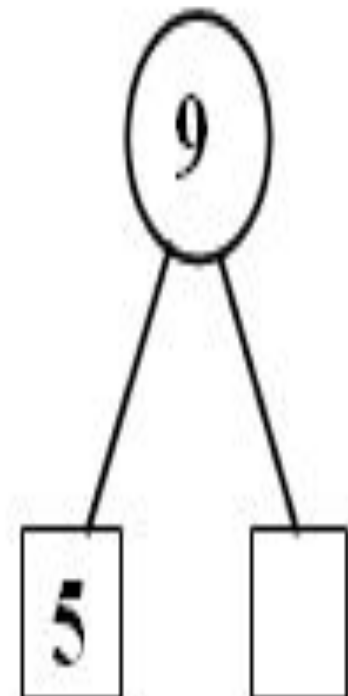
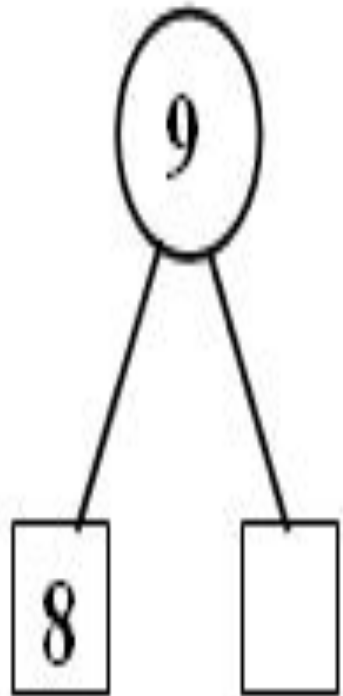
ПРОВЕРКА:



УСТНЫЙ СЧЁТ:



УСТНЫЙ СЧЁТ:



КАКОЕ ЧИСЛО ПРОПУЩЕНО?

$$\odot 5 + \square = 8$$

$$6 + \square = 9$$

$$\odot 4 + \square = 8$$

$$7 + \square = 9$$

ТЕМА УРОКА: ВЫЧИТАНИЕ ИЗ ЧИСЕЛ 8, 9

Проверка

⊙ $8 - 1 = 7$

$8 - 3 = 5$

⊙ $8 - 4 = 4$

$8 - 6 = 2$

⊙ $9 - 3 = 6$

$9 - 2 = 7$

⊙ $9 - 5 = 4$

$9 - 8 = 1$

САМОСТОЯТЕЛЬНАЯ РАБОТА.

Решите примеры

8					
7	1	$8 - 7 = 1$			
6	2	$8 - 6 = \square$			
3	5	$8 - 5 = \square$			
4	4	$8 - 4 = \square$			

9					
8	1	$9 - 8 = \square$			
7	2	$9 - 7 = \square$			
	6	$9 - 6 = \square$			
4		$9 - 5 = \square$			

1. $9 - 6$ $6 - 4$ $8 - 6$ $10 - 3 + 2$
 $8 - 5$ $7 - 3$ $9 - 8$ $10 - 4 + 3$

РЕШИ ЗАДАЧУ

4. 1) У Васи было



Он купил 3 тетради.
Сколько тетрадей ста-
ло у Васи?

РЕШИ ЗАДАЧИ

3. 1) В одной книге 6 сказок, а в другой — на 2 сказки меньше. Сколько ... ?
- 2) В одной книге 6 сказок, а в другой — 4 сказки. Сколько всего сказок в этих двух книгах?

ОЦЕНИ СВОЮ РАБОТУ НА УРОКЕ

- ◎ Я старался и у меня всё получилось
- ◎ Я старался, но у меня не всё получилось
- ◎ Мне нужна помощь