

Математика

2 К класс.

**В ряду чисел от 40 до 100 выбери те, в которых
число**

десятков на 3 больше чем единиц.

74

63

58

85

36

69

68

41

52

37

Гному для стирки понадобилось **6** вёдер воды, а для мытья пола **2** ведра. На сколько больше потребовалось вёдер воды для стир

на 4

ведра

$$6 - 2 = 4$$

(в.)




Гном испёк **10** пирожков и **7** булочек. После того как он угостил медведя, у него осталось всего **9** булочек

с

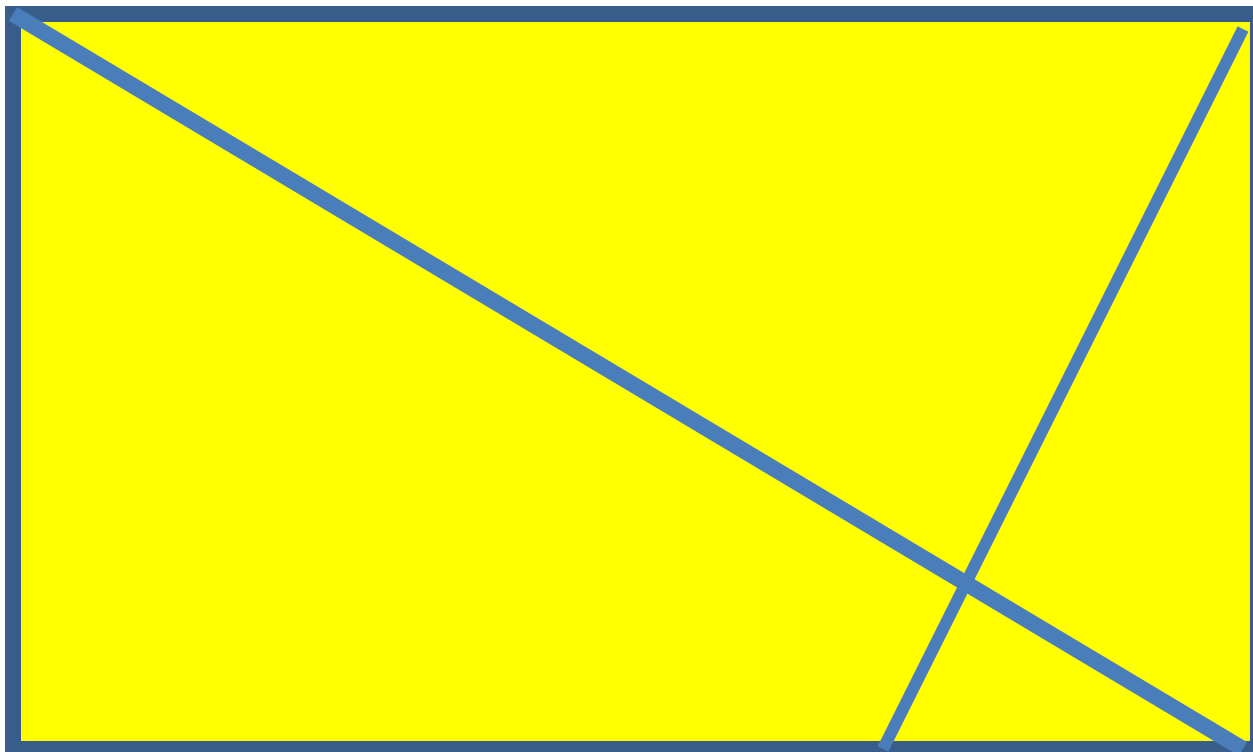
пирожка

$$10 + 7 - 9 = 8$$

8



**Сколько треугольников
Изображено?**



6

Поставь знаки >

= <

Запись в
тетради



1 м _____ 89 см

1 м _____ 24 см

7 дм 5 см _____ 78 см

2 см 6 мм _____ 62 мм

ЗАДАНИЯ НА СМЕКАЛКУ



В сборочный цех поступило **40** вёдер и **50** ручек к ним.

Сколько готовых вёдер можно сделать из них?



40

вёдер

Загадка.
Одно брюхо, четыре уха.



Загадка.

**Как не берегутся, а
растрясутся.**



Оля заплатила за марку две монеты по 50 копеек. Сколько стоила марка?

Сегодня на уроке:

Рубль. Копейка



Узнаем, сколько копеек в 1 рубле.

16

Рубль, копейка - это денежная единица.



$100 \text{ копеек} = 1 \text{ рубль}$

$1 \text{ рубль} = 100 \text{ копеек}$

- Как можно набрать 1 р. одинаковыми монетами?





=






=





=





3. Сколько монет и сколько копеек в каждом кошельке?





?

50 к. ○ 5 к.

100 к. ○ 1 р.

1 к. ○ 1 р.

4. У Иры было две монеты: 5 р. и 2 р. На покупку тетрадей она израсходовала 6 р. Сколько рублей осталось у Иры?

16

Было - 5 р. и 2 р.-?

Израсходовала – 6 р.

Осталось - ?

1) $5+2=7$ (м.)- было

2) $7-6=1$ (р.)- Осталось

Ответ:

№5

За лето Саша прочитал 10 книг, а Лена- на 4 книги меньше. Поставь вопрос к задаче.

Сколько книг прочитала Лена? Сколько книг прочитали Лена и Саша вместе?

Саша – 10 кн. ←
Лена- на 4 кн. < |
Лена- ?

- 1) $10-4=6$ (кн.)- Прочитала Лена
- 2) $10+6=16$ (кн.) – Прочитали вместе

Ответ: