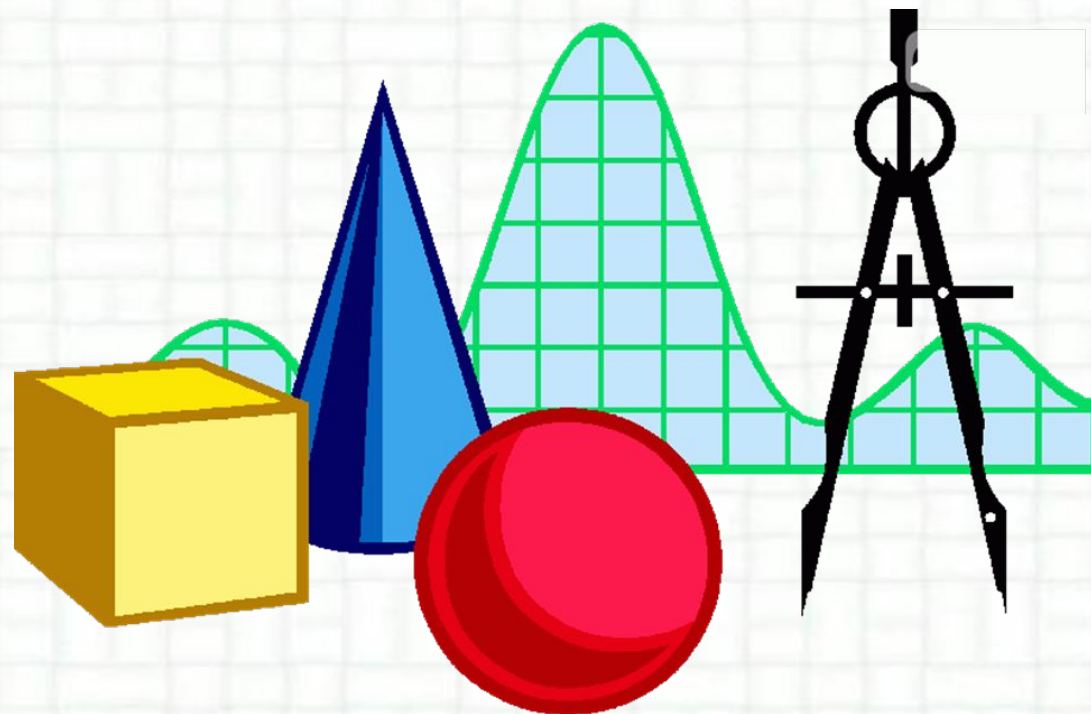


Математика

1 класс

Объёмные и плоские фигуры.



Чем похожи все
эти числа?
Какое число
лишнее?
Почему?

Запишите все
нечётные
числа от 10
до 20

20 апреля.
Классная работа.

12 16 10 14 18

11 13 15 17 19

Записать числа ответов в порядке возрастания.

$35+4 = 39$ Е

$62-60 = 2$ П

$40+20 = 60$ Т

$28-4 = 24$ Е

$25+10 = 35$ М

$60-30 = 30$ Д

$50+24 = 74$ Ы

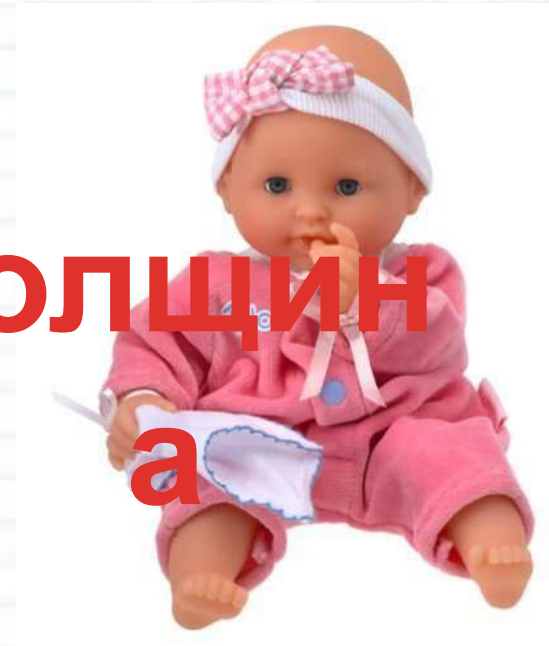
$24-3 = 21$ Р



Какой предмет лишний? Почему?



ТОЛЩИНА
а



Сравним учебник и тетрадь.

Что у них разное?



Как называются предметы,
у которых есть толщина?

У всех предметов, которые нас окружают, есть толщина. Предметы, толщина которых почти незаметна, называют **плоскими**. Предметы, которые имеют заметную толщину, называют **объёмными**.



Какие предметы можно назвать объёмные? Плоские?

П
л
о
с
к
и
е



ТОЛЩИН

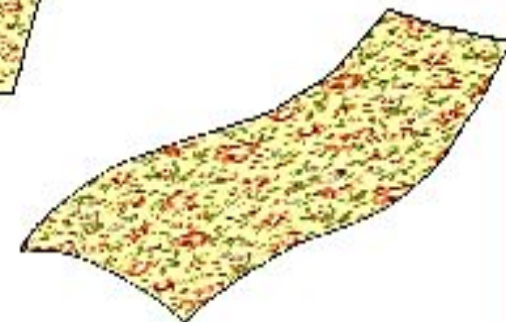

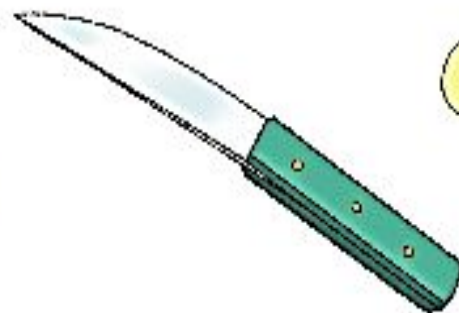
а



О
б
ъ
ё
м
н
ы
е

№3. Стр.118

3. Какие предметы можно назвать плоскими?

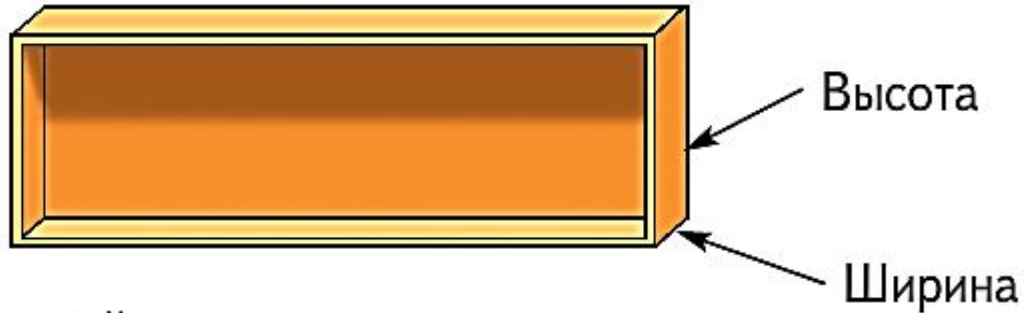


- Приведи примеры плоских и объёмных предметов.



Задача 5.стр.119

Высота книжной полки 35 см. Ширина полки на 10 см меньше высоты.



Найди ширину книжной полки.

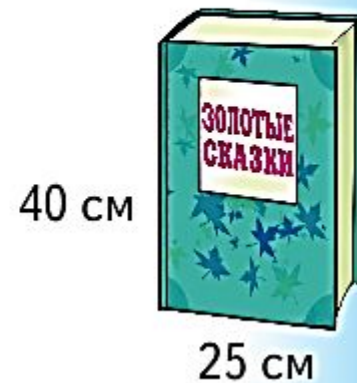

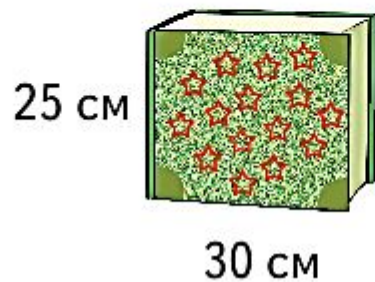
$$35 - 10 = 25 \text{ (см)}$$

Ответ: ширина полки 25 сантиметров.





Можно ли на эту книжную полку
поставить такие книги:



Высота 35 см

Ширина 25 см

М



Домашнее задание:

**Выполнить карточки на
Учи.ру**



Спасибо за урок

