

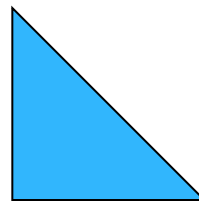
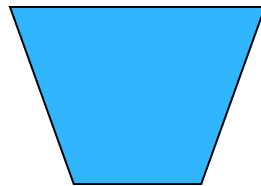




Математика 3 класс.




Какая фигура лишняя?



Логическая задача.

Часто знает и дошкольник,
Что такое треугольник.
А уж вам-то как не знать?
Но совсем другое дело-
Быстро, точно и умело
Треугольники считать.
Например, в фигуре этой
Сколько разных?
Рассмотри!
Всё внимательно исследуй
И по краю и внутри.



ЗАДАЧА

К трём зайчатам в час обеда

Прискакали два соседа.


В огороде зайцы сели

И по семь морковок съели.

Кто считать, ребята, ловок,

Сколько съедено морковок?

$$(3+2) \cdot 7=35 \quad \bullet$$





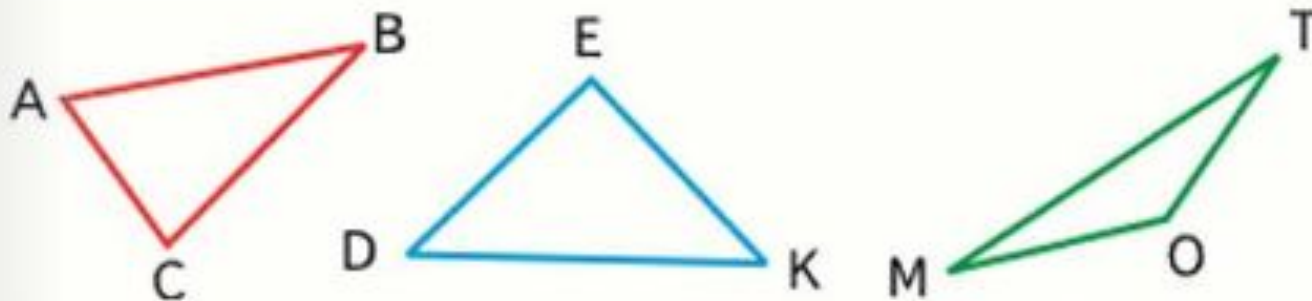
Виды треугольников по названию углов

<https://resh.edu.ru/subject/lesson/6234/start/218613/>

Тренировочные задания выполнять не нужно

Работа по учебнику с. 85

Будем учиться различать треугольники по видам их углов.



Рассмотрим чертёж. В треугольнике ABC все углы острые. Такой треугольник называют **остроугольным**. В треугольнике DEK есть прямой угол. Такой треугольник называют **прямоугольным**. В треугольнике OMT есть тупой угол. Такой треугольник называют **тупоугольным**.

Работа по учебнику с. 85

Выполнить письменно в тетради
№1, №4 (2 и 3 столбики),
задание под красной чертой.

Домашнее задание карточки
яндекс учебник