



# Математическая игра



Учитель математики МБОУ «Гимназия №6» г. Брянска  
КУДРЯВЦЕВА З.Н.







## Аннотация

- При правильном ответе, Машенька уносит его с собой.
- Ошибочный ответ останется на месте.



**Выберите из представленных  
фигур треугольник**



**Выберите число кратное 5**

**12**

**5**

**10**

**1**



У Матвея было 9 конфет. Он отдал брату конфет на одну больше, чем оставил себе. Сколько конфет оставил себе Матвей?

4

5

8

10



# РЕБУС



Сто пней

Ступенька

Степень



**СПАСИБО ЗА ВНИМАНИЕ!**

