



Wie spät ist es?

Es ist...




Wie spat ist es?

Es ist zwei Uhr



Wie spät ist es?

Es ist drei Uhr



WIE SPÄT IST ES ?



Es ist 5 (Minuten)
nach 3

WIE SPÄT IST ES ?



Es ist 10(Minuten)
nach 4

WIE SPÄT IST ES ?



Es ist Viertel
nach 4

15 Minuten = Viertel

WIE SPÄT IST ES ?



Es ist halb 5

30 Minuten = halb

WIE SPÄT IST ES ?



Es ist 10(Minuten)
vor 12

WIE SPÄT IST ES ?



Es ist 5 (Minuten)
vor 12

7:00 Es ist 7 Uhr

WIE SPÄT IST ES ?



Es ist Viertel vor
11

9.55

12.30

10.15

4.20

2.07


3.47

1.30

6.50

5.45

7.00



Uhrzeit	Montag	Dienstag	Mittwoch	Donnerstag	Freitag
7:55	Deutsch	Französisch	Biologie	Religion	Mathe
8:40	Englisch	Musik	Geschichte	Physik	Mathe
9:40	Sport	Geschichte	Mathe	Französisch	Englisch
10:25	Sport	Mathe	Englisch	Französisch	Chemie
11:25	Religion	Physik	Erdkunde	Erdkunde	Musik
12:10	Sozialkunde	Chemie	Deutsch	Deutsch	Bio