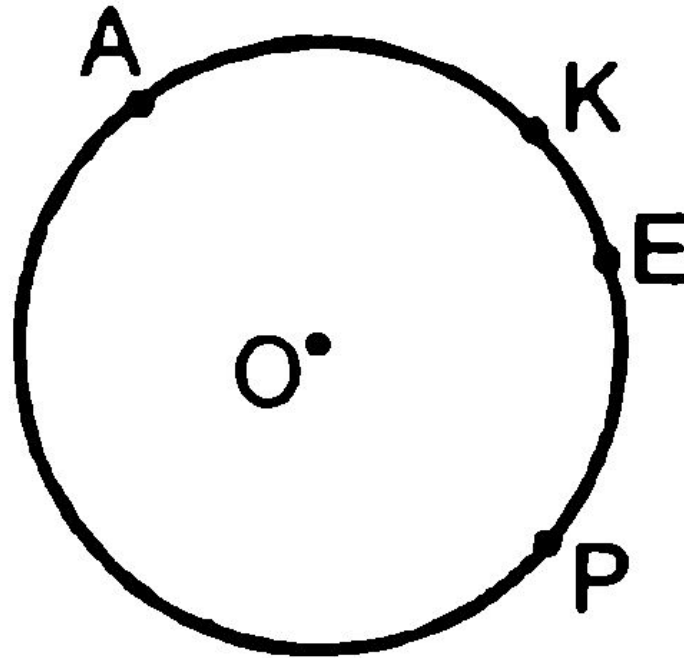


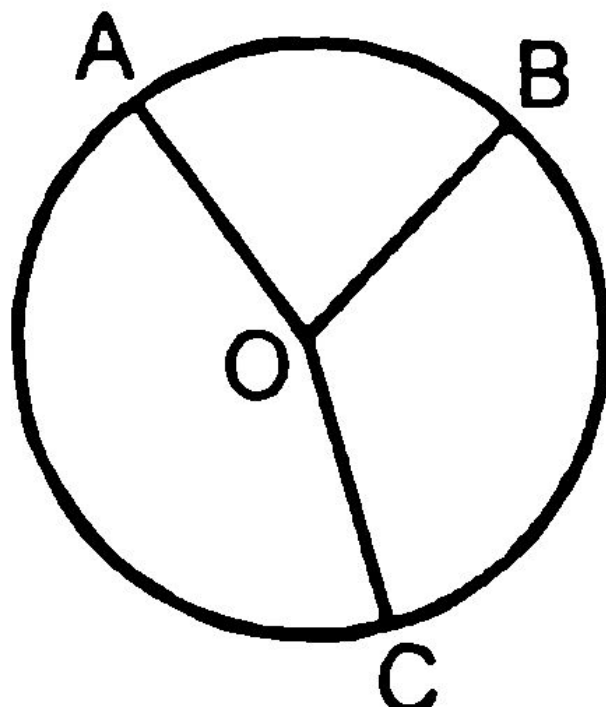
*Дано: $\cup MKE$ в два раза меньше $\cup MNE$.
Найти: $\cup MKE$, $\cup MNE$.*

$$\cup MKE = 120^\circ, \cup MNE = 240^\circ;$$



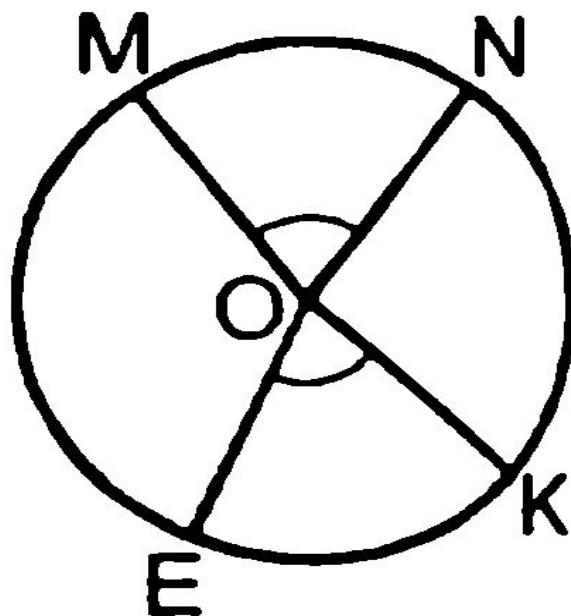
Дано: $\cup AKE$ на 140° меньше $\cup APE$.
Найти: $\cup APE$.

$$\cup APE = 250^\circ;$$



Дано: $\cup AB : \cup BC : \cup AC = 2 : 3 : 4$.
Найти: $\angle AOB$, $\angle BOC$, $\angle AOC$.

$$\angle AOB = 80^\circ, \angle BOC = 120^\circ, \angle AOC = 160^\circ;$$



Дано: $\angle MON : \angle NOK : \angle MOE = 3 : 4 : 5$.
Найти: $\cup ME$, $\cup NK$, $\cup KE$.

$$\cup ME = 120^\circ, \cup NK = 96^\circ, \cup KE = 72^\circ.$$

№ 658

