



УЧИМСЯ РЕШАТЬ СОСТАВНЫЕ ЗАДАЧИ

Тренажёр по математике для 2 класса



Выбери задание!



Уровень
1

Отдохни!
и!



Уровень
2

Уровень
3




ИНСТРУКЦИЯ!



1. Внимательно прочитай задачу!
2. Проанализируй задачу. (Что дано? Что надо узнать? Можно ли сразу ответить?)
3. Составь план решения задачи.
4. Найди в левом нижнем углу маркер красного цвета, кликни на него мышкой. Выбери карандаш или фломастер.
5. Карандашом запиши решение задачи в поле «Решение».
6. Для проверки снова иди в левый нижний угол, кликни на маркер красного цвета, выбери стрелку. Подведи стрелку на надпись «Проверка», когда появится рука, кликни мышкой. Появится проверка 
7. Чтобы перейти к следующей задаче кликни на стрелку  в правом нижнем углу.
8. После завершения работы, при закрытии тренажёра, появится окошко «Сохранить рукописные записи?», нажми на строку «Удалить».

Желаю успехов!

Для гербария Аня собрала 6 кленовых листиков, а дубовых на 2 листа больше. Сколько всего листиков собрала Аня для гербария?



- ?, на 2 >



Решение

Проверк

1) $6 + 2 = 8$ (л.)

2) $6 + 8 = 14$ (л.)

Ответ: всего 14 листиков.



Для детского сада купили 7 легковых машинок, а самосвалов на 3 меньше. Сколько всего машин купили для детского сада?



- 7 м.



- ?, на 3 м. <

? м.

Решени

е

Проверк

1) $7 - 3 = 4$ (м.)

2) $7 + 4 = 11$ (м.)

Ответ: всего 11 машин.





В соревнованиях по баскетболу команда «Орлята» забила 20 мячей, а команда «Соколы» на 5 мячей больше. Сколько всего мячей было забито в этой игре?

Решение

Проверк

а

1) $20 + 5 = 25$ (м.)

2) $20 + 25 = 45$ (м.)

Ответ: всего 45 мячей.



Маша и Витя читали книжку.
Витя прочитал 14 страниц, а
Маша на 6 страниц больше.
Сколько всего страниц
прочитали ребята вместе?



Решение

Empty rounded rectangular box for the solution.

Проверк

1) $14 + 6^a = 20$ (стр.)

2) $14 + 20 = 34$ (стр.)

Ответ: всего 34 страницы.



*Запиши решение задачи в поле «Решение» по действиям или выражением.
Проверь в поле «Проверка».*



В школьную столовую привезли 25 кг яблок и 10 кг груш. На завтрак ученикам раздали 20 кг фруктов. Сколько килограммов фруктов осталось?

Решение

Проверка

$$1) 25 + 10 = 35 \text{ (кг)}$$

$$2) 35 - 20 = 15 \text{ (кг)}$$

Ответ: осталось 15 кг.

$$(25 + 10) - 20 = 15 \text{ (кг)}$$





В школьном парке росло 20 саженцев деревьев. Ребята посадили ещё 12 саженцев берёзы и столько же саженцев елей. Сколько всего саженцев будет расти в парке?

Решение

Проверка

1) $12 + 12 = 24$ (с.) – ещё посадили.

2) $20 + 24 = 44$ (с.)

Ответ: будет расти 44 саженца.

$$20 + (12 + 12) = 44 \text{ (с.)}$$





В конструкторе 55 деталей. Для строительства городка ребята взяли сначала 25 деталей, а потом ещё 20 деталей. Сколько деталей осталось в конструкторе?

Решение



Проверка

1) $25 + 20 = 45$ (д.) – всего взяли.

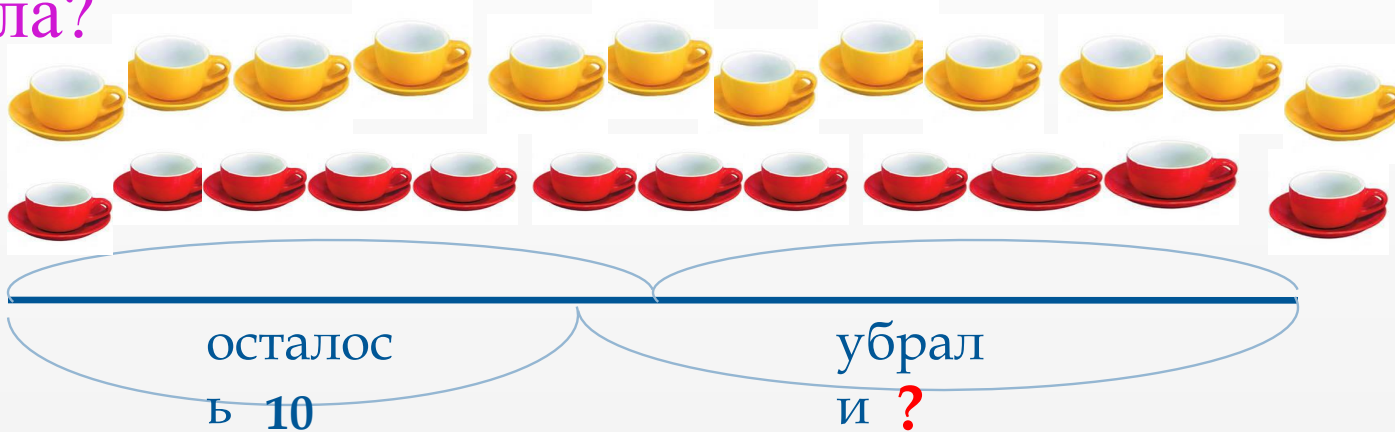
2) $55 - 45 = 10$ (д.)

Ответ: осталось 10 деталей.

$55 - (25 + 20) = 10$ (д.)



На столе стояло 12 красных чашек и столько же жёлтых чашек. Когда убрали несколько чашек, осталось 10 чашек. Сколько чашек убрали со стола?



Решение

Проверка

1) $12 + 12 = 24$ (ч.) – было всего

2) $24 - 10 = 14$ (ч.)

Ответ: убрали 14 чашек.

$12 + 12 - 10 = 14$ (ч.)



Девочки прыгали через скакалку.
Таня прыгнула 40 раз, Лена на 8 раз
больше, чем Таня, а Вика на 2 раза
меньше, чем Лена. Сколько раз
прыгнула через скакалку Вика?



Решение

Проверка

1) $40 + 8 = 48$ (р.) – Лена.

2) $48 - 2 = 46$ (р.)

Ответ: Вика прыгнула 46
раз.



В зооуголке было 15 волнистых попугайчиков, горлиц на 3 больше, чем попугайчиков, а канареек на 9 меньше, чем попугайчиков. Сколько канареек было в зооуголке?



Решение

Проверка

1) $15 + 3 = 18$ (пт.) –
горлицы.

2) $15 - 9 = 6$ (пт.)

Ответ: было 6 канареек.



СОСТАВЬ ПО КРАТКОЙ ЗАПИСИ ЗАДАЧУ И РЕШИ ЕЁ



- 12 м.



- ?, на 5 м. меньше, чем



- ?, на 8 м. больше, чем



Решение

Blank rounded rectangular box for writing the solution.

Проверка

1) $12 - 5 = 7$ (м.) -
футбольные.

2) $7 + 8 = 15$ (м.)

Ответ: 15 резиновых мячей.

$(12 - 5) + 8 = 15$ (м.)



СОСТАВЬ ПО КРАТКОЙ ЗАПИСИ ЗАДАЧУ И РЕШИ ЕЁ



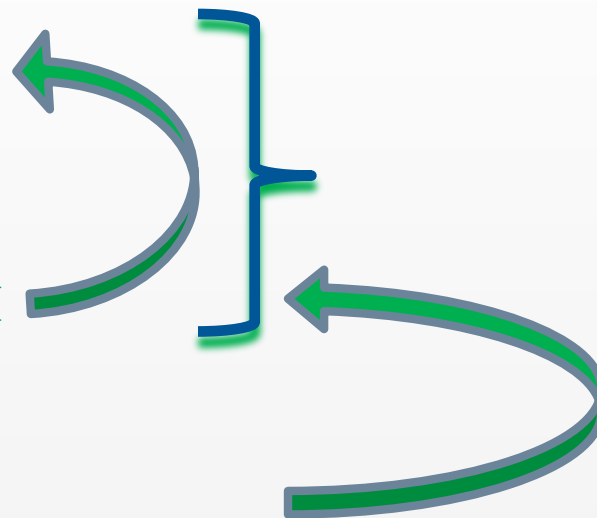
- 25 ш.



- ?, на 5 ш. <, чем



- ?, столько же



Решение

Blank box for the solution.

Проверка

1) $25 - 5 = 20$ (ш.) - синих.

2) $25 + 20 = 45$ (ш.)

Ответ: 45 красных шариков.

$25 + (25 - 5) = 45$ (ш.)





Отдохни!

