


Определите неизвестное число. Как вы его получили?

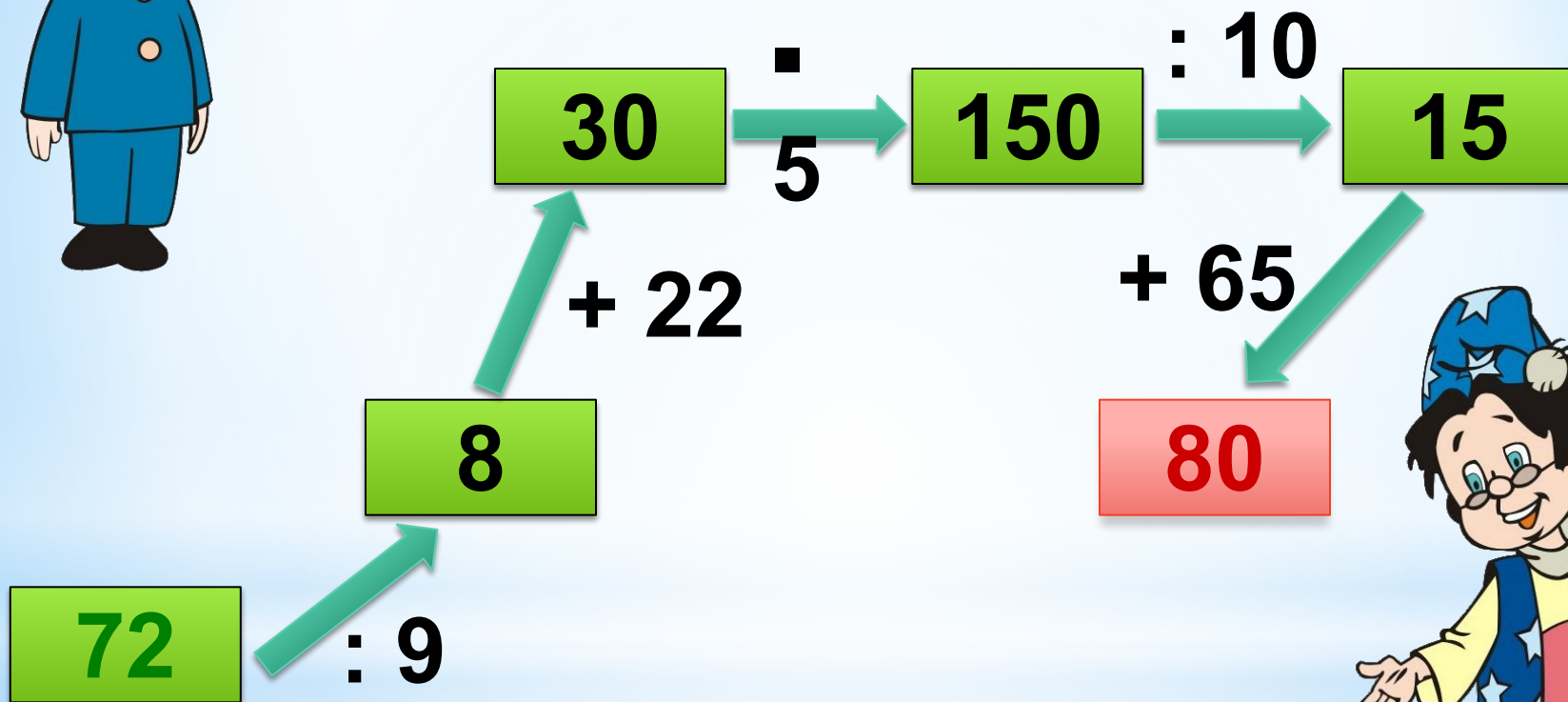


20

21

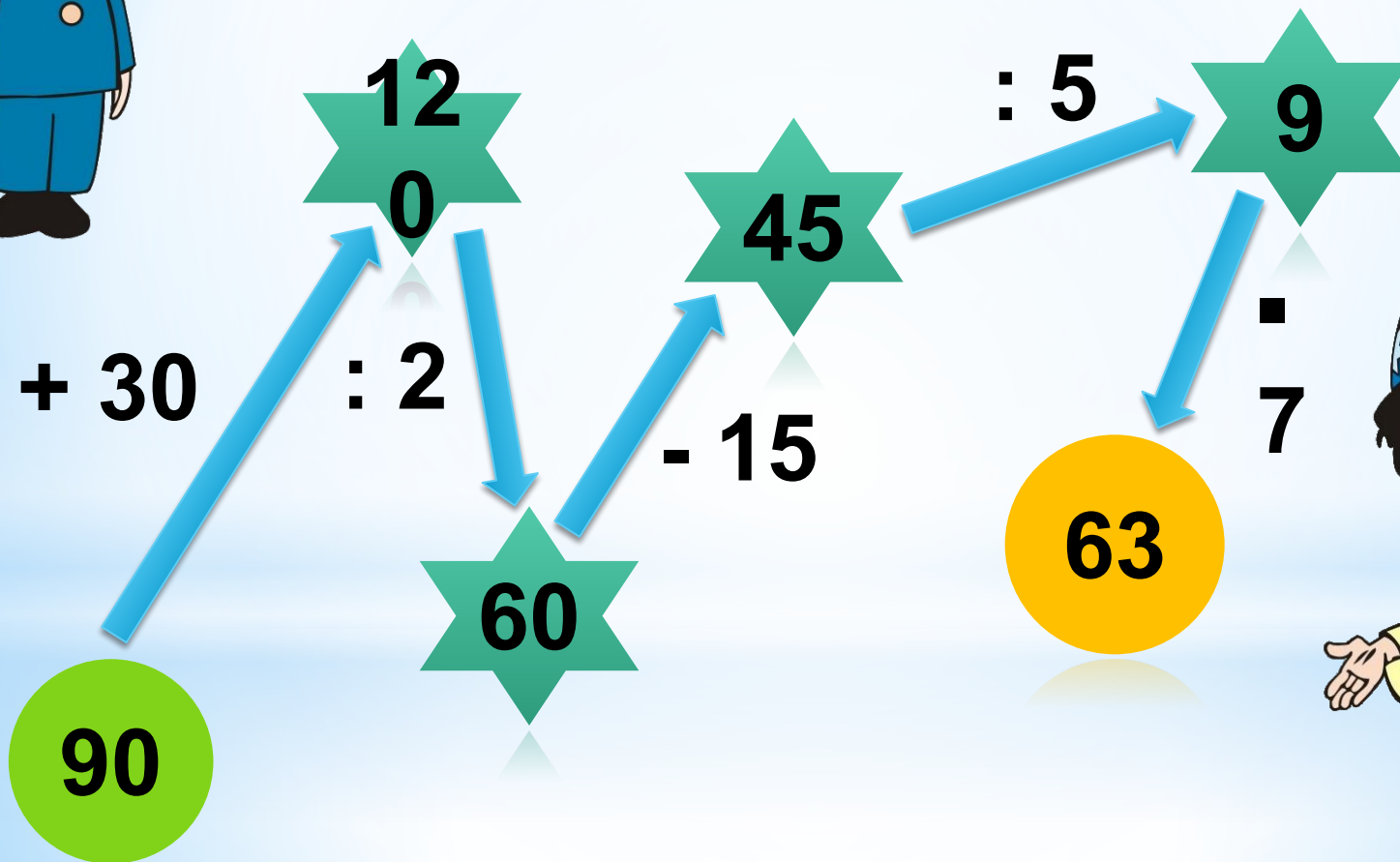
19

Заполните схему






Заполните схему



Найдите среди предложенных рядов чисел натуральный



0, 1, 2, 3...

1, 4, 7,

10...

1, 2, 3, 4...



Укажите числа, расположенные
в порядке возрастания




25, 38, 45, 73,
22...

14, 26, 84, 97,
105...

215, 96, 58, 36,
12...





Выберите правильный ответ,
сравнив числа и величины


3 км 10 м и 3 000 м

3 км 10 м = 3 000 м

3 км 10 м < 3 000 м

3 км 10 м > 3 000 м





Выберите правильный ответ,
сравнив числа и величины

5 ч и 300 мин

5 ч = 300 мин

5 ч < 300 мин

5 ч > 300 мин



Найдите и исправьте ошибки



$$322 < 325$$

$$5\ 555 < 55\ 555$$

$$3\ 624 = 3\ 624$$

$$15\ 024 < 15\ 204$$



Интернет-источники

http://www.vector.tver.ru/rusmult_files/original_images/p0000047.jpg (звездочёт)

http://www.vector.tver.ru/rusmult_files/original_images/p0000002.jpg (Вовка)