

Математика

Сегодня на уроке:



**«Сложение и вычитание в  
пределах 20.  
Повторение.**

Какой сегодня день  
недели?



Месяц?

Число?

Назовите самое маленькое  
число, самое большое.

2, 11, 14, 13, 17, 16.

Расположите их в порядке  
увеличения.



2, 11, 13, 14, 16, 17

**Сравните числа:**

**16 < 19**

**Назовите другие пары чисел,  
чтобы первое было меньше  
второго.**

Какое число называют  
при счете


перед числом 18??




15



Какие яблоки упали с этого дерева?



Поставьте в примере  
пропущенное число:





Поставьте в примере  
пропущенное число:

$$164 + 6 = 182$$

Угадайте знак и  
пропущенное число:

$$16 * \boxed{8} = 174$$

Не решая примеров,  
скажите, где ответ больше  
или меньше? Почему?

$$18 + 9$$

$$18 - 9$$

А теперь задача шутка,  
только на одну минутку!



- По траве бежал котенок,  
А за ним бежал щенок.  
Кто, ребята, сосчитает,  
Сколько там бежало ног?

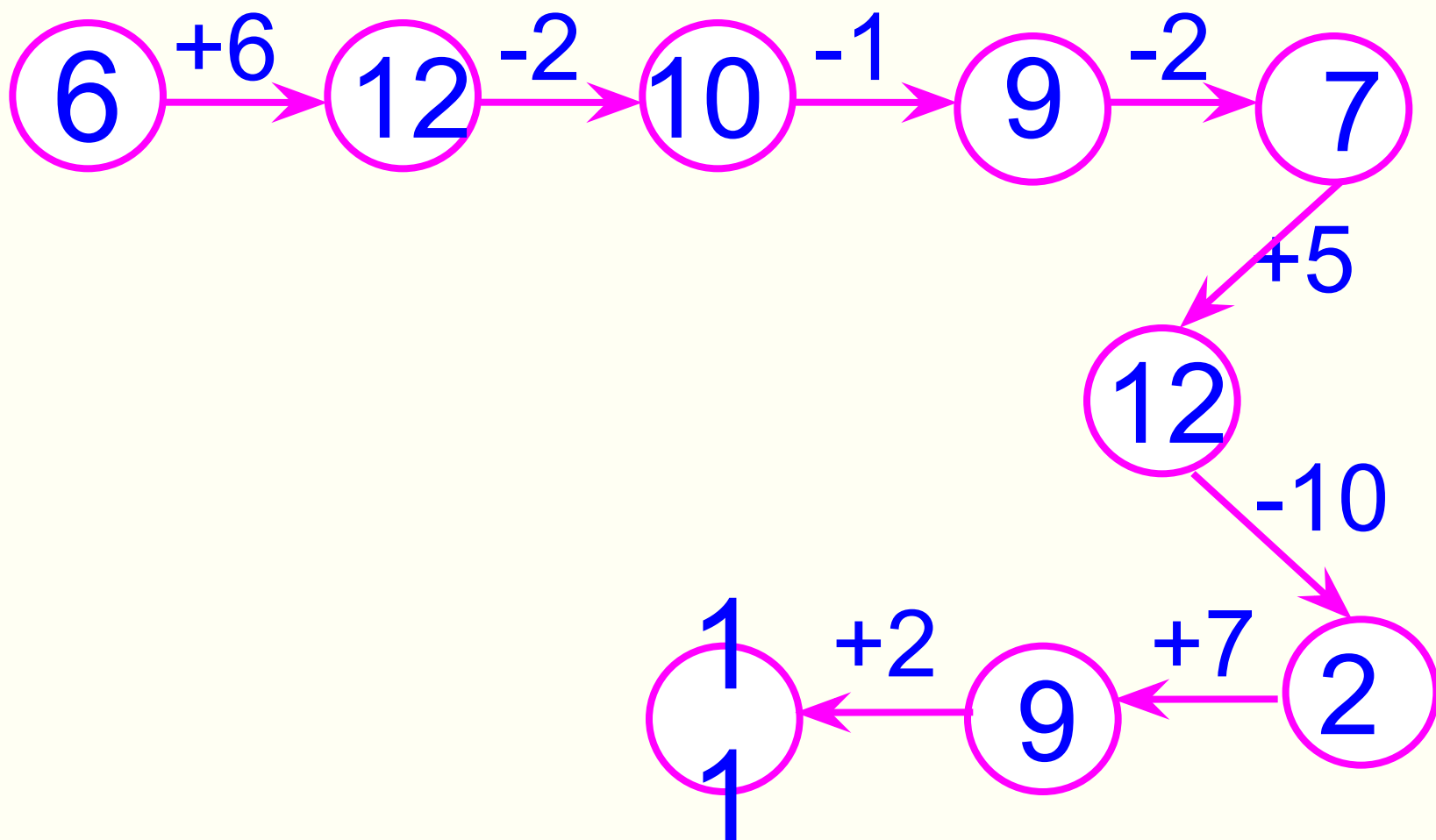
8



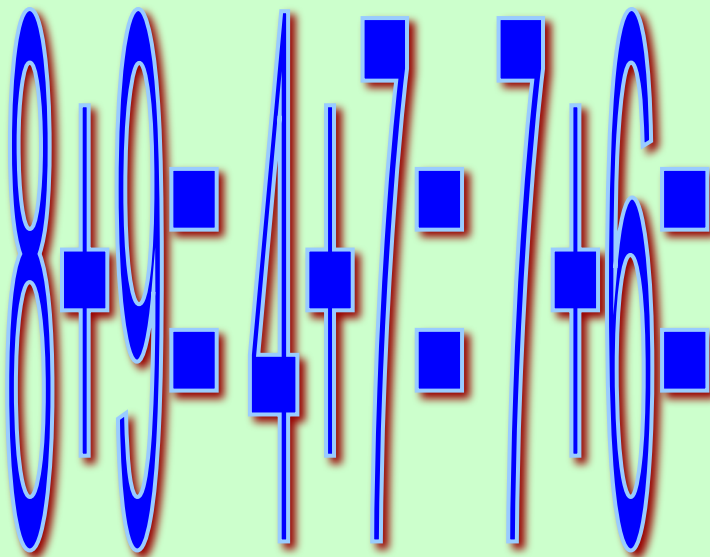
# А теперь поиграем!

## Игра «Цепочка»

Помогите слоненку. Он добрый и смешной, хочет с вами подружиться.



# Помогаем «Незнайке» (исправь ошибку)



16

12

13

# Игра

## «Кто самый внимательный?»

Определить, сколько  
здесь квадратов.







# Молодцы !



<https://infourok.ru/prezentaciya-po-matematike-na-temu-slozhenie-i-vichitanie-v-predelah-zakreplenie-kl-707503.html>