

Африка

Субрегионы Африки.



Цели урока:

- Рассмотреть территориальное деление Африки на субрегионы.
- Раскрыть образ и самобытность регионов Африки
- Раскрыть причины особенностей современного этапа экономического развития африканских регионов.
- Выяснить причины особенного положения ЮАР в экономике Африки.

Выдели правильный ответ.

- Самая крупная по населению страна Африки... Египет, Эфиопия, Нигерия, ЮАР.
- Важнейшими видами полезных ископаемых Северной Африки являются... уголь, железная руда, бокситы, нефть, природный газ, фосфориты.
- К числу наименее развитых стран Африки относятся... Алжир, Эфиопия, Чад, Нигер, ЮАР.
- Главными экспортными с/х культурами Африки являются... пшеница, рис, хлопчатник, цитрусовые, кукуруза, кофе, какао, каучук, сизаль.

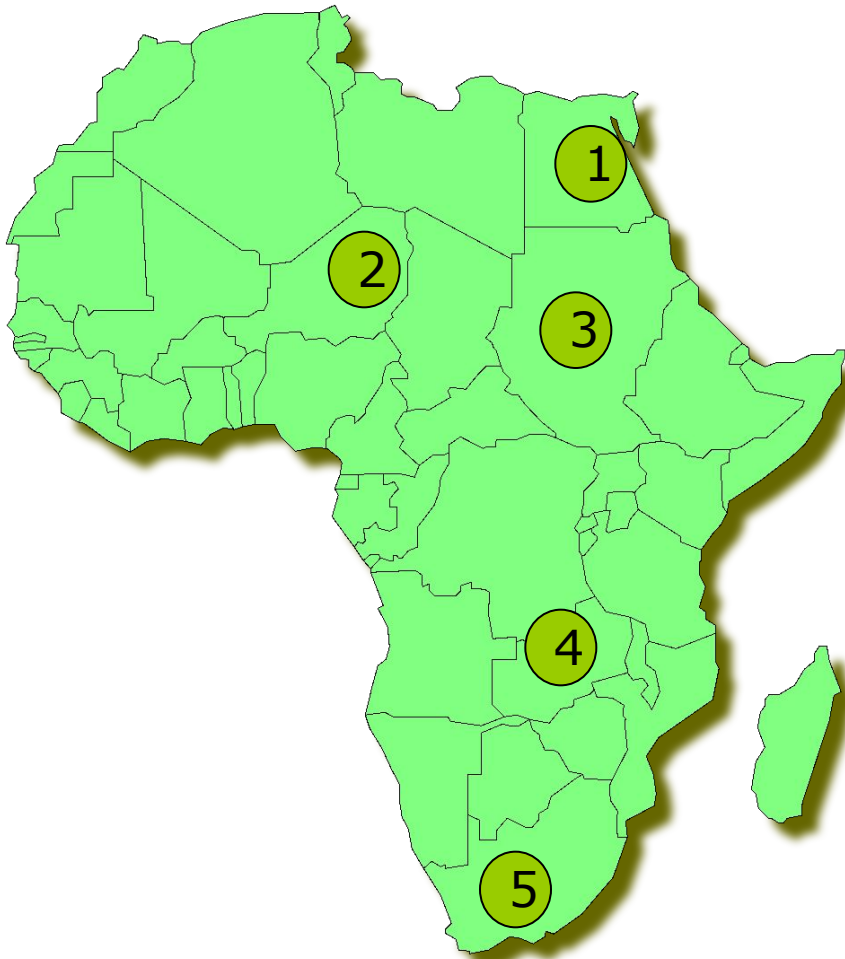
Установи соответствие.

-
- Нигерия
 - ЮАР
 - Алжир
 - Мадагаскар
 - Лесото
 - Замбия
- Медный пояс
 - Островное государство
 - Монархия
 - Режим апартеида
 - Запасы нефти
 - 1 место по численности населения

Выберите правильный ответ:

- Большинство стран Африки добилось независимости во второй половине XX в.
- Африка - регион самой высокой рождаемости и самой высокой смертности в мире.
- Для стран Африки характерны высокие темпы урбанизации.
- Главная отрасль специализации Нигерии - лесное хозяйство.

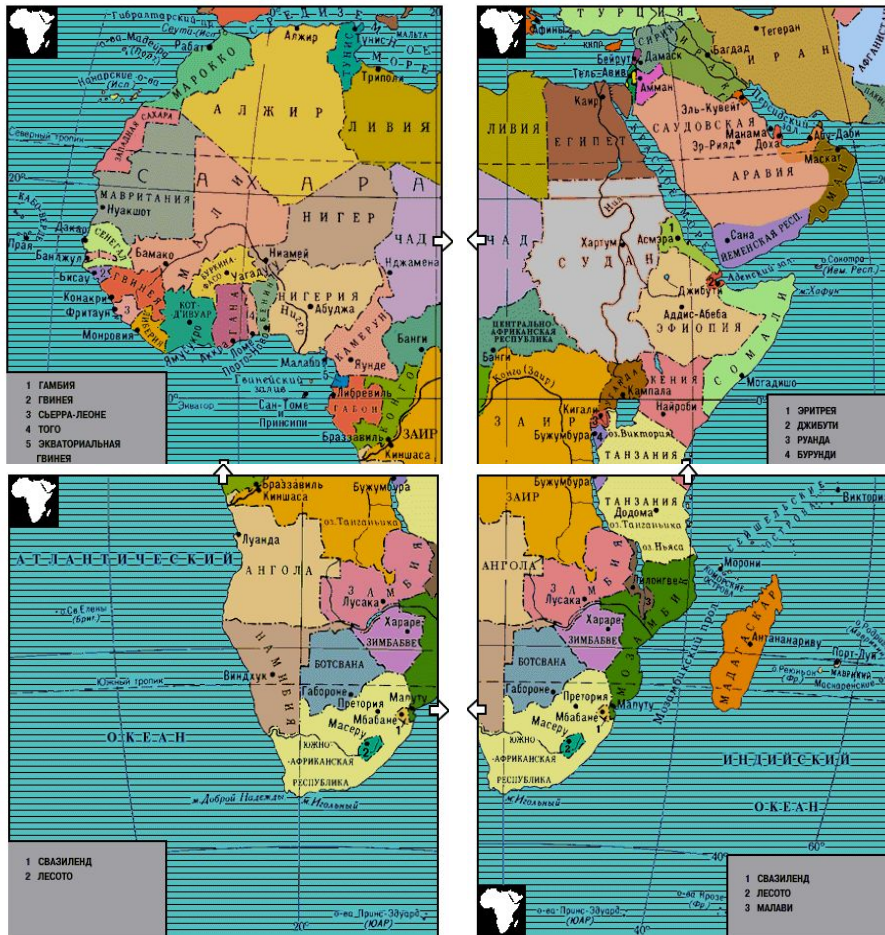
Определите где находятся...



- «Медный пояс»
- Крупнейшее по площади государство
- Внутриконтинентальное государство.
- Государство наиболее посещаемое туристами.
- Государство наиболее богатое минеральными ресурсами

Субрегионы Африки.

Экономическое районирование Африки ещё не сложилось окончательно.



Почему?



Субрегионы Африки.




Южная Африка




Восточная Африка



Северная Африка



Западная Африка



Центральная Африка

Северная Африка.

- Площадь около 10 млн. км²
- Население 170 млн. человек



VII-XII вв.

арабская колонизация

XII-XX вв.

колонизация
европейских государств

Арабский тип города.



- Касба - укрепление, цитадель.
- Медина - старый город.
- Современная часть города.

Рекреационные ресурсы северной Африки.



Как оптимальнее
развивать?






Как вывести
хозяйственную жизнь
региона за пределы
приморской полосы?



Тропическая Африка.

- Площадь около 20 млн. км²
- Население 650 млн. человек.
- Основная сфера деятельности сельское хозяйство.



Проблемы тропической Африки.

- В мировом хозяйстве самая отсталая часть всего развивающегося мира (29 стран)
- Натуральное и малотоварное сельское хозяйство. (засухи, муха це-це)
- Наименее индустриализированный регион мира.
- Отсталая транспортная сеть.
- Ухудшающаяся экология (опустынивание, обезлесение)

Почему?





ЮАР.



- Площадь территории 1221 тыс.км² (5,5 %)
- Численность населения 45 млн. чел.(7%)
- 65 % ВВП
- 50 % продукции обрабатывающей промышленности
- 50 % автопарка



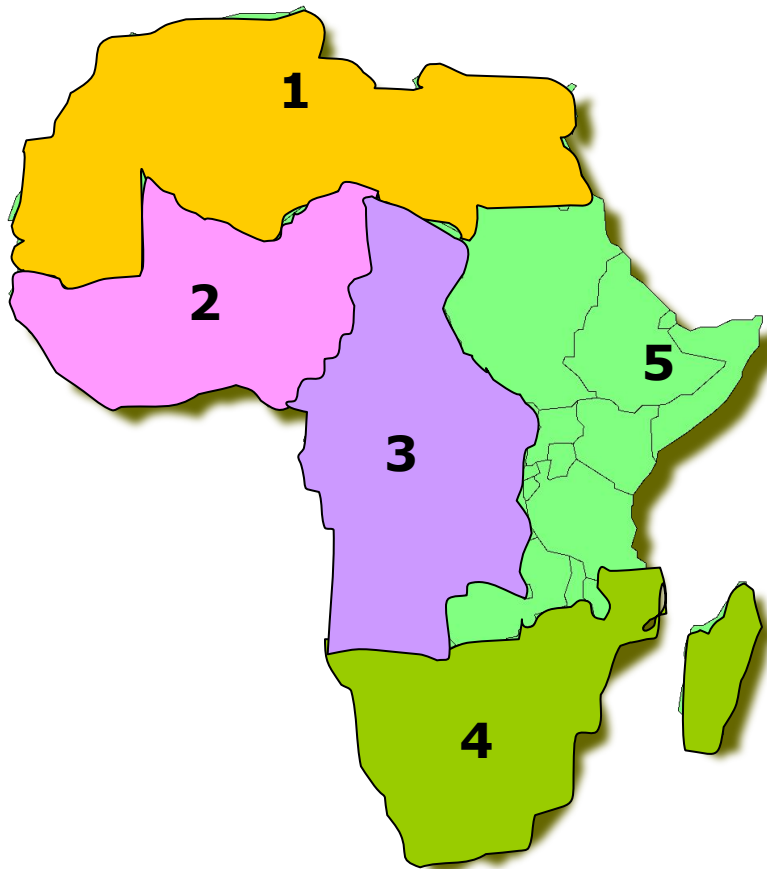
1. Страна, где на 4 % территории сосредоточено 98% населения.

1. ЮАР
2. Египет
3. Эфиопия
4. Нигерия

2. Крупнейший в Африке
производитель и экспортёр нефти,
член ОПЕК.

1. Конго
2. ЮАР
3. Алжир
4. Мадагаскар

3. Регионы Африки - установите соответствие.



А

Южная Африка

Б

Восточная Африка

В

Северная Африка

Г

Западная Африка

Д

Центральная Африка

4. Установите соответствие.

- | | |
|---------------------|--------------|
| 1. Нефть | □ А. Конго |
| 2. Медь | □ Б. Либерия |
| 3. Золото | □ В. Алжир |
| 4. Железная
руда | □ Г. ЮАР |

5. В каком варианте правильно перечислены страны принимающие наибольшее количество туристов.

1. Эфиопия, Судан, Коморские о-ва.
2. Египет, Тунис, Кения.
3. Гана, Нигер, Танзания.
4. ЮАР, Намибия, Конго.

6. Какая из перечисленных стран не является монархией.

1. Марокко.
2. Лесото.
3. Свазиленд.
4. Ливия.

7. В состав какого региона Африки входят страны: Конго, Габон, Чад, Ангола, Камерун.

1. Южная Африка.
2. Северная Африка.
3. Западная Африка.
4. Центральная Африка.

8. Почему ЮАР называют страной с двойной экономикой

1. Ей присущи черты экономически развитых и развивающихся стран.
2. Экономика побережья отличается от экономики глубинных районов.
3. Стране присущи развитая промышленность и отсталое сельское хозяйство.

9. На долю ЮАР приходится:

1. 7% населения, $\frac{2}{3}$ ВВП.
2. 15% населения, $\frac{1}{2}$ ВВП.
3. 25% населения, $\frac{3}{4}$ ВВП.

10. «Трагедией Сахеля» являются периодически повторяющиеся:

1. Засухи
2. Наводнения
3. Заморозки
4. Землетрясения