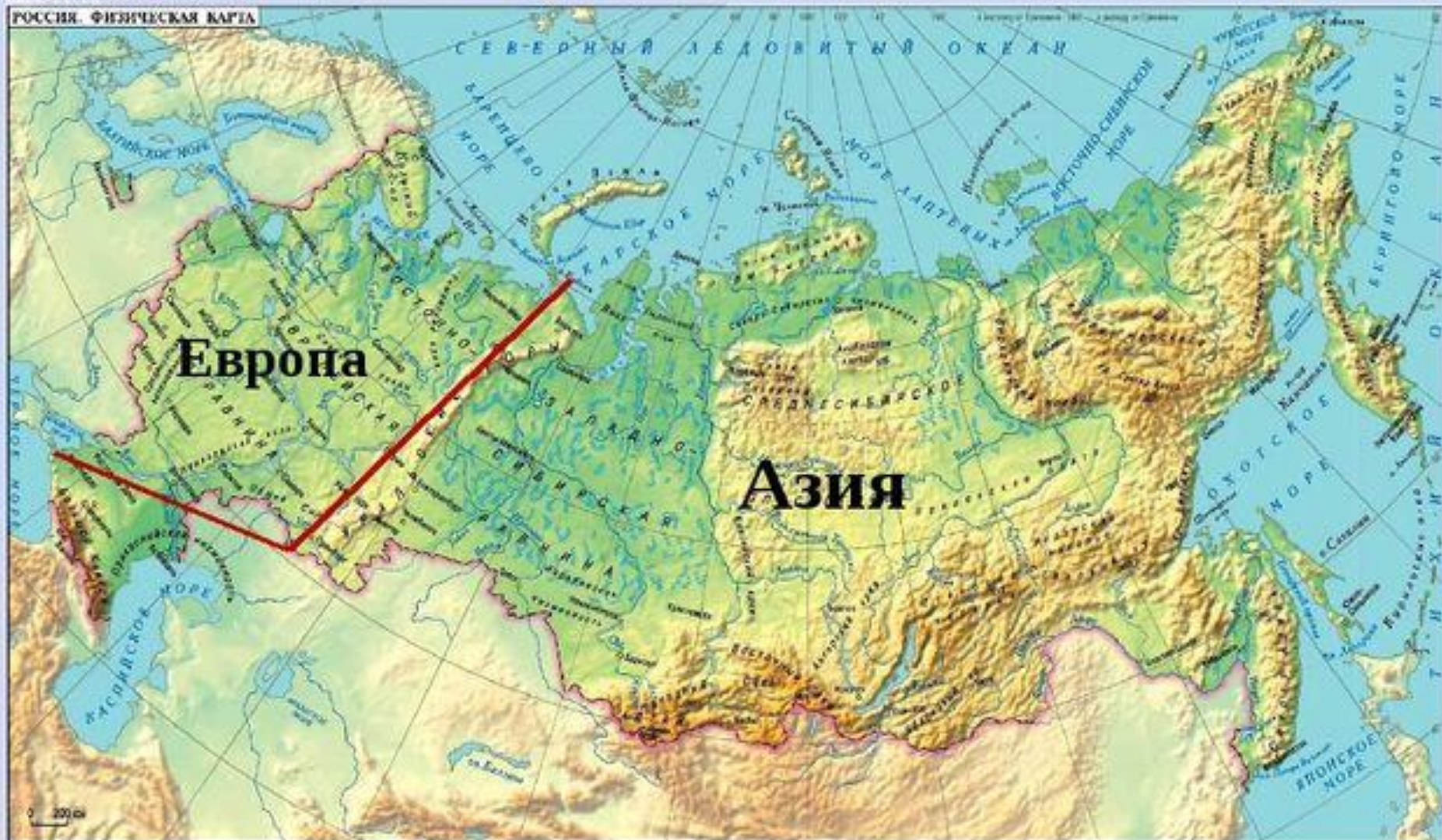


**Тема**  
**Географические**  
**открытия 17-19 вв.**  
**Исследование и открытие**  
**территорий Евразии,**  
**России.**

# Россия

Касаясь трех великих океанов,  
Она лежит, раскинув города,  
Покрыта сеткою меридианов,  
Непобедима, широка, горда.

РОССИЯ. ФИЗИЧЕСКАЯ КАРТА



Европа

Азия


Ермак  
Тимофеевич -  
казачий атаман  
(ок.1542-1585)



Хабаров-  
Святитский  
Ерофей Павлович  
- исследователь,  
путешественник и  
предприниматель  
(ок. 1603-1671)



Дежнёв Семен  
Иванович - русский  
мореход, землепроходец,  
путешественник,  
исследователь, казачий  
атаман, торговец  
пушниной. ок. 1605-1673




Беринг Витус Ионассен

- (Иван Иванович

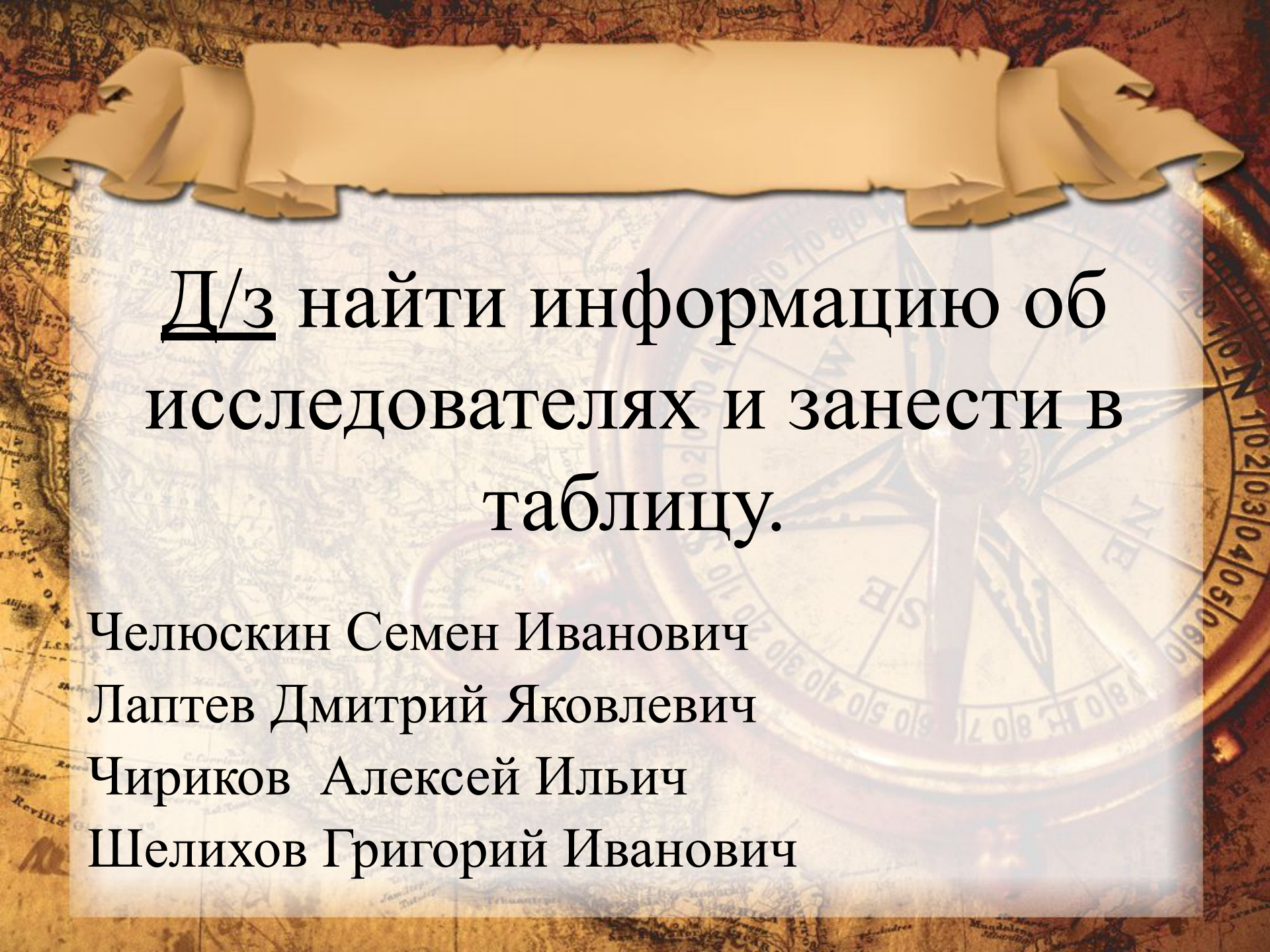
Беринг), мореплаватель,  
офицер русского флота,  
капитан-командор. По  
происхождению  
датчанин.

(1681-1741)



Лаптев Харитон  
Прокофьевич -  
полярный  
исследователь  
(1700-1763 )



The background features a vintage-style map with various geographical labels and a large, semi-transparent compass rose. A scroll of aged parchment is positioned at the top, with the main text centered on a light-colored rectangular area.

Д/з найти информацию об  
исследователях и занести в  
таблицу.

Челюскин Семен Иванович  
Лаптев Дмитрий Яковлевич  
Чириков Алексей Ильич  
Шелихов Григорий Иванович





# Тест

1. В каких частях света расположена современная территория России?

- а) в Европе
- б) в Африке
- в) в Азии
- г) в Америке



2. Территорию России омывают моря

а) Тихого океана

б) Атлантического океана

в) Индийского океана

г) Северного Ледовитого океана



3. Русские путешествовали в основном по своей стране, потому что

1) наша страна обладает большими природными богатствами

2) горы, реки, озёра нуждались в изучении и нанесении на карту

а) правильно только 1

б) правильно только 2





5. Первым прошел пролив между Евразией и Северной Америкой

а) Семен Дежнев

б) Витус Беринг

в) Алексей Чириков



6. Выберите географические объекты, по территории которых проходила экспедиция Семёна Дежнёва.

- а) река Колыма
- б) река Анадырь
- в) полуостров Аляска
- г) Тихий океан
- д) Северный Ледовитый океан



7. «Коломбами Росскими» называют

а) Витуса Беринга и Афанасия Никитина

б) Афанасия Никитина и Семёна Дежнёва

в) Витуса Беринга и Алексея Чирикова



8. Как назывались корабли экспедиции Беринга и Чирикова?

- а) «Святой Илья»
- б) «Святой Павел»
- в) «Святой Николай»
- г) «Святой Петр»









11. Установите соответствие между географическим объектом и его названием.

**ГЕОГРАФИЧЕСКИЙ  
ОБЪЕКТ**

- 1) остров
- 2) пролив
- 3) мыс
- 4) река
- 5) полуостров

**НАЗВАНИЕ  
ГЕОГРАФИЧЕСКОГО  
ОБЪЕКТА**

- а) Камчатка
- б) Беринга
- в) Берингов
- г) Анадырь
- д) Дежнёва



# ОТВЕТЫ

1. а, в

2. а, б, г

3. б

4. а

5. а

6. а, б, г, д

7. в

8. б, г

9. б

10. б, в, г

24 – 21 - «5»

20 – 17 – «4»

16 - 13 – «3»

12 и менее – «2»