

# ЮЖНЫЕ МАТЕРИКИ

A giraffe is visible in the background, partially obscured by the large, stylized text. The giraffe is standing in a savanna-like environment with dry grass and scattered trees under a clear sky. The text 'ЮЖНЫЕ МАТЕРИКИ' is written in a bold, orange-to-red gradient font with a white outline, positioned centrally across the image.

*Сердце Африки  
полно и пыланья,  
И я знаю, что, если мы видим порой  
Сны, в которых найти не умеем названья,  
Это ветер приносит их, Африка, твой!*

*Б. Пиляцкий*







# Плавание Египтян и арабов



# Древняя карта Африки



# **План географическое положение материка**

**1. Определить положение материка на градусной сетке:**

**а) положение относительно экватора и нулевого меридиана, в каком полушарии находится и в какой его части**

**б) между какими градусами широты расположен, координаты крайних северной и южной точек, протяженность с севера на юг в градусах и километрах**

**2. Определить положение материка относительно других объектов:**

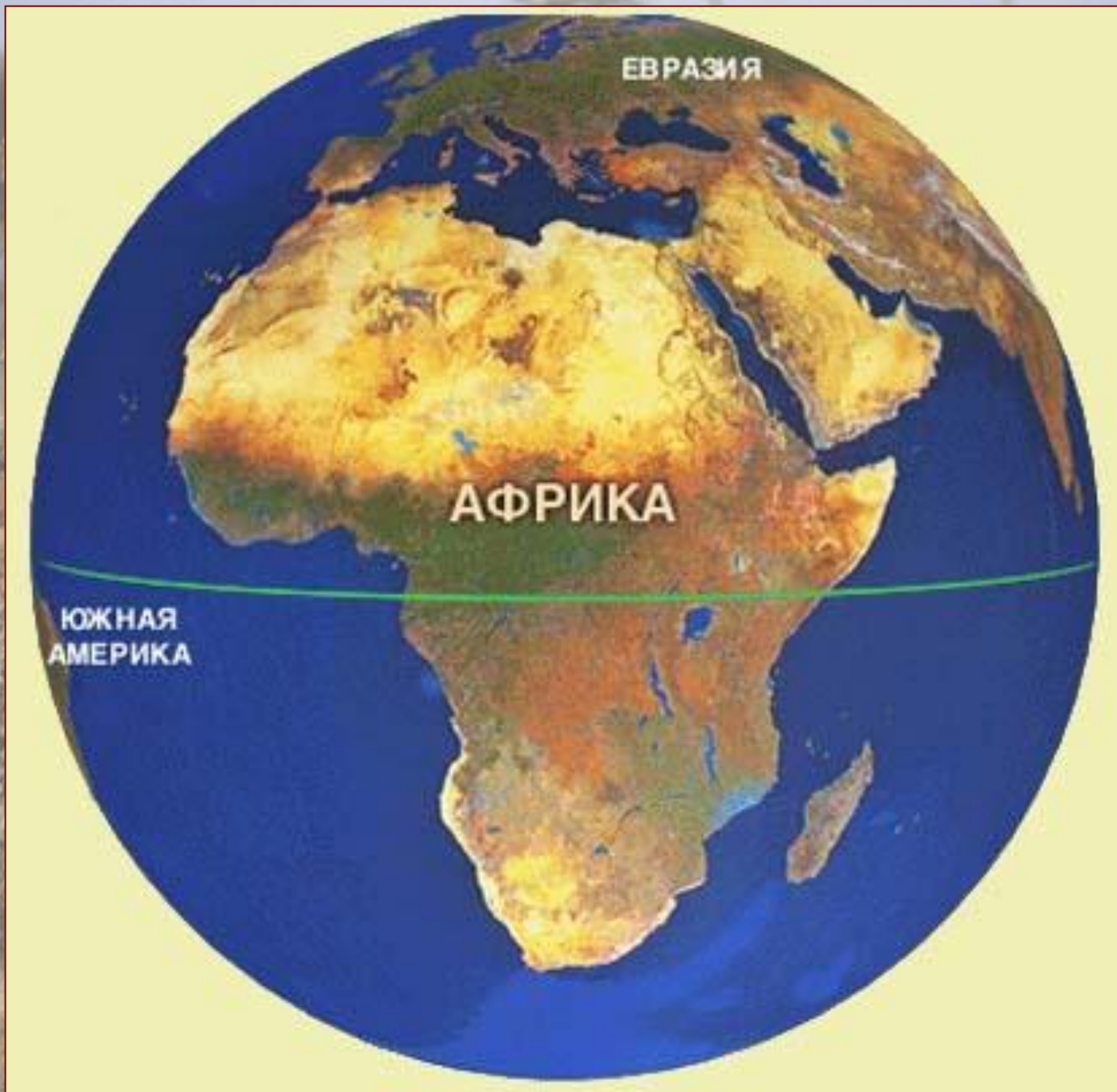
**а) какие материки расположены поблизости, в каком направлении, как отделяются**

**б) океаны, образованные ими моря, заливы, проливы, омывающие материки, характер береговой линии**

# Площадь материка



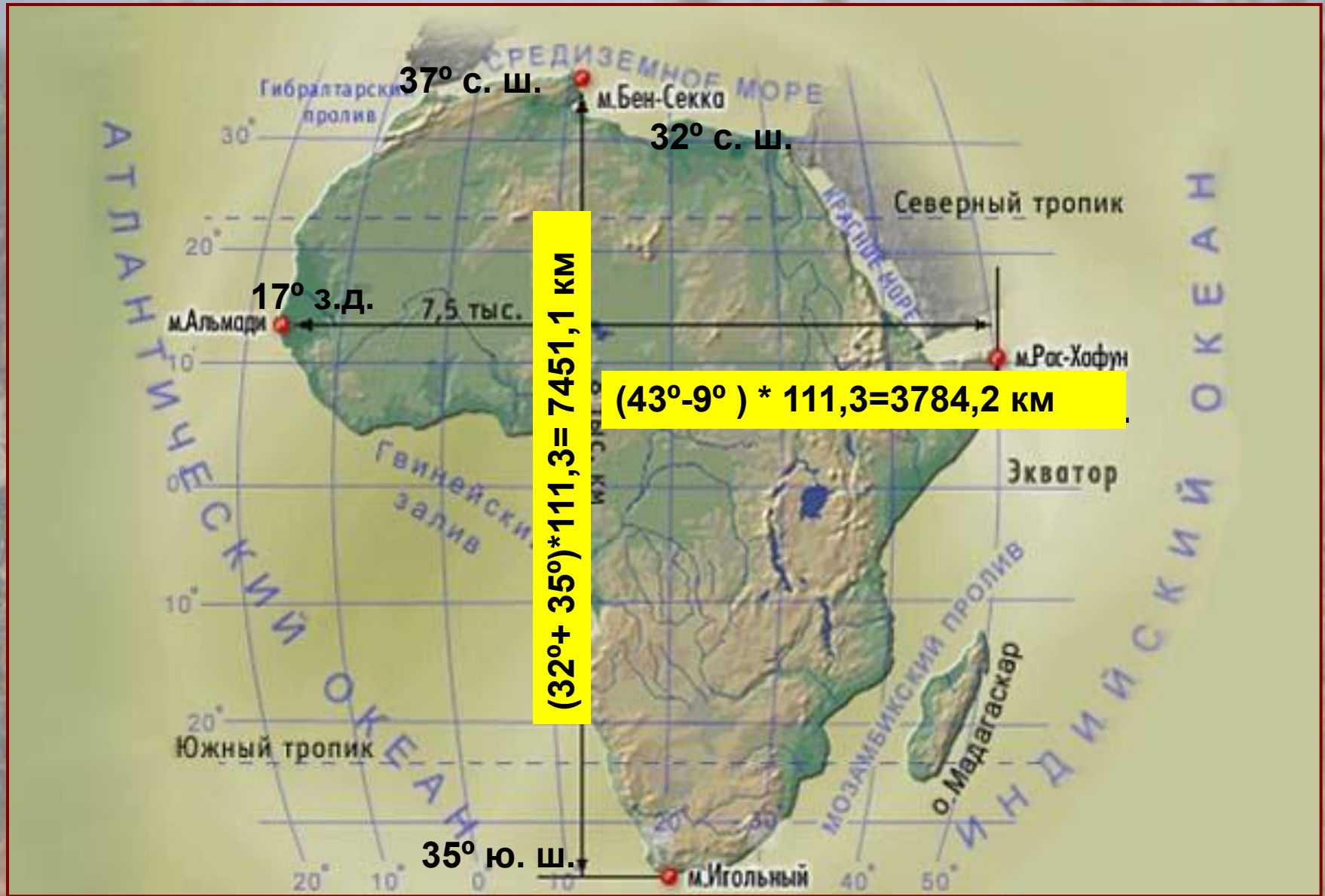




ЕВРАЗИЯ

АФРИКА

ЮЖНАЯ  
АМЕРИКА



$37^\circ \text{ с. ш.}$

$32^\circ \text{ с. ш.}$

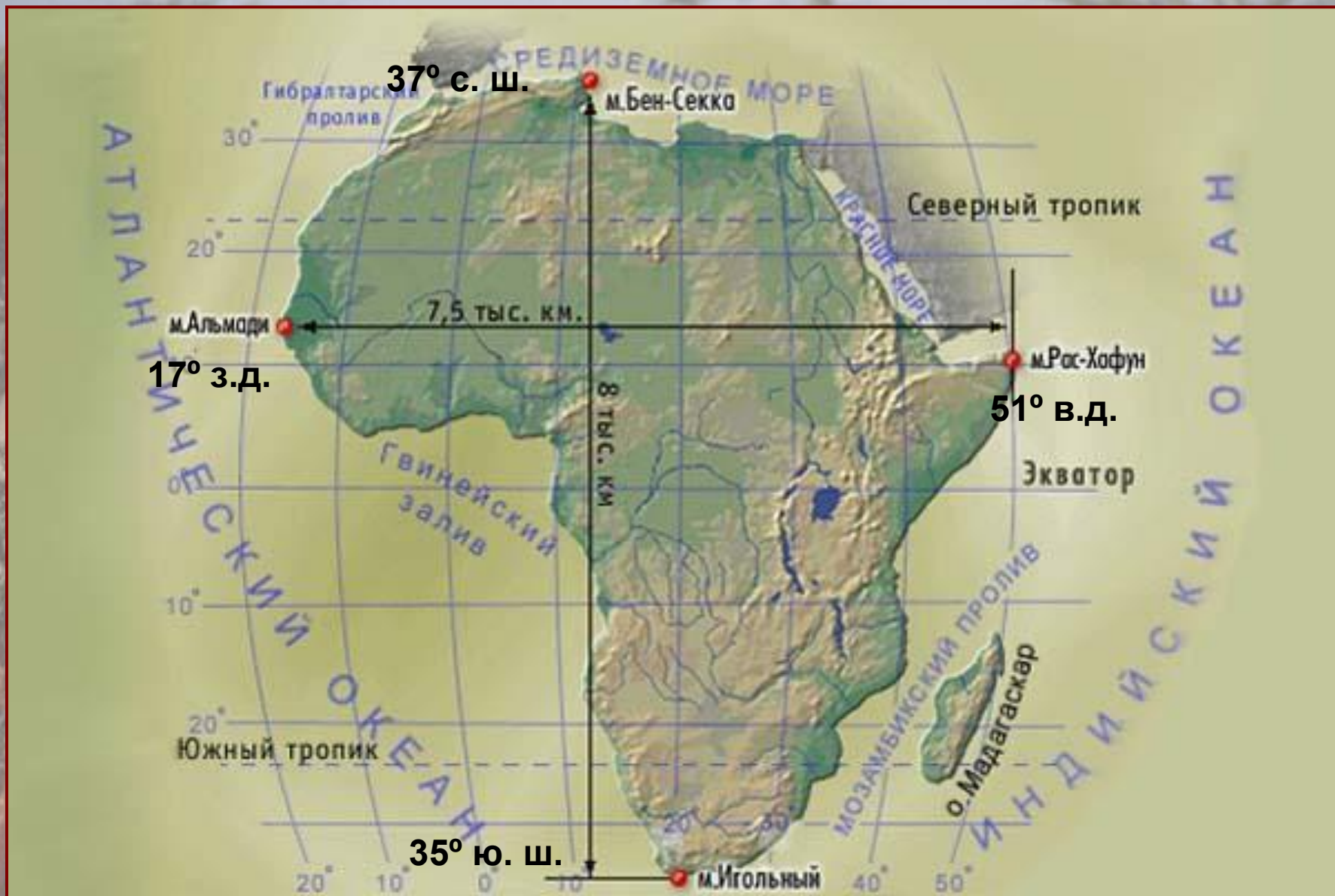
$17^\circ \text{ з.д.}$

7,5 тыс.

$(43^\circ - 9^\circ) * 111,3 = 3784,2 \text{ км}$

$(32^\circ + 35^\circ) * 111,3 = 7451,1 \text{ км}$

$35^\circ \text{ ю. ш.}$



# Домашнее задание

I группа готовит сообщения по теме «Древнии африканцы»  
(открытие Африки в древности)

II группа «Экспедиция Бартоломеу Диаша»

III группа «Васко да Гама»

IV группа «Давид Ливингстон»

V группа «Исследователи Сахары»

VI группа «Русские исследователи Африки»

Задание группам:

*подобрать материал, который должен содержать  
портреты путешественников, краткую биографическую  
справку, сведения об экспедиции*

*(цель, картосхемы путешествий, маршрут, описание,  
результаты)*