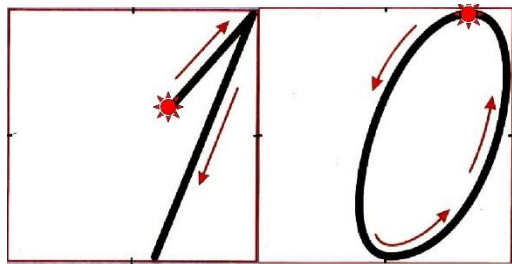


Дополняем до круглого числа



28 апреля. Классная работа.



Что мы можем сказать про число
10?



1

1 0 9


2 8

3 7

4 6

5 5





$$6 + \underline{\underline{4}} = 10$$

$$7 + \underline{\underline{3}} = 10$$

$$\underline{\underline{8}} + 2 = 10$$



18

2

1

0

9

0

5

8

1

4

3

4

6

0

0

5

0

10

40

60

80

90



18 + 2 =

20

45 + 5 =

50

39 + 1 =

40




$$17 + 3 = 20$$



$$14 + 6 = 20$$



$$18 + 2 = 20$$



$$14 + 6 = 20$$



1
0



Запомни:

Единицы складываем с
единицами.

Десятки складываем с
десятками.

Вставь пропущенные
числа:

$$54 + \underline{3} \underline{\quad} =$$

57

5

$$35 + \underline{\quad} \underline{\quad} =$$

40 Молодц

ы!

Задача №1.

На полке стояло 12 солдатиков.

Утром туда поставили ещё 5 солдатиков, а вечером - ещё 8.

Сколько всего солдатиков

стало в полке?

поставили на полке?

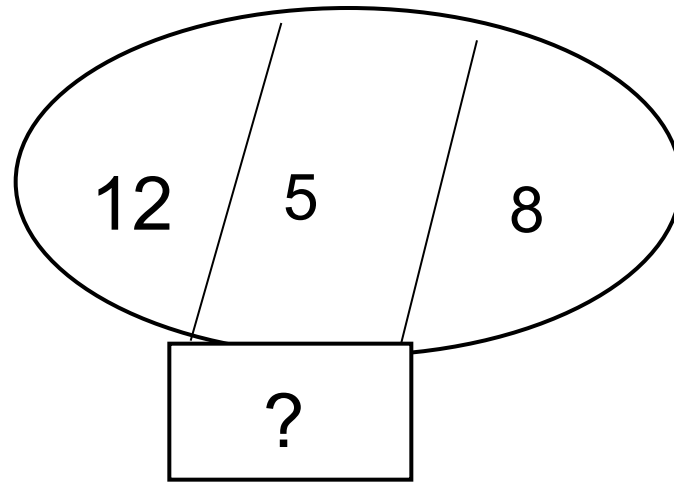
3 На сколько больше

поставили вечером?

4 Сколько всего солдатиков

на полке?





$$12 + 5 + 8 = \underline{\quad ? \quad}$$

$$12 + 8 + 5 = \underline{\underline{25}}$$



Ответ: 25 солдатиков стало на полке.

$$47 + 3 =$$

$$50 + 8 =$$

$$40 + 9 =$$

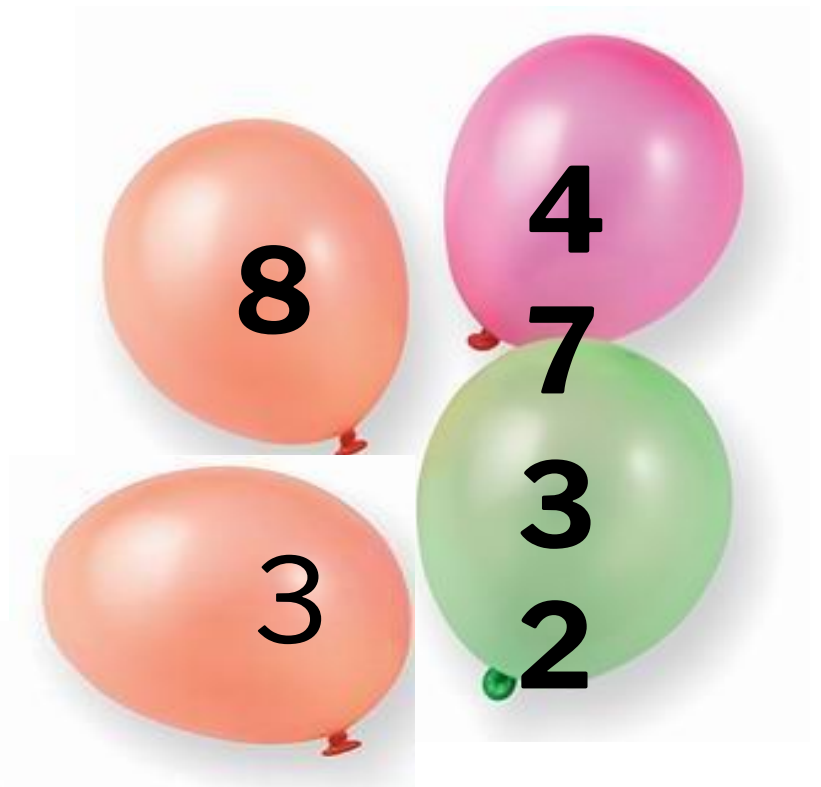
30



$$47 + 3 + 32 + 8 =$$

$$90 + 8 + 21 + 9 =$$

70



Задача № 8.

$$\begin{array}{l} 29+1=30 - 3 \\ 11+9=20 \\ 38+2=4 \\ 42+8=5 \\ 0 \\ 1+9+2+8 \end{array} \begin{array}{l} \text{коробки} \\ \text{коробки} \\ \text{коробки} \\ \text{коробки} \\ \text{коробки} \\ \text{коробок} \end{array}$$

$$\begin{array}{l} 20 < 2 \\ 3 \end{array}$$

карандашей



Ответ: карандашей




$$15 \dots + \dots 5 = 20$$

$$19 \dots - \dots 9 = 10$$

$$15 \dots + \dots 4 \dots + \dots 1 = 20$$

$$27 \dots - \dots 20 \dots + \dots 3 = 10$$

Домашнее задание: Страница 102, №4 и №5.





МОЛОДЦЫ!