


# Урок математики в 3 классе




**Подготовила:** учитель начальных  
классов  
МАОУ СШ №51 г. Липецка  
Ларькина М.Н.

*Выбери правильный ответ из трёх возможных,  
не проводя вычислений полностью.*

а)  $173 + 264 + 435 = 872$

**872**   **890**   **897**

 б)  $236 + 312 + 422 = 970$

**972**   **899**   **970**

 в)  $329 + 119 + 449 = 897$

**970**   **897**   **872**



**ТЕМА УРОКА:**

---

*«Путешествуем по  
странам Европы»*



**Москва**

**Россия**

**Лондон**

**Великобритания**

**Париж**

**Франция**

**Вена**

**Австрия**

**Рим**

**Италия**

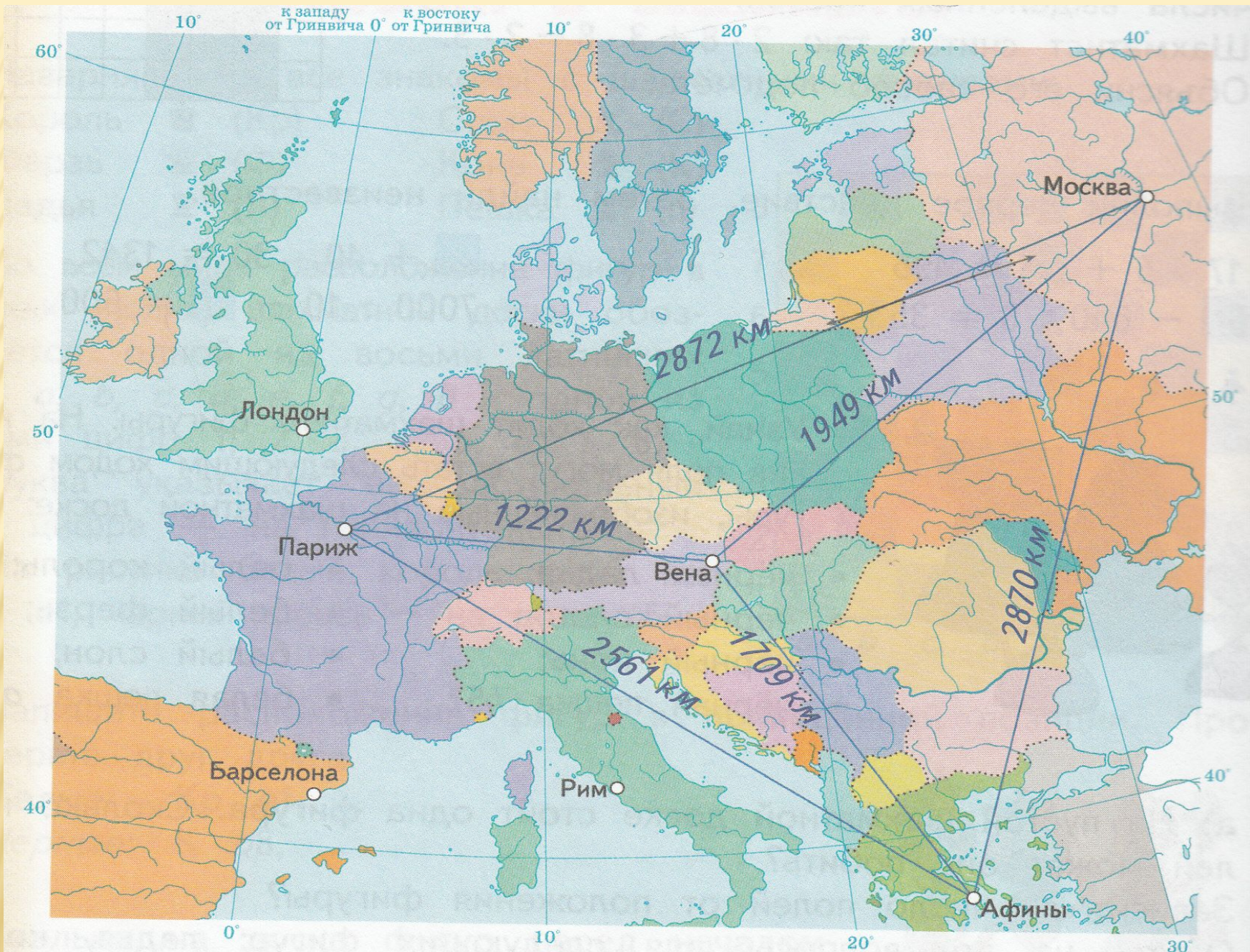
**Афины**

**Греция**

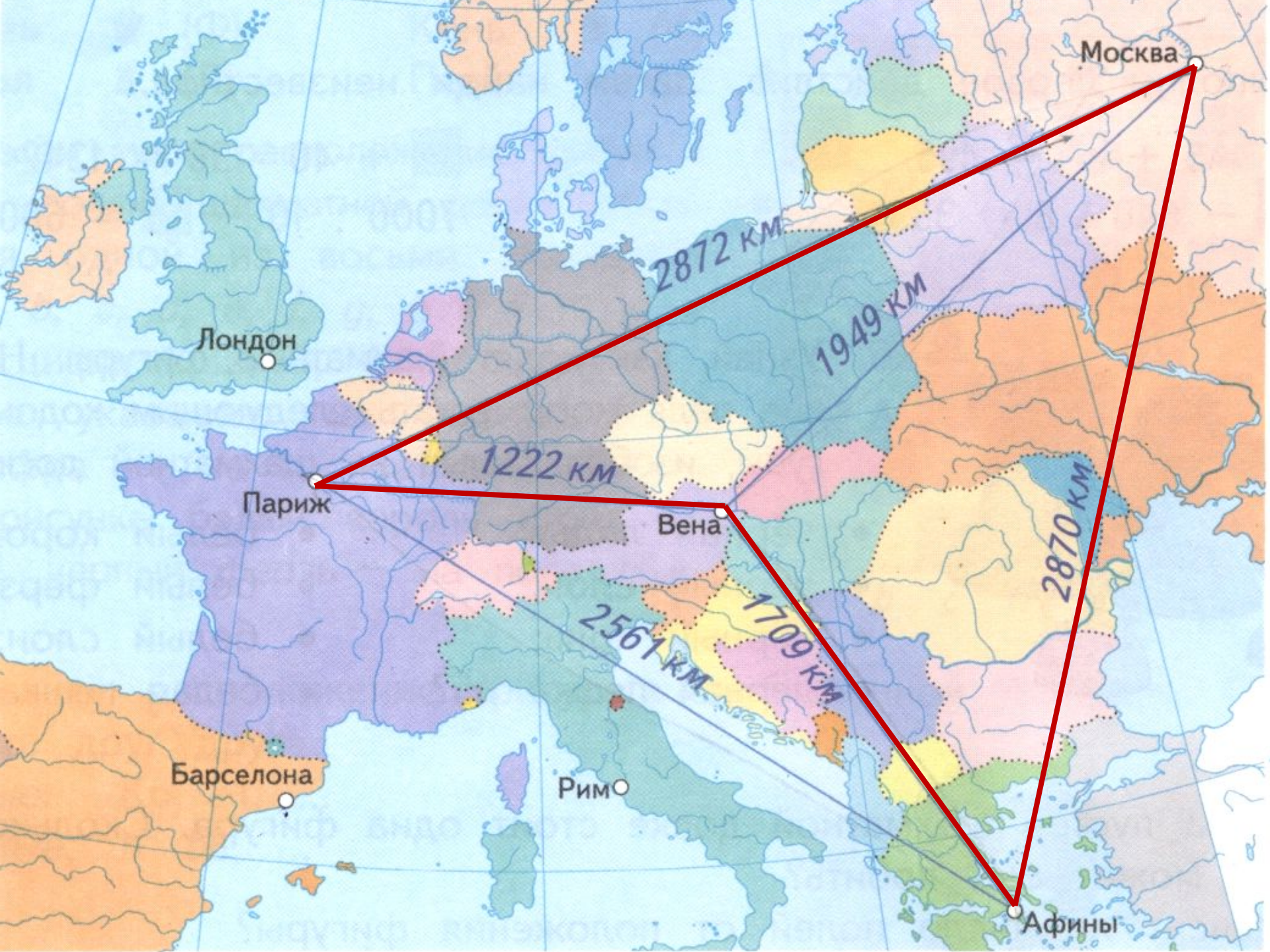
**Мадрид**

**Испания**

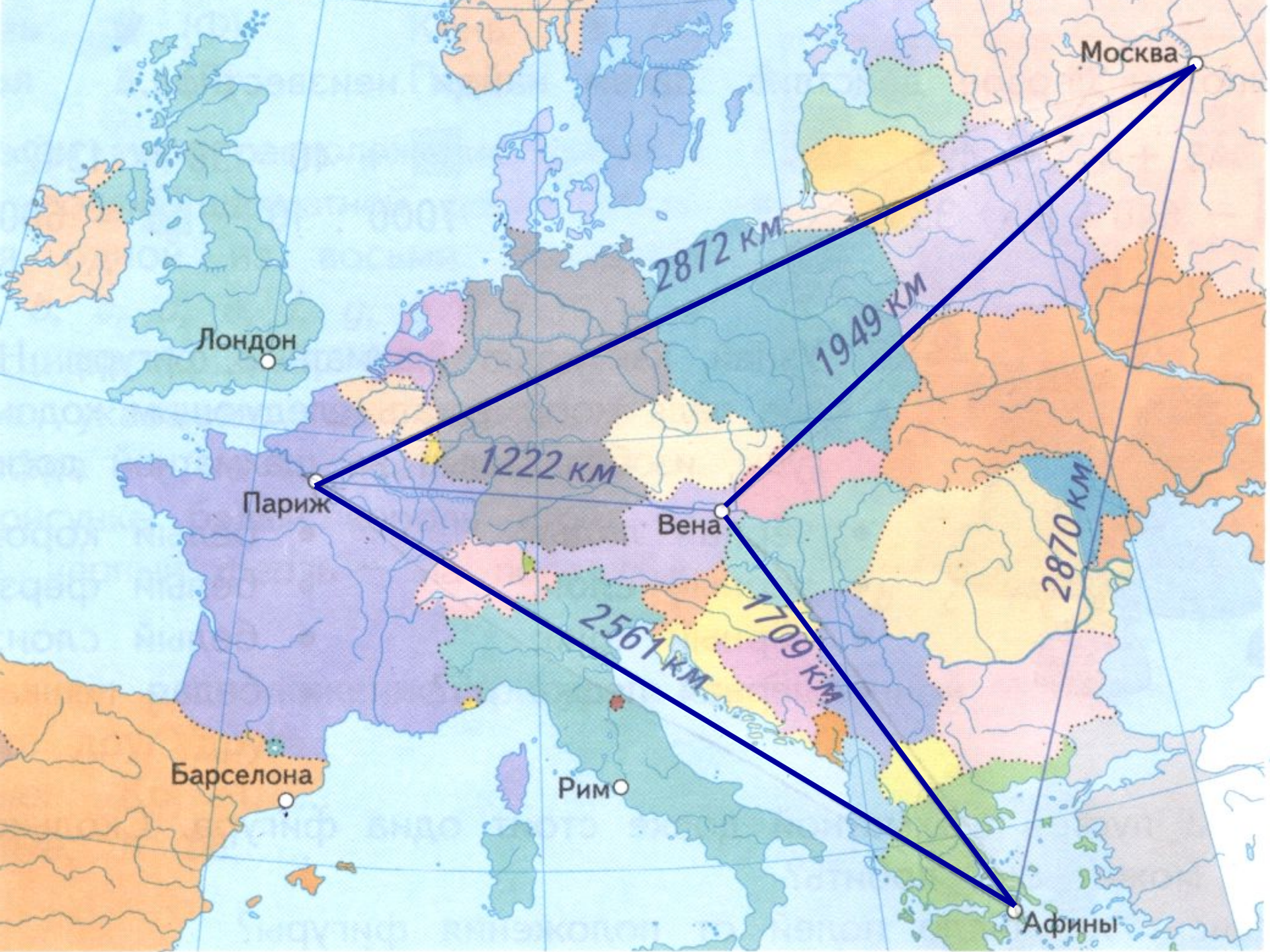




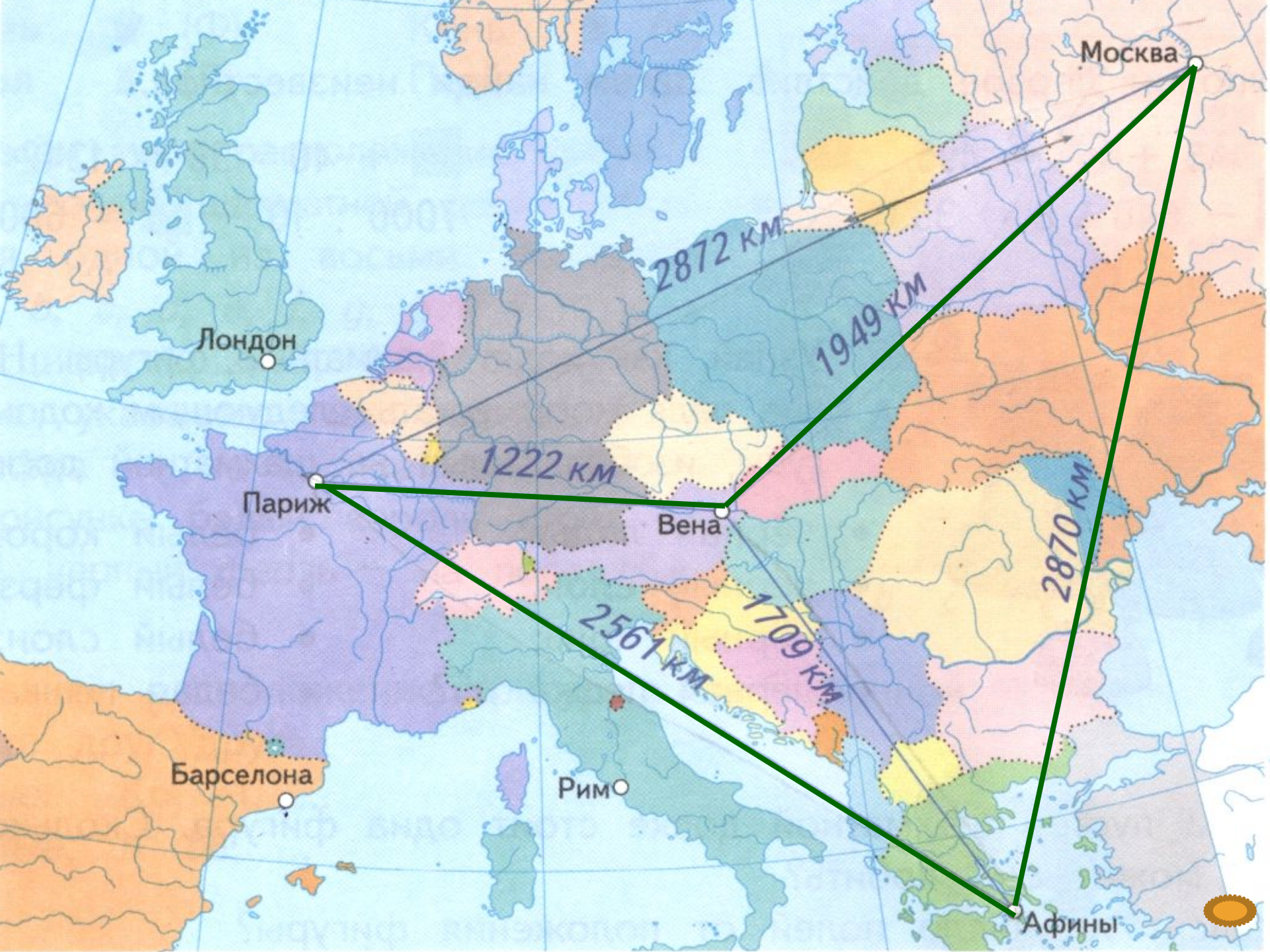














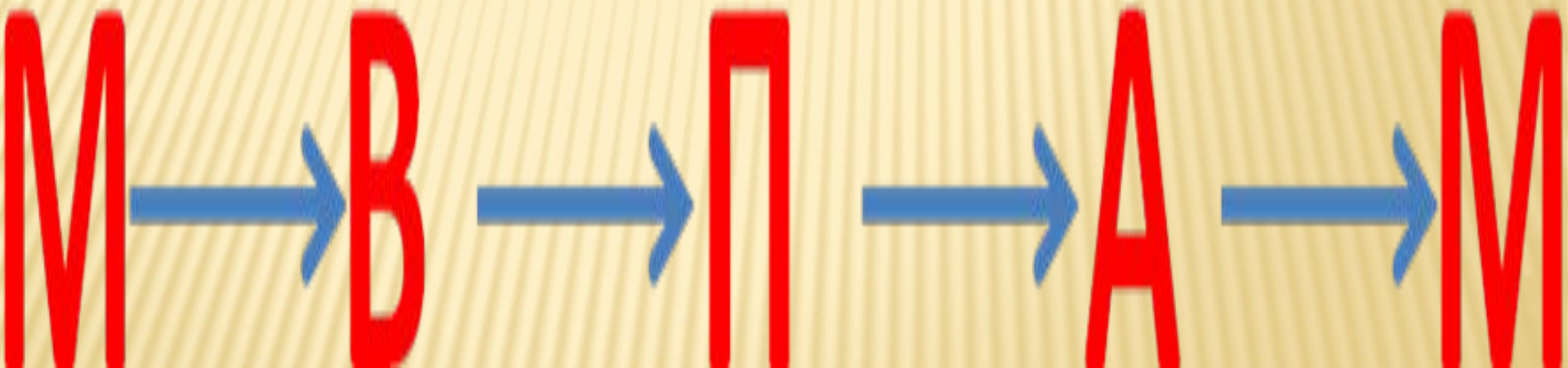
# Определить время перелётов

2 ч 10 мин

1 ч 15 мин

2 ч 40 мин

3 ч 40 мин





3. Из любого города в любой другой летает самолёт. На каком маршруте общее время перелётов будет меньше?



1 вариант: 10ч 50мин

2 вариант: 9ч  
55мин



Реши уравнения и расшифруй названия  
достопримечательностей, расположенных в городах.

280 230 158 120 150 342 317 342

661 759 680 158

250 317 661 545 80 150 70

Т 230 759 Э 158

$$240 + \mathbf{A} = 470$$

$$\mathbf{B} - 180 = 500$$

$$280 - \mathbf{E} = 130$$

$$\mathbf{З} + 90 = 170$$

$$\mathbf{И} - 300 = 245$$

$$300 - \mathbf{Ф} = 180$$

$$450 + \mathbf{К} = 700$$

$$\mathbf{Л} - 386 = 275$$

$$340 - \mathbf{Й} = 270$$

$$\mathbf{O} + 340 = 657$$

$$217 + \mathbf{П} = 497$$

$$678 - \mathbf{P} = 520$$

$$\mathbf{У} - 496 = 263$$

$$347 + \mathbf{H} = 689$$

Доска elite Panaboard не подключена



<b>280</b>	<b>230</b>	<b>158</b>	<b>120</b>	<b>150</b>	<b>342</b>	<b>317</b>	<b>342</b>
<b>П</b>	<b>А</b>	<b>Р</b>	<b>Ф</b>	<b>Е</b>	<b>Н</b>	<b>О</b>	<b>Н</b>

<b>661</b>	<b>759</b>	<b>680</b>	<b>158</b>
<b>Л</b>	<b>У</b>	<b>В</b>	<b>Р</b>

<b>250</b>	<b>317</b>	<b>661</b>	<b>545</b>	<b>80</b>	<b>150</b>	<b>70</b>
<b>К</b>	<b>О</b>	<b>Л</b>	<b>И</b>	<b>З</b>	<b>Е</b>	<b>Й</b>

<b>Т</b>	<b>230</b>	<b>759</b>	<b>Э</b>	<b>158</b>
<b>Т</b>	<b>А</b>	<b>У</b>	<b>Э</b>	<b>Р</b>



<b>280</b>	<b>230</b>	<b>158</b>	<b>120</b>	<b>150</b>	<b>342</b>	<b>317</b>	<b>342</b>

<b>280</b>	<b>230</b>	<b>158</b>	<b>120</b>	<b>150</b>	<b>342</b>	<b>317</b>	

<b>661</b>	<b>759</b>	<b>680</b>	<b>158</b>

	<b>230</b>	<b>759</b>		<b>158</b>
<b>T</b>			<b>Э</b>	



Парфено  
Н



Колизе  
Й



Тауэр



Лувр





---

**ПАРФЕНОН**, главный храм  
афинского Акрополя, посвященный  
Афине Парфенос (т. е. Деве), богине-  
покровительнице города.  
Строительство началось в 447 до н. э.  
Парфенон – шедевр древнегреческой  
архитектуры и символ греческого  
гения.







**Лувр** — один из крупнейших и самый популярный музей мира.

(около 10 000 000 посетителей в год).

Находится в центре Парижа.

Здание музея — старинный королевский дворец.

В основе Лувра лежит замок-крепость — большая башня Лувра, — возведённая королём Филиппом-Августом в 1190 году.











**Колизей** (от лат. *colosseus* — громадный, колоссальный) или **амфитеатр**

**Флавиев** (лат. *Amphitheatrum Flavium*) — амфитеатр, памятник архитектуры Древнего Рима, наиболее известное и одно из самых грандиозных сооружений древнего мира, сохранившихся до нашего времени. Находится в Риме.

Строительство самого большого амфитеатра всего античного мира, вместимостью свыше 50 тыс. человек, велось на протяжении восьми лет, как коллективное сооружение императоров династии Флавиев. Его начали строить в 72 году н.э.





YAHOOEIO.RU







**Лондонский Тауэр** — один из главных символов Великобритании.

Тауэр, крепость, стоящая на северном берегу Темзы, — исторический центр Лондона и одно из старейших сооружений Англии. Как писал герцог Эдинбургский в своей книге, посвященной 900-летию Тауэра, «за свою историю Лондонский Тауэр был крепостью, дворцом, хранилищем королевских драгоценностей, арсеналом, монетным двором, тюрьмой, обсерваторией, зоопарком, местом привлекающим туристов».















	<b>М</b>	<b>П</b>	<b>В</b>	<b>Р</b>	<b>А</b>
<b>Москва</b>	—	241	173	216	238
<b>Париж</b>	241	—	127	121	198
<b>Вена</b>	173	127	—	109	148
<b>Рим</b>	216	121	109	—	93
<b>Афины</b>	238	198	148	93	—



# Домашнее задание

1 уровень (100 руб)

У. с.29, №5 (а)

2 уровень (200 руб)

У. с.29, №5 (б), с.28, №2

3 уровень (300 руб)

У. с.29, №5 (в), с.28, №3



**Успехов**

---

**в изучении**

**математики**

**и увлекательных**

**путешествий!**