

Весёлая математика.

«А ну-ка посчитай»




Страна МАТЕМАТИКА



ПИСЬМО

Дорогие ребята !
Приглашаю вас побывать в моем
королевстве.


Королева Математики

 MyShared



Математика – королева
наук!

Без неё не летят корабли,
Без неё не поделишь ни
акра земли,
Даже хлеба не купишь,
рубля не сочтёшь,
Что почём, не знаешь,
А узнав, не поймёшь!

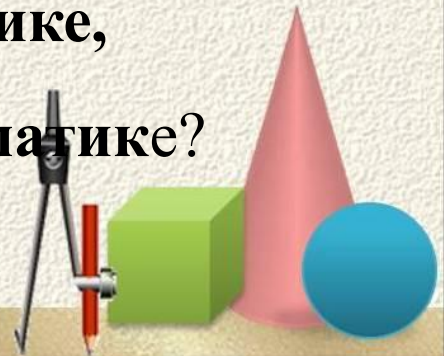


«Угадайте?»

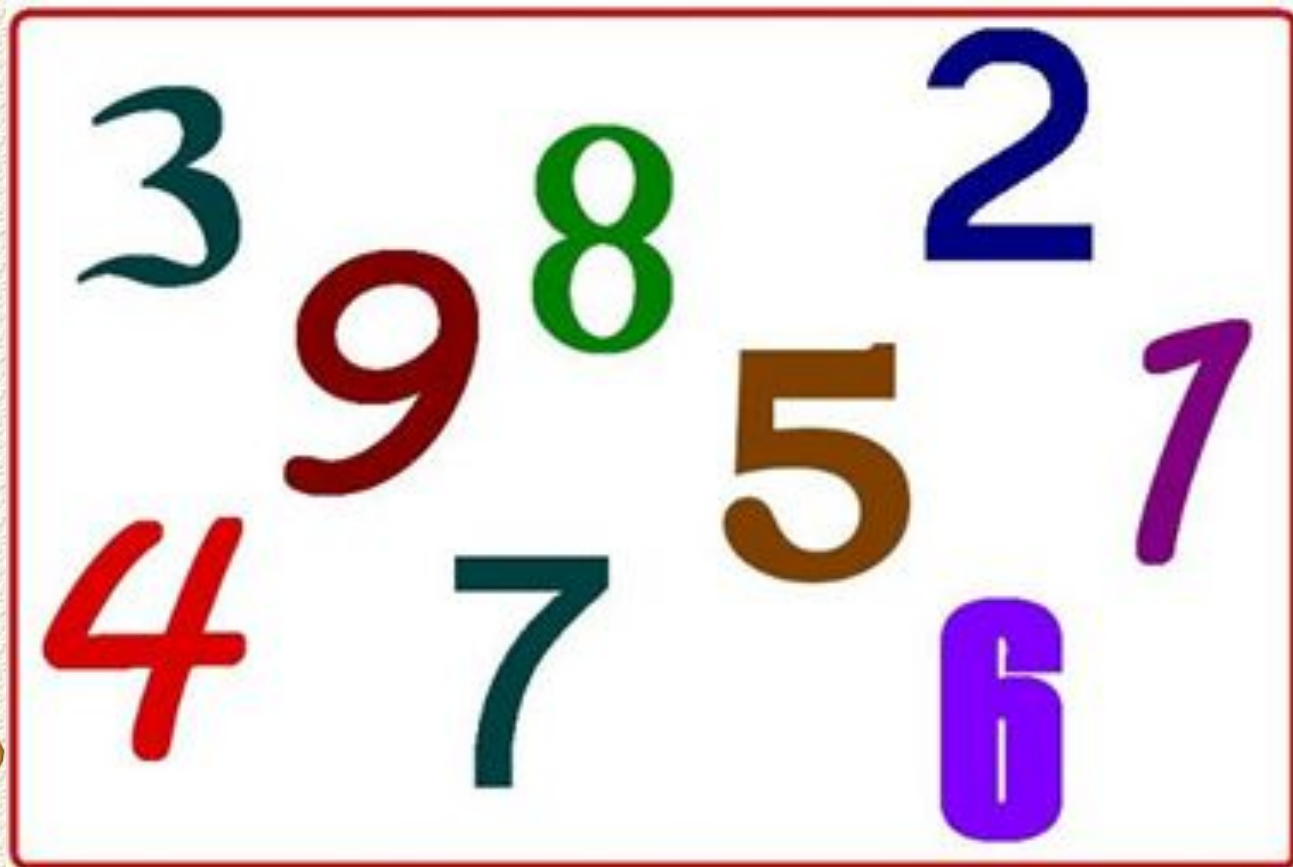
Цифру к цифре мы прибавим,
Между ними крестик вставим.
Намотай себе на ус;
Этот знак зовется



Из цифры вычтем мы другую,
Ставим черточку прямую.
Я тире в грамматике,
А кто же я в математике?



Конкурс «Весёлый счёт».



НАЙДИ ЗАКОНОМЕРНОСТЬ, НАЗОВИ СЛЕДУЮЩЕЕ ЧИСЛО



2

4

6




НАЙДИ ЗАКОНОМЕРНОСТЬ, НАЗОВИ СЛЕДУЮЩЕЕ ЧИСЛО



1

3

5



Конкурс «Математические прятки».

Команда «Плюс»


1, 2, .., 5, 6, .., 8, .., 10

10, 9, .., 7, .., 4, 3, .., 1

Команда «Минус»


10, .., 8, .., 5, .., .., 1


1, .., 4, .., 6, .., 8, .., 10




ВЫЧИСЛИ





$7 + 3 =$ 


$10 - 5 =$ 


$9 - 6 =$ 


$6 + 4 =$ 

$8 - 6 =$ 


$4 + 3 =$ 


$3 + 6 =$ 


$9 - 7 =$ 

$6 - 4 =$ 


$8 + 2 =$ 

$6 - 2 =$ 

$9 + 1 =$ 



Конкурс « ЛОГИЧЕСКИЕ ЗАДАЧИ»



**Жираф, крокодил и бегемот жили
в разных домиках. Жираф жил не**

в




зелёном и не в синем домике.

**Крокодил жил не в зелёном
и не в жёлтом.**

В каких домиках жили звери?



**Жираф - в жёлтом домике,
крокодил - в синем,
бегемот - в зелёном.**



Галя, Костя, Даша и Серёжа
собирали
овощи. Трое собирали картофель,
а кто-то один из них морковь.
Галя и Серёжа собирали разное,
Серёжа и Даша - тоже.

Кто, что собирал?



**Серёжа - морковь,
остальные картофель.**


Серёжа



Играя, каждая из трёх девочек –
Катя,

Галя и Оля – спрятали одну из
игрушек: медвежонка, зайчика,
слоника. Катя не прятала зайчика,
Оля не прятала ни зайчика,
ни медвежонка.

Кто какую игрушку спрятал?



**Оля - слоника,
Катя - медвежонка,
Галя - зайчика.**


Катя



Галя



Оля



Физминутка




Анна Яранова

Конкурс «Геометрические фигуры».

Я фигурка хоть куда
Очень ровная всегда
Все углы во мне равны
И четыре стороны.
Кубик – мой любимый брат
Потому что я ..




Прикатилось колесо
Ведь похожее оно
Как наглядная натура
Лишь на круглую фигуру
Догадался милый друг?
Ну конечно это




**Растянули мы квадрат
И представили на взгляд
На кого он стал похожим
Или с чем – то очень схожим?
Не кирпич, не треугольник
Не квадрат, а**



**У нас всего, у нас всего.
У нас всего по три
Три стороны и три угла
И столько же вершин.**



Посчитать, сколько геометрических фигур изображено на рисунке.



Конкурс «Разгадай-ка ребус»

ПО 2 Л

ВИЗНА



40 а

7 Я



100 Л

ГОСП 1



Конкурс «Сколько»

Называй ответы быстро!

Сколько пальцев на двух руках?

Сколько дней в неделе?

Какое число идёт при счёте девятым?

Сколько глаз и бровей у человека?

Сколько хвостов у восьми кошек?



Сколько лап у одной собаки ?

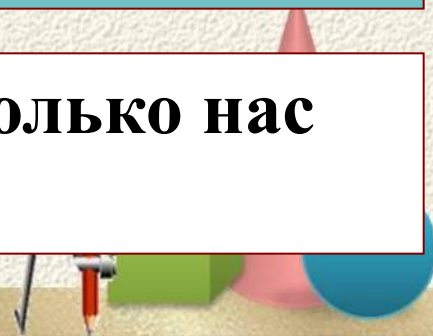
Каким по счету днём недели является суббота?

Сколько пальцев на одной ноге?

Сколько углов у стола?

Сколько гномов у Белоснежки?

Ты да я, да мы с тобой. Сколько нас всего?



Игра окончена! МОЛОДЦЫ!

