

**УСЛОВНЫЕ ЗНАКИ**

- Реки, пороги и водопады
- Реки пересыхающие
- Озера пресные
- Озера соленые
- Озера с негустотной береговой линией
- Острова с негустотной береговой линией
- Отметки высот урезов воды от уровня моря
- Отметки глубин
- Действующие вулканы
- Материковые льды, шельфовые ледники и глетчеры
- Зимняя граница ледяных льдов
- Течения
- Теплые
- Холодные

Полосатую тельняшку  
Натянули на коняшку,  
Полосатый хвост и нос!  
Как зовут тебя, Матрос?



Он трубит на всю округу,  
У него благая весть!  
И трубы ему не надо,  
Потому что хобот есть!



Он ходит голову задрав,  
Не потому, что гордый нрав,  
Не потому, что важный граф,  
А потому, что он ...



# АФРИКА

## Образ материка

# **ПРОБЛЕМНЫЙ**

## **ВОПРОС:**

Все материки разные, но  
каждый индивидуален  
по-своему.

**От чего будет  
зависеть природа  
материка? Каким  
будет климат?  
Растительность?  
Животный мир?**

# План описания географического положения

## материка:

1. Определите, как расположен материк относительно экватора, тропиков(полярных кругов) и нулевого меридиана.
2. Найдите крайние точки материка, определите их координаты и протяженность материка в градусах и километрах с севера на юг и с запада на восток.
3. В каких климатических поясах расположен материк?
4. Определите, какие океаны и моря омывают материк.
5. Как расположен материк относительно других материков?

A topographic map of the African continent, showing elevation and terrain. The map uses a color gradient from green (low elevation) to yellow and orange (high elevation). The central and southern parts of the continent are predominantly green, while the northern and eastern parts are more yellow and orange. The map is set against a dark blue background representing the ocean. The text "29,2 МЛН. КМ²" is overlaid in white on the central part of the map.

29,2 МЛН. КМ<sup>2</sup>



# Крайние точки

Сторона горизонта	Название крайней точки	Географические координаты	
		широта	долгота
север			
юг			
запад			
ВОСТОК			

# Крайние точки

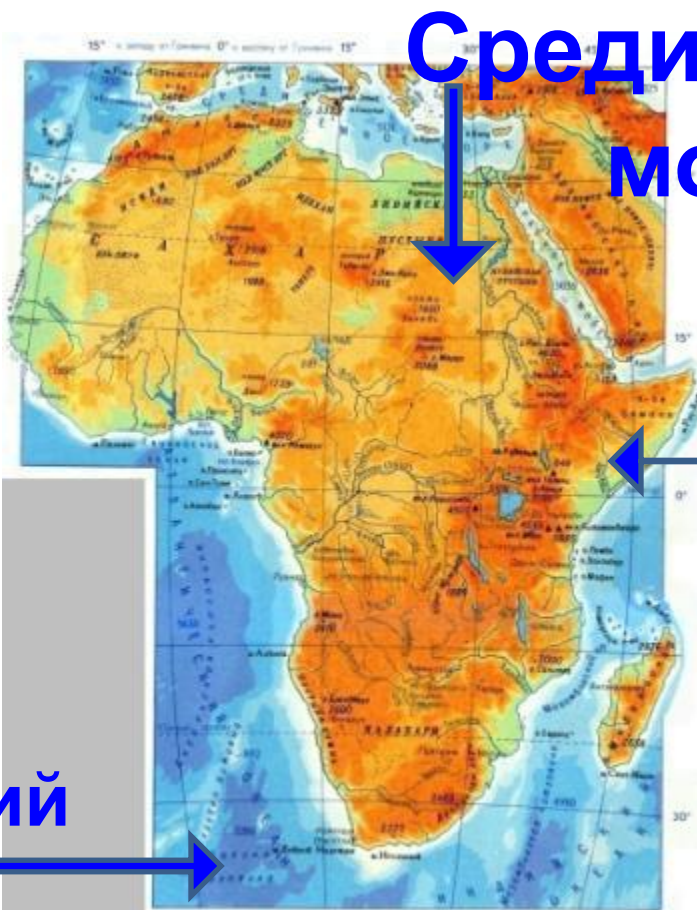
Сторона горизонта	Название крайней точки	Географические координаты	
		широта	долгота
север	М. Бен-Секка	37 с.ш.	10 в.д.
юг	М. Игольный	35 ю.ш.	20 в.д.
запад	М. Альмади	15 с.ш.	13 з.д.
восток	М. Рас-Хафун	10 с.ш.	51 в.д.

# Расположение Африки по отношению к другим материкам



Используя физическую карту Африки, назовите, какими океанами и морями омывается материк.

# Океаны и моря, омывающие Африку:

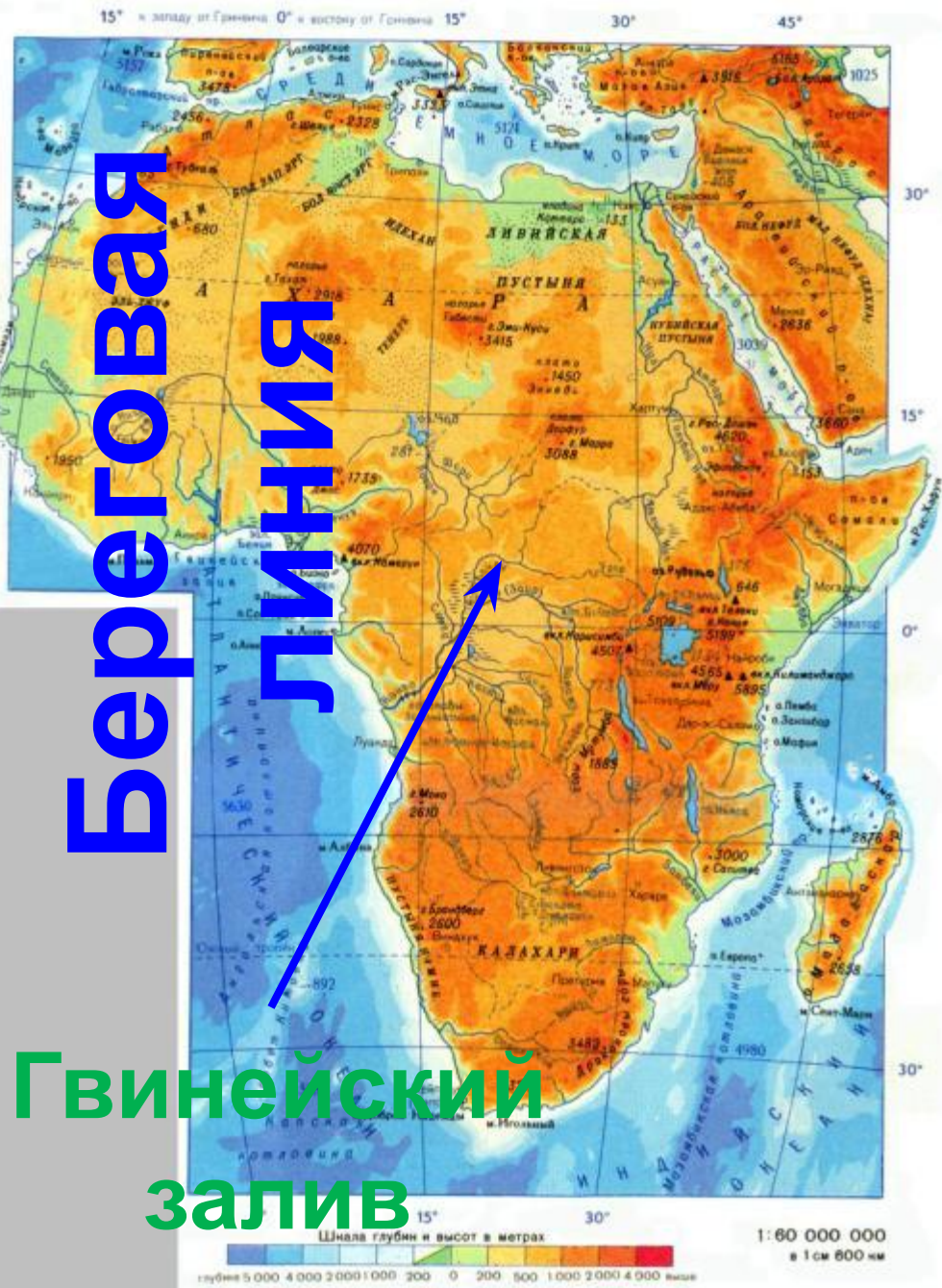


**Средиземное море**

**Красное море**

**Индийский океан**

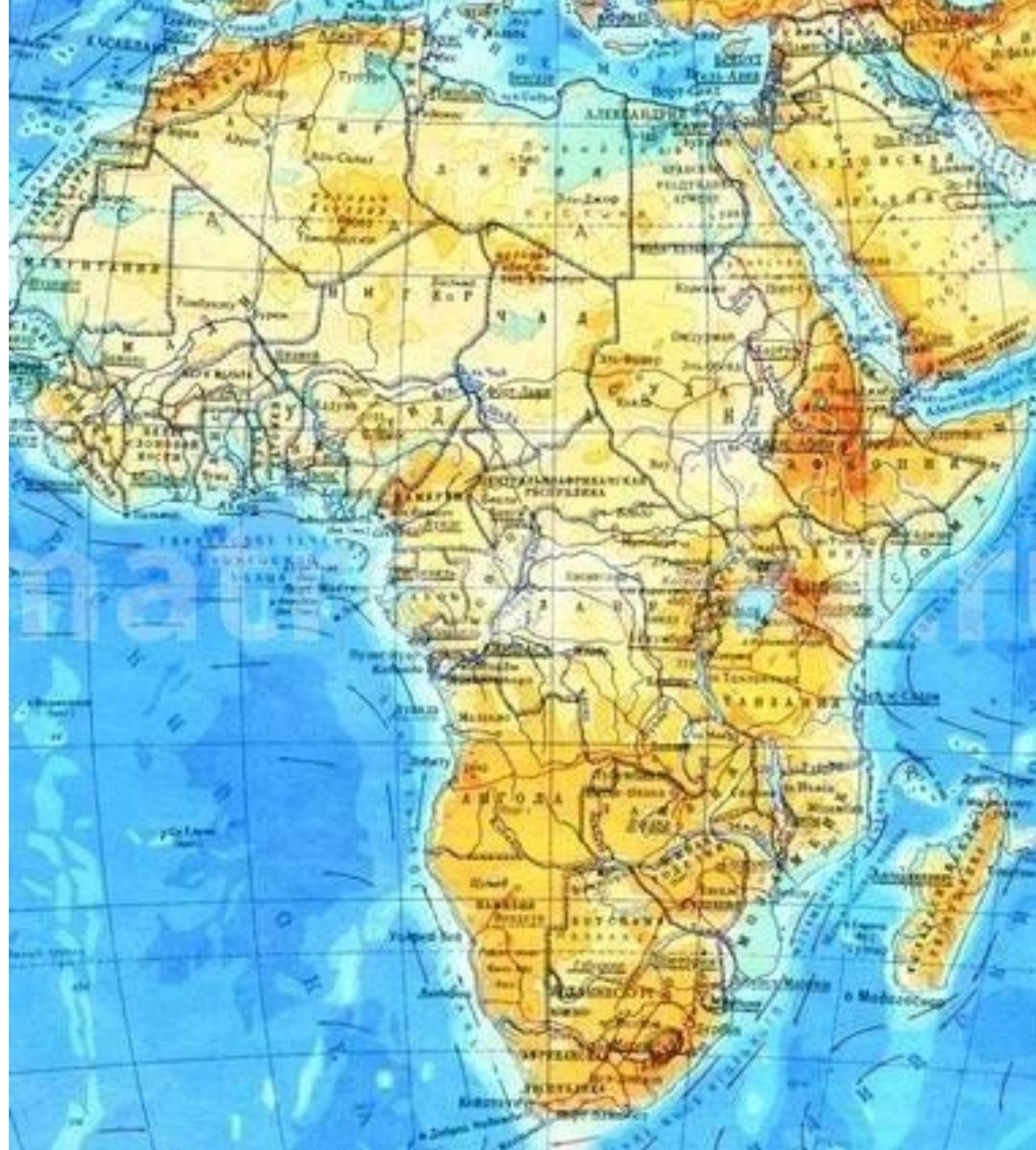
**Атлантический океан**



Полуостр  
ов  
Сомали

Мозамбикски  
й  
пролив

Остров  
Мадагаска  
р



# Творческое задание



Васко да Гама



Василий Юнкер




Давид  
Ливингстон



Егор  
Ковалевский

Вавилов  
Николай  
Иванович





## **ВОПРОС:**

Все материки разные,  
но каждый  
индивидуален по-  
своему.

**От чего будет  
зависеть природа  
материка? Каким  
будет климат?  
Растительность?  
Животный мир?**



# Домашнее

## задание

§ 26. с. 98 Отметить на к\к элементы  
береговой линии

Спасибо за внимание !