




Развиваем:
моторику,
логику,
воображение,
нестандартное
мышление,
счёт,
внимание



Зачеркни лишнее.



Реши примеры.




Запиши счёт двойками до десяти.

2 4

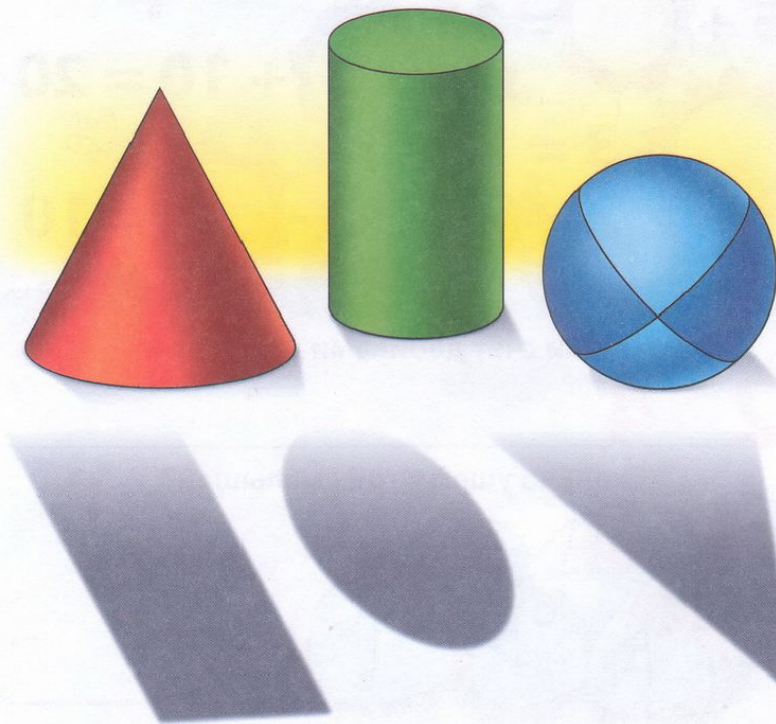
Сколько ушей у трёх малышей?



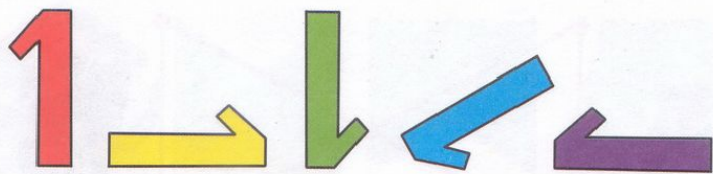
Покажи 8 треугольников.




Соедини стрелочками фигуру и её тень.



Зачеркни лишнюю единицу.



Реши примеры.




Запиши обратный счёт двойками.


10 8

Сколько дней в неделе?


Покажи 8 отрезков.




Волшебное зеркало меняет цвет и форму фигур.
Нарисуй, что каждая фигура видит в зеркале.



Зачеркни лишнюю фигуру.



Догадайся, какие числа художник забыл нарисовать на лепестках? Нарисуй их.

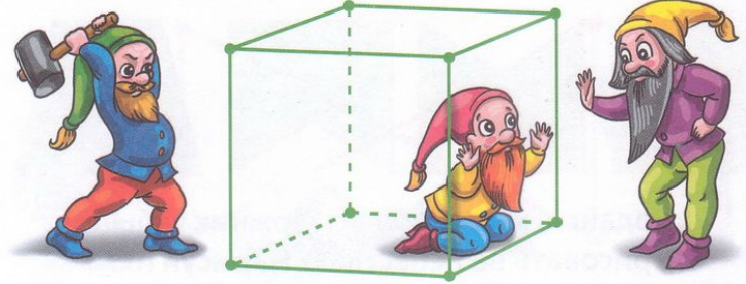


Запиши счёт тройками до 12.

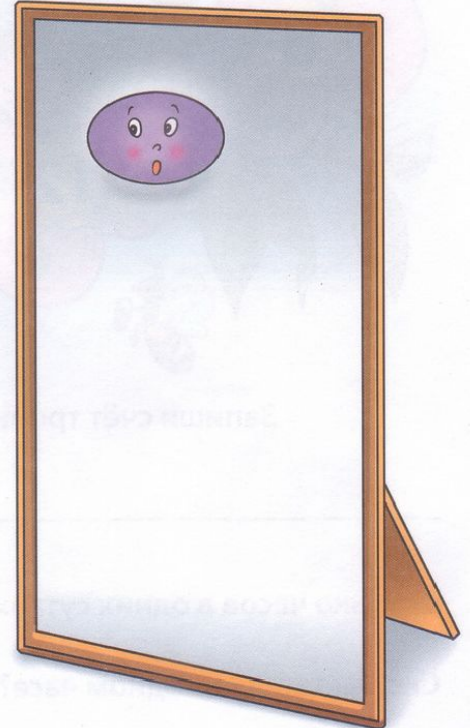



Сколько часов в одних сутках? _____

Сколько минут в одном часе? _____


Сколько у куба вершин? Ребер? Граней?



Волшебное зеркало меняет цвет и величину фигур. Нарисуй, что каждая фигура видит в зеркале.



Зачеркни лишнее.




Реши примеры.




Запиши счёт десятками до 100.


На верёвке завязали 10 узлов. Нарисуй их.
На сколько частей эти узлы разделили верёвку?




Сколько кубиков нужно взять, чтобы выложить такую фигуру?




Раскрась одним цветом фигуру и её вид сверху.



Зачеркни неправильные часы.



Реши.




Запиши чётные числа до 20.

Из Васиного кармана выпрыгнули две лягушки, а три остались сидеть в кармане. Сколько всего лягушек сидело в Васином кармане?




Сколько кубиков нужно взять, чтобы собрать такую фигуру?



Раскрась все пирамидки красным, зелёным и синим цветами, чтобы не было двух одинаковых пирамидок.




Какие предметы имеют форму цилиндра?



Зачеркни лишнее число.

2 4 6 7 8 10 12

Соедини примеры с одинаковыми ответами.



Запиши нечётные числа до 10.


Сколько нужно орешков, чтобы раздать трём белочкам по два орешка?



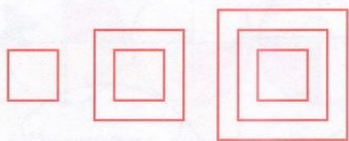
Сколько кубиков нужно взять, чтобы выложить такую фигуру?



Раскрась рыбок красным, зелёным и жёлтым цветами так, чтобы тело и хвост были разных цветов и все рыбки были разными.



Продолжи ряд.



Расставь числа, чтобы в сумме получилось 10.

5		2	=10
	4	1	=10
			=10


=10 =10 =10



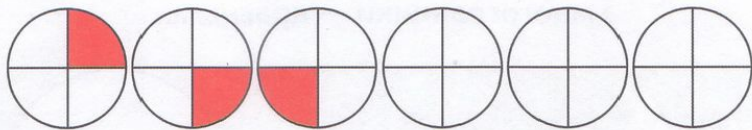
Запиши все двузначные числа, которые можно составить из цифр 1 и 2.

Сколько всего времён года? Запиши их названия.

Объёмные фигуры раскрась красным цветом, а плоские — синим.



Продолжи ряд.




Расставь числа, чтобы в сумме получилось 10.



		4	=10
7	2		=10
	5		=10
			=10

Запиши порядковый счёт от 10 до 20.

У Кати были матрёшки. 4 матрёшки она собрала и убрала в сумочку, а две оставила. Сколько всего матрёшек у Кати?



Ответ: _____

Тела вращения раскрась жёлтым цветом, а многогранники — красным.

