

Итоговое повторение 6 класс

Дроби

Признаки
делимости


Проценты

Выполнила: учитель математики

МБОУ «Прохоровская гимназия»

Прохоровского р-на Белгородской области

Горянская Вера Николаевна



Вопрос №1


Запишите десятичную дробь

1) $0,008$ →

2) 8 →

3) $0,08$ →

4) $0,8$ →



Вопрос №2



Из пшеницы получается 60% муки.






Сколько тонн муки получится из 3,5 тонн пшеницы?

1) 4,2

2) 21

3) 2,1

4) 0,21



Вопрос №3



Запишите с помощью процентов 0,7

1) 7




2) 0,7



3) 70





4) 0,07






Вопрос №4

Чему равны 2% от 80?

- 1) 1,6 
- 2) 160 
- 3) 0,16 
- 4) 16 



Верно!

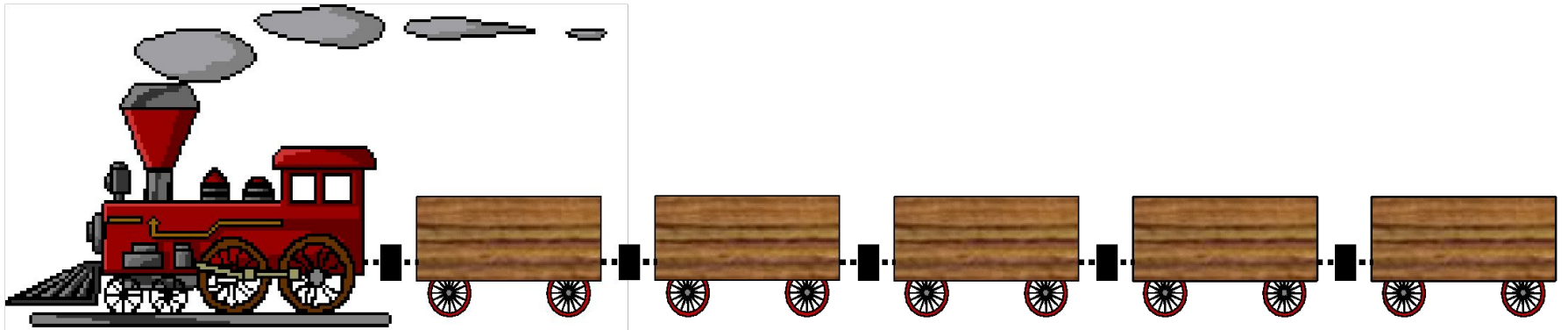


Неверно!



$$\frac{13}{12}; \frac{3}{5}; \frac{8}{3}; \frac{18}{18}; \frac{9}{9}; \frac{1}{2}; \frac{3}{8}; \frac{5}{2}; \frac{4}{11}; \frac{3}{2}; \frac{14}{21}; \frac{30}{2}$$

$$\frac{31}{52}; \frac{7}{4}; \frac{33}{55}; \frac{195}{99}$$



Загрузим в поезд неправильные дроби, для этого щелкни по ним мышкой.





$$\begin{array}{r} 3,700 \\ + 2,651 \\ \hline \end{array}$$

6351

,

,

$$\begin{array}{r} 3,700 \\ - 2,651 \\ \hline \end{array}$$

1049



Укажи место и щелкни мышкой, откуда убежали эти запятые в каждом примере.



Купили 5 одинаковых коробок
цветных карандашей.

Может ли в них оказаться?

$92 \bar{\div} 5$; $36 \bar{\div} 5$; $76 \bar{\div} 5$

Не верно

1 92 карандаша

Не верно

2 36 карандашей

Не верно

3 76 карандашей

4 90 карандашей

ВЕРНО!

