


Сантиметр

ВЫПОЛНИЛА:
СТУДЕНТКА 3 КУРСА
ГРУППЫ СДО-17
ВИНОКУРОВА А.А.


Линейка – это математический прибор для проведения прямой линии и измерения небольших расстояний.



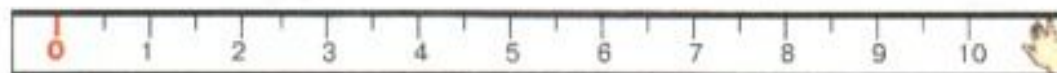
Возле каждого числа нарисована большая черточка и расстояния между большими черточками (а значит и между числами) равны.



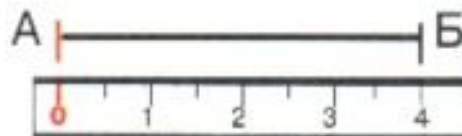
Расстояние между каждым числом от одного большого деления до другого называется **сантиметр**.



3 Сантиметр



 1 сантиметр
1 см



$АБ = 4 \text{ см}$




Измерение длины отрезка:

1. Прикладываю линейку к отрезку.
2. Совмещаю ноль на линейке с началом отрезка.
3. Определяю число, соответствующее концу отрезка. Это длина отрезка.
4. Записываю результат измерения.

Работа в тетради

2. Выпиши номера отрезков длиной 3 см.



2	4	7															
---	---	---	--	--	--	--	--	--	--	--	--	--	--	--	--	--	--



Спасибо за внимание!
