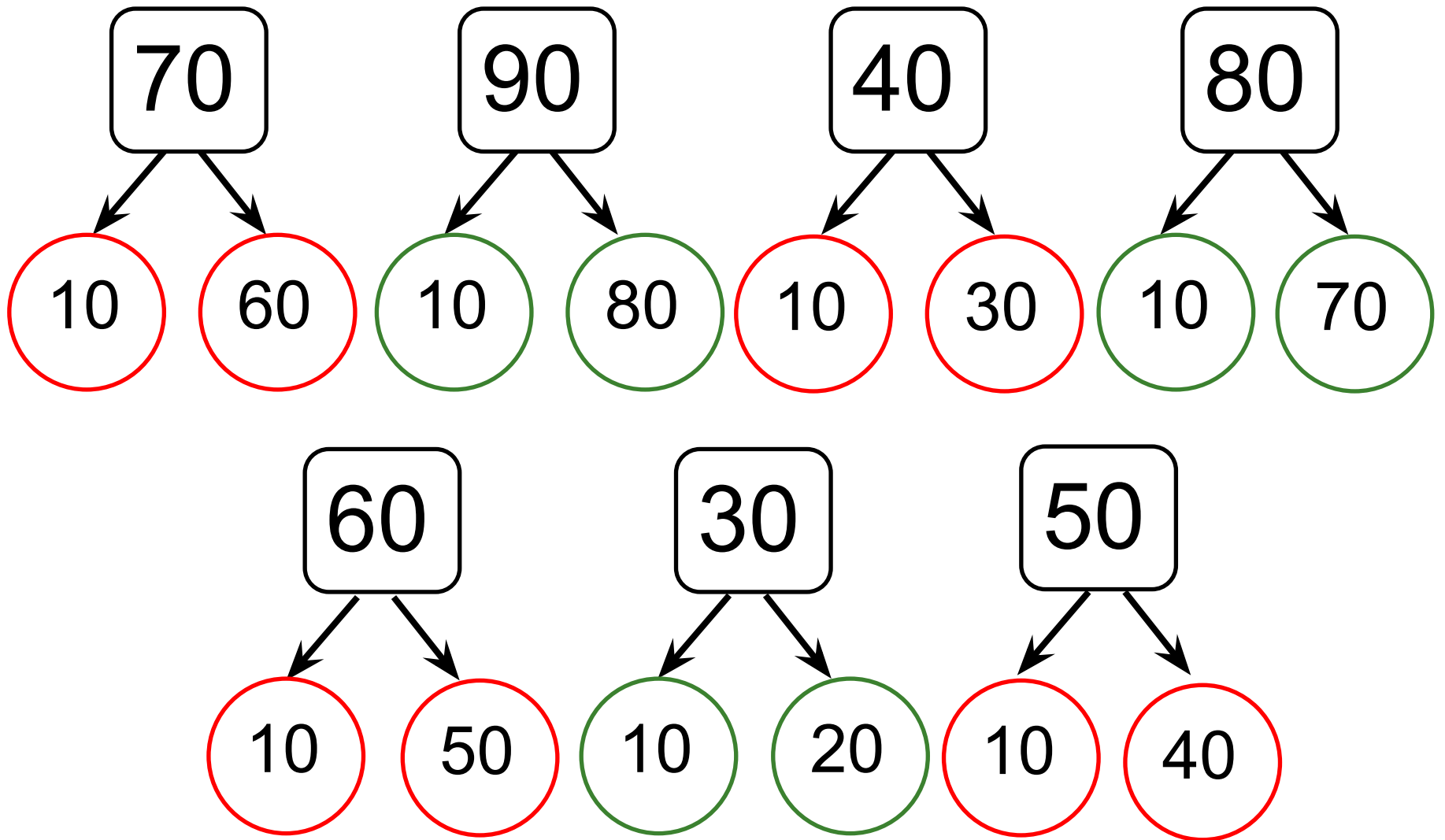


---

# Математика

2 класс

---



# Решите примеры устно

- $30 - 4$
- $35 - 15$
- $34 + 16$
- $47 + 3$
- $60 - 17$
- $38 + 14$

- Все ли примеры вы решили?
- Какие примеры вам показались наиболее трудными?

# Решали ли мы такого вида примеры?

■  $60 - 17$

■  $38 + 14$

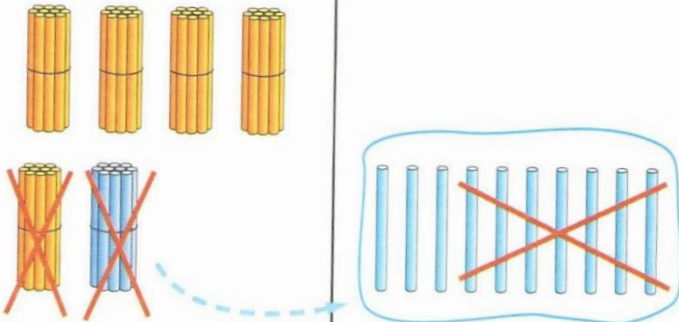
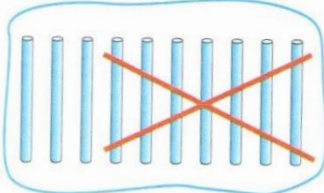
Как вы думаете, какая тема нашего сегодняшнего урока?

Какую цель можем перед собой поставить?

---

# Объясни

Объясни по рисунку, как выполнено вычитание. Сделай вывод.

Десятки	Единицы
	
<div style="border: 1px solid black; display: inline-block; padding: 5px; width: 60px; text-align: center; font-size: 24px;">4</div>	<div style="border: 1px solid black; display: inline-block; padding: 5px; width: 60px; text-align: center; font-size: 24px;">3</div>

$$60 - 17 = 43$$

		10		
		•		
	-	6	0	
		-	1	7
		-	4	3

# Работа с учебником, (стр. 60)

№1 выполни устно, №2 запиши в тетрадь

1. Выполни вычитание с объяснением по образцу.

$$50 - 16 = 30 + 4 = 34$$

40 10 10 6

- 1)  $40 - 23$
- 2)  $80 - 35$
- 3)  $70 - 12$

2. Вычисли.

$$\begin{array}{r} + 60 \\ + 32 \\ \hline \end{array}$$

$$\begin{array}{r} + 30 \\ + 17 \\ \hline \end{array}$$

$$\begin{array}{r} - 80 \\ - 51 \\ \hline \end{array}$$

$$\begin{array}{r} + 70 \\ + 26 \\ \hline \end{array}$$

$$\begin{array}{r} - 90 \\ - 65 \\ \hline \end{array}$$

# Работа с учебником, стр. 62

Запиши в тетрадь, вычисляя по образцу:  $27+36$ ,  $43+29$ ,  $54+17$ ,  $66+15$ .

Объясни по рисунку, как выполнено сложение. Сделай вывод.

