


Первое знакомство с Африкой



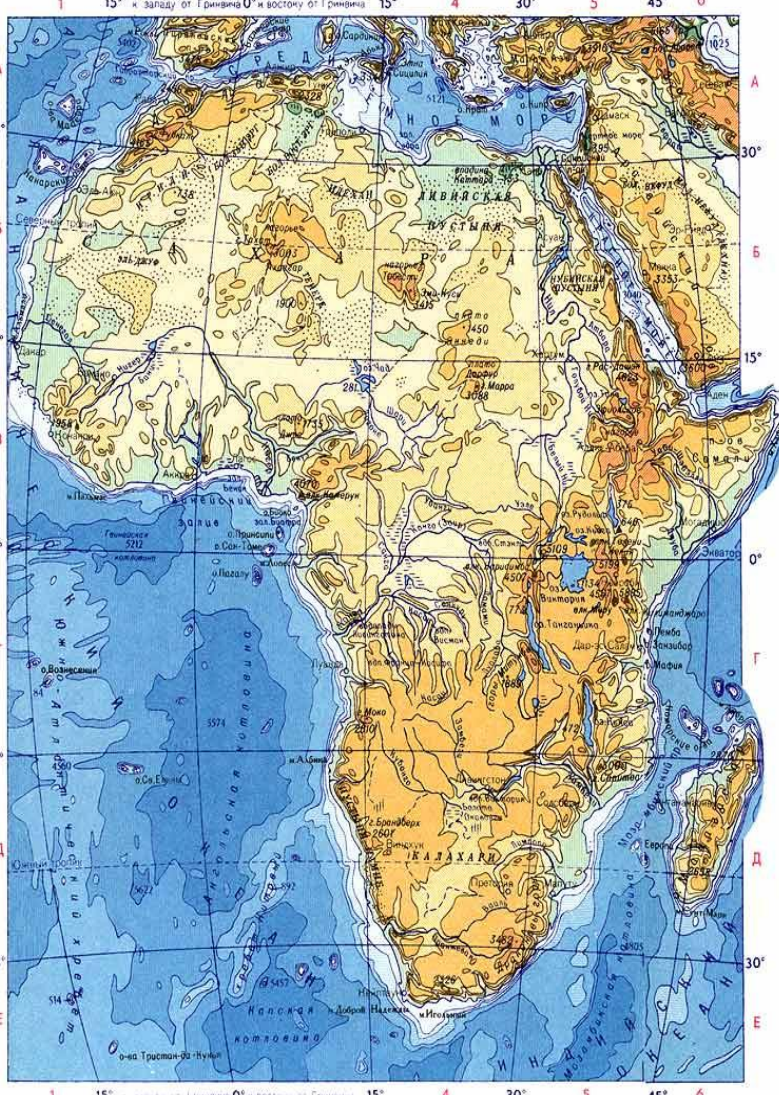
Цели урока:

- Узнать о географическом положении Африки



ВТОРОЕ МЕСТО по величине

(ПОСЛЕ ЕВРАЗИИ) и количеству государств



S = 30,3 млн км²

**На территории Африки
расположены 53
государства**

ШКАЛА ГЛУБИН И ВЫСОТ В МЕТРАХ
глубине 6000 5000 4000 2000 1000 200 0 200 500 1000 2000 4000 выше

План описания географического положения материка



- **Определить, как расположен материк относительно экватора, тропиков, (полярных кругов), нулевого меридиана.**
- **Найти крайние точки материка, определить их координаты и протяженность материка в градусах и километрах с севера на юг и с запада на восток.**
- **В каких климатических поясах расположен материк**
- **Определить, какие океаны и моря омывают материк.**
- **Как расположен материк относительно других материков.**

Африка - прародина человека

Только здесь основная часть

населения-

коренные народы -

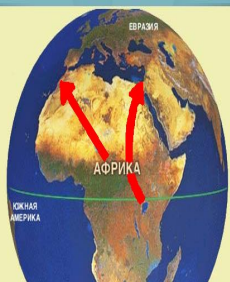
негроиды.

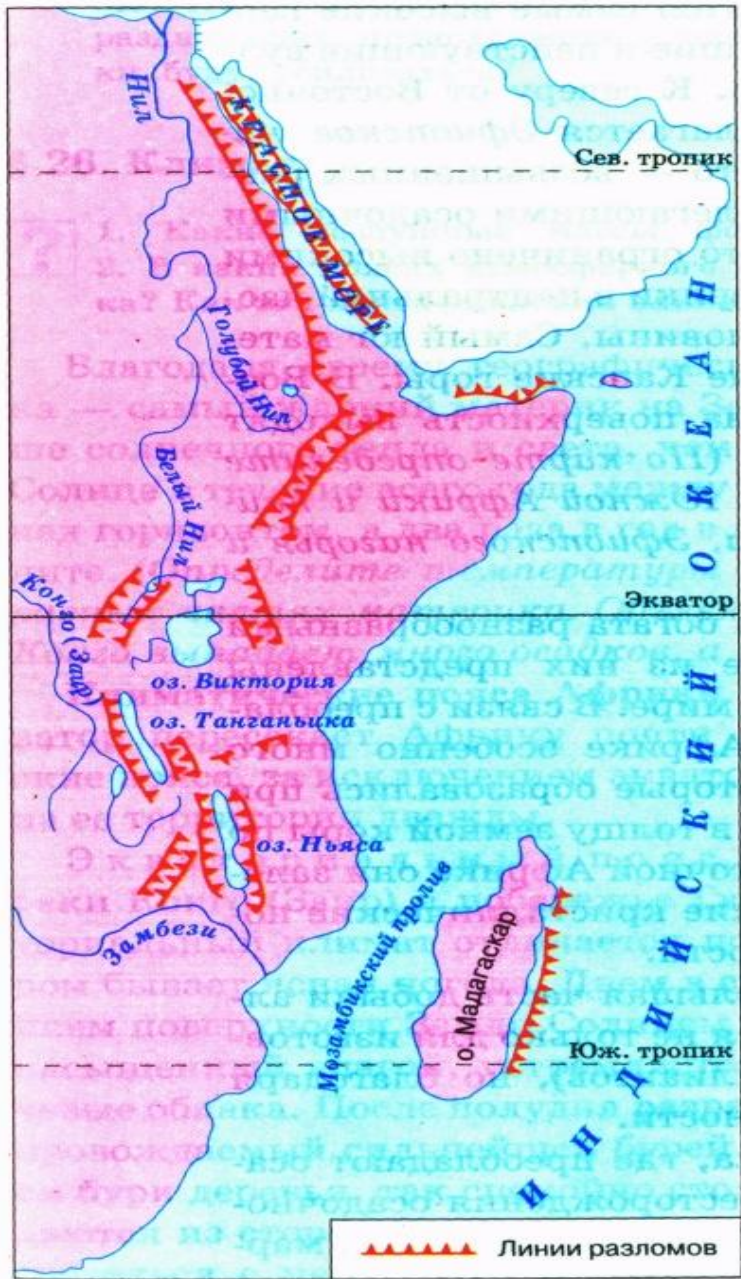
Здесь живут **пигмеи** – самый

низкорослый народ Африки -

до 150 см и самые высокие

люди зем





В Африке
находится
самый
крупный на
суше
разлом
земной коры

САХАРА САМАЯ БОЛЬШАЯ ПУСТЫНЯ МИРА



Здесь самая высокая температура на Земле +50 t



Крупные животные суши

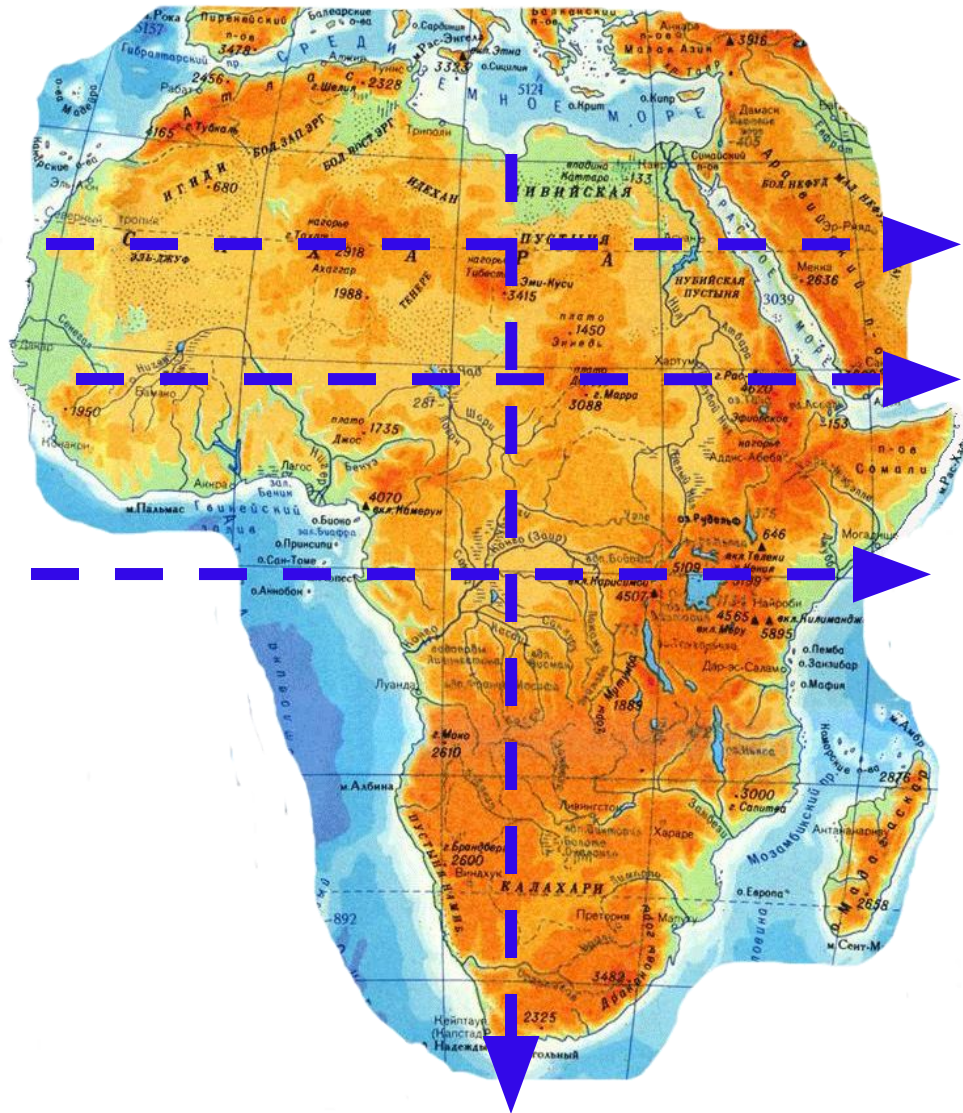


40% занимают саванны



Самая длинная река - НИЛ

САМЫЙ ЖАРКИЙ МАТЕРИК



1. Африка почти посередине пересекается экватором

2. Большая часть лежит между тропиками, поэтому Африка самый жаркий материк.

3. Крайняя северная и крайняя южная точки почти одинаково удалены от экватора

ГЕОГРАФИЧЕСКОЕ ПОЛОЖЕНИЕ



В каких полушариях лежит большая часть Африки?

В каких географических широтах расположена большая часть Африки?

- **АФРИКА САМЫЙ ЖАРКИЙ МАТЕРИК ЗЕМЛИ**

Пользуясь масштабом, измерьте протяженность материка по 10 с.ш.

- * **Это самая широкая часть материка**

Назовите крайние точки и их координаты.

Какими океанами омывается Африка?

- На восток от Гибралтарского пролива

