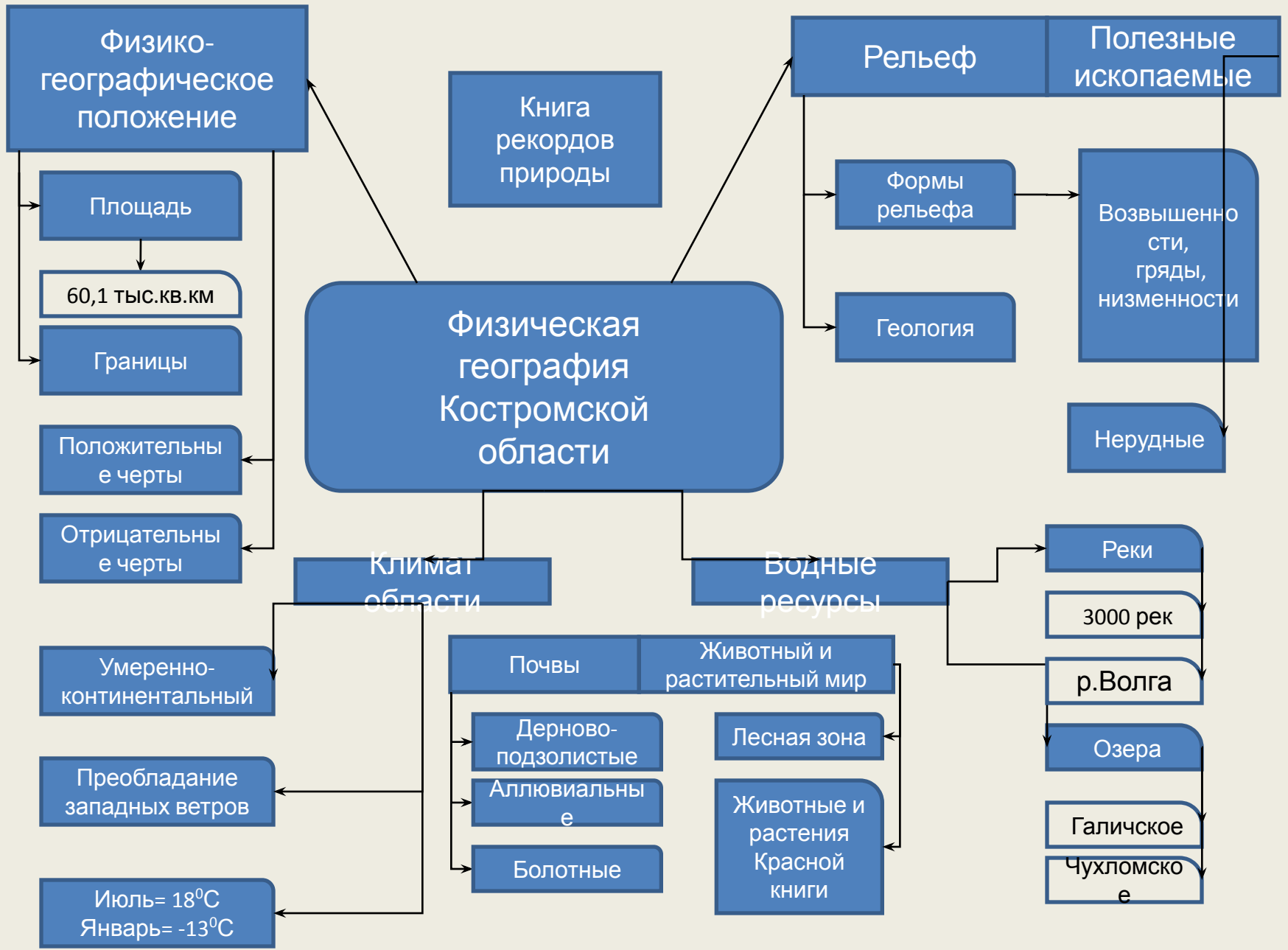




Практико-ориентированный проект
Электронное учебное пособие
«Физическая география
Костромской области»

Участники: Ученики 8 класса



Физико-географическое положение

Площадь

60,1 тыс. кв. км

Границы

Положительные черты

Отрицательные черты

Умеренно-континентальный

Преобладание западных ветров

Июль = 18°C
Январь = -13°C

Книга рекордов природы

Физическая география Костромской области

Климат области

Водные ресурсы

Рельеф

Полезные ископаемые

Формы рельефа

Возвышенности, гряды, низменности

Геология

Нерудные

Реки

3000 рек

р. Волга

Озера

Галичское

Чухломское

Почвы

Животный и растительный мир

Дерново-подзолистые

Лесная зона

Аллювиальные

Животные и растения Красной книги

Болотные

Географическое положение и границы



Общие сведения о Костромской области

С января 2000 г. при введении деления страны на федеральные округа Костромская область вошла в состав Центрального федерального округа

Областной центр – город Кострома

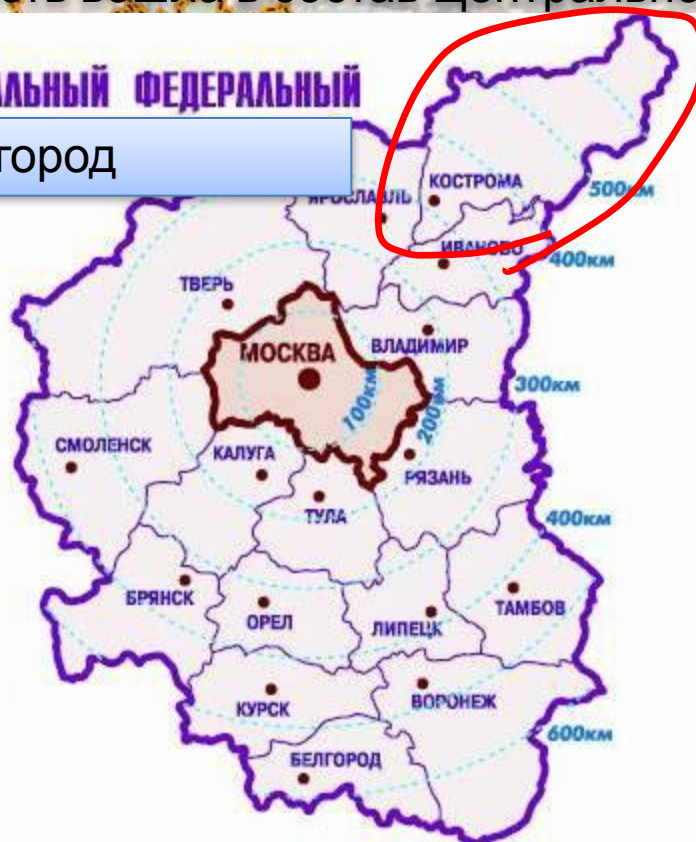
Костромская область образована в 1944 году

Площадь 60,1 тыс. кв. км (1,2% территории России)

Расположена на левом берегу Волги

в 372 км к северу от Москвы

ЦЕНТРАЛЬНЫЙ ФЕДЕРАЛЬНЫЙ ОКРУГ



расположена на обоим берегам р. Волга



Костромская область



60,1 ТЫС. КВ. КМ

Ирландия

70



Нидерланды

41



Грузия

69,7



Границы




Административная карта Костромской области



В состав области входят 24
района



Плюсы и минусы ФГП Костромской области



Расположена в центральной части России

Лежит на берегах р.Волги – главной водной артерии страны

Входит в «Золотое Кольцо России»

Преобладает равнинная территория, большое количество лесов

Слабое развитие автодороги железнодорожных путей, замедляющее экономическое развитие области

Большая (более 400км) протяженность с запада на восток, значительная удаленность некоторых районов из областного центра

Слабое обеспечение полезными ископаемыми



Контрольные вопросы по теме ФГП Костромской области

1. В какой части России расположена Костромская область?

2. Выберите правильный ответ:

А) Площадь области 70 тыс .кв.км.

Б) Площадь области 65 тыс .кв.км.

В) Площадь области 60,1 тыс .кв.км.

3. Оцените величину территории области.

4. Расскажите об административно –территориальном устройстве области.

5. Оцените «плюсы» и «минусы» ФГП области и сделайте предположения об этапах ее дальнейшего развития

6. На каком расстоянии от Москвы находится наша область?

7. Соотнесите границы области и субъектов федерации, с которыми она граничит:

1. На севере. А. Ярославская область.

2. На востоке. Б. Вологодская область.

3. На юге. В. Кировская область.

4. На западе Г. Ивановская и Нижегородская области.

8. Объясните, почему территорию области относят к Центральному Федеральному округу?

