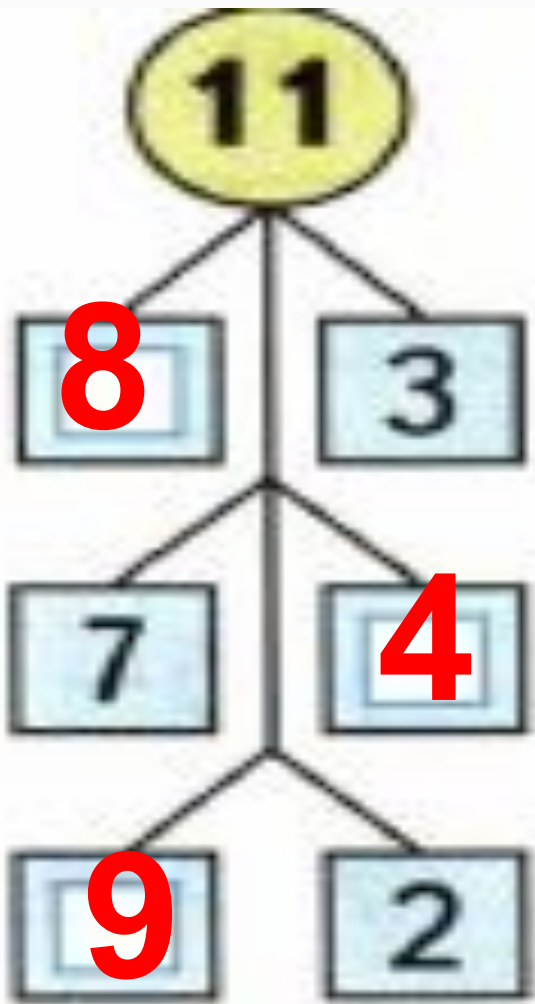


Случай вычитания 15-□







15	7	6
	8	9



Найди число, которое на 5 меньше, чем

13

14

12

11

10

8

9

7

6

5



Найди число, которое на 5 больше, чем

6

9

7

8

10

11

14

12

13

15



ОПРЕДЕЛИ,
НЕ
ВЫЧИСЛЯЯ,
КАКАЯ
СУММА
БОЛЬШЕ:

$$1 + 3 + 5$$

$$2 + 4 + 6$$



Слагаемое	6	6	6	6	6	6	6
Слагаемое	2	3	4	5	6	7	8
Сумма	8	9	10	11	12	13	14



4. Саша выполнил вычитание своими способами. Объясни, как он рассуждал.

$$\begin{array}{r} 15 - 9 = \square \\ \hline 10 - 9 + 5 = 6 \end{array}$$

$$\begin{array}{r} 13 - 8 = \square \\ \hline 10 - 8 + 3 = 5 \end{array}$$



Устно составь две задачи по таблице и запиши решение каждой задачи в таблице.

Было	Уехало	Осталось
14 м.	6 м.	? <input type="text"/>
16 м.	3 м. и 7 м.	? <input type="text"/>



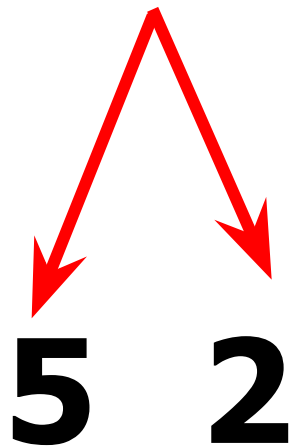


$$\begin{array}{r} 15 - 7 \\ \hline 15 - 5 - 2 \end{array}$$

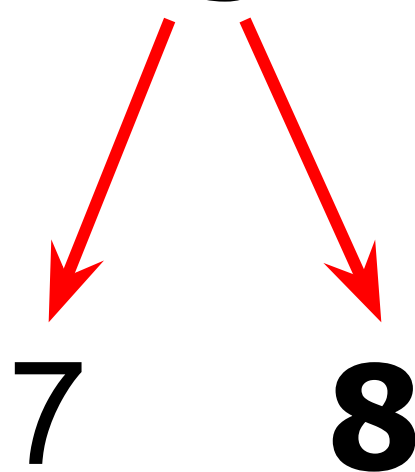


КАК РАССУЖДАЛИ ПРИ ВЫЧИТАНИИ?

$$15 - 7 = 8$$



$$15 - 7 = 8$$



Вычисли и запомни.

$15 - 6$

$15 - 7$

$15 - 8$

$15 - 9$



ЗАПОМНИ!

$15 - 6 = 9$

$15 - 8 = 7$

$15 - 7 = 8$

$15 - 9 = 6$



1. $14 - 8$

$14 - 5$

$14 - 7$

$14 - 6$

$14 - 9$

$13 - 9$

$8 + 9$

$5 + 6$

$4 + 8$

$5 + 8 - 3$

$6 + 9 - 7$

$7 + 8 - 5$



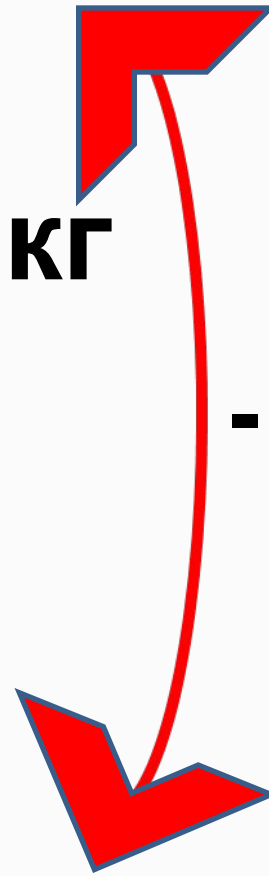
2. В школьный буфет привезли два ящика яблок, по 8 кг в каждом, и 10 кг груш. Узнай сначала, сколько привезли килограммов яблок, а потом, на сколько килограммов больше привезли яблок, чем груш.



Яблоко - ? кг 8 кг и 8 кг

Груша - 10 кг

- на ? >



САМОСТОЯТЕЛЬНАЯ РАБОТА

$15 - 6 =$

$14 - 7 =$

$15 - 8 =$

$13 - 6 =$

