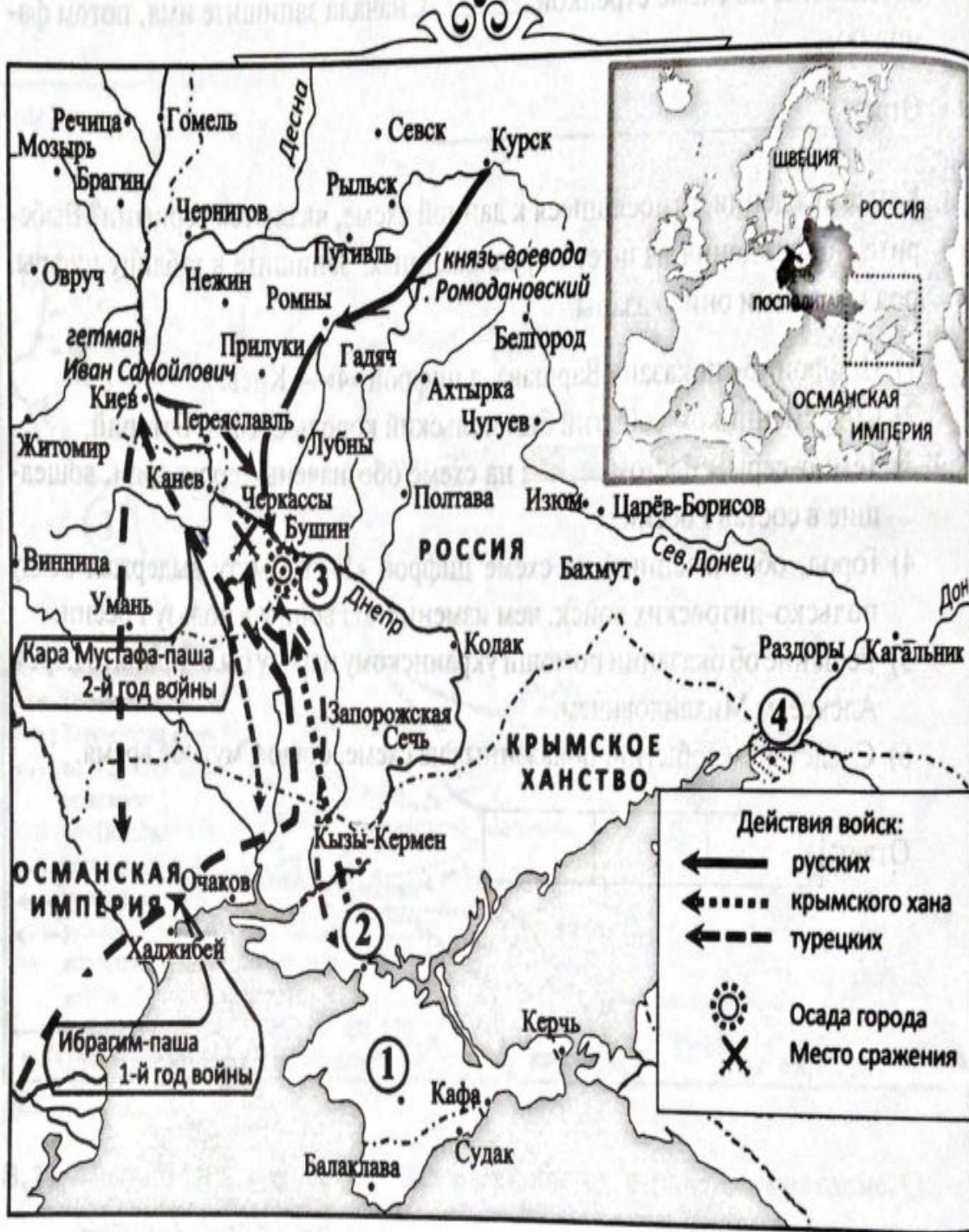


Русско-турецкие войны, разбор заданий по картам, ЕГЭ по истории





1. Запишите век, к которому относятся события, отражённые на схеме. Ответ запишите одним словом.

Ответ: _____.

2. Укажите общее название боевых действий (походов) русско-украинских войск, показанных на схеме. Ответ запишите одним словом.

Ответ: _____.

3. Назовите укреплённый пункт, обозначенный на схеме цифрой «2».

Ответ: _____.

4. Какие суждения, относящиеся к данной схеме, являются верными? Выберите три суждения из шести предложенных. Запишите в таблицу цифры, под которыми они указаны.

- 1) Современником событий был Алексей Михайлович Тишайший.
- 2) Город, обозначенный на схеме цифрой «4», входил в состав русского государства.
- 3) Боевые действия получили название по населённому пункту, обозначенному на схеме цифрой «3».
- 4) Государственное образование, столицей которого был город, обозначенный на схеме цифрой «1», находилось в вассальной зависимости от Турции.
- 5) Русским царём в данный период времени был Фёдор Алексеевич.
- 6) Результатом событий, показанных на схеме, стало присоединение к России Киева.



1. Запишите название походов, обозначенных на схеме. Ответ запишите одним словом.

Ответ: _____

2. Укажите название города, обозначенного на схеме цифрой «2».

Ответ: _____




3. Назовите имя и фамилию русского государственного деятеля и полководца, руководившего обоими походами. Запишите имя, потом фамилию.

Ответ: _____

4. Какие суждения, относящиеся к данной схеме, являются верными? Выберите три суждения из шести предложенных. Запишите в таблицу цифры, под которыми они указаны.

- 1) Походы стали следствием вступления России в Священную лигу.
- 2) Война велась против Речи Посполитой.
- 3) Россия имела в качестве союзников Данию и Саксонию.
- 4) В год совершения второго похода был подписан Нерчинский договор.
- 5) Современником событий был Стефан Баторий.
- 6) После первого похода произошла смена гетмана Войска Запорожского.



 Корабельные верфи
 Направления основных походов русских войск
 Направления вспомогательных ударов русских войск

1. Укажите город, обозначенный на схеме цифрой «3», от названия которого получили своё название боевые действия, показанные на схеме. Название города запишите.
 Ответ: _____
2. Укажите русского царя, в период правления которого и по инициативе которого произошли события, обозначенные на схеме.
 Ответ: _____
3. Назовите город, обозначенный и на схеме, и на вставке к схеме цифрой «2».
 Ответ: _____
4. Какие суждения, относящиеся к данной схеме, являются верными? Выберите три суждения из шести предложенных. Запишите в таблицу цифры, под которыми они указаны.
 - 1) В данный период времени город, обозначенный на схеме цифрой «4», был важным торговым портом, связывавшим Россию и Западную Европу.
 - 2) События, показанные на схеме, получили название «Кожуховские походы».
 - 3) Сестра государя, правившего в данный период времени, стала женой герцога Курляндского.
 - 4) В этот период времени в России официально правили сразу два царя.
 - 5) С названием города, обозначенного на схеме цифрой «5», связано народное восстание первого десятилетия века, следующего за тем, в котором происходили события, обозначенные на схеме.
 - 6) Для завоевания города, показанного на схеме цифрой «3», потребовалась война, длившаяся 21 год.



3. Назовите реку, обозначенную на схеме двумя цифрами «4».

Ответ: _____

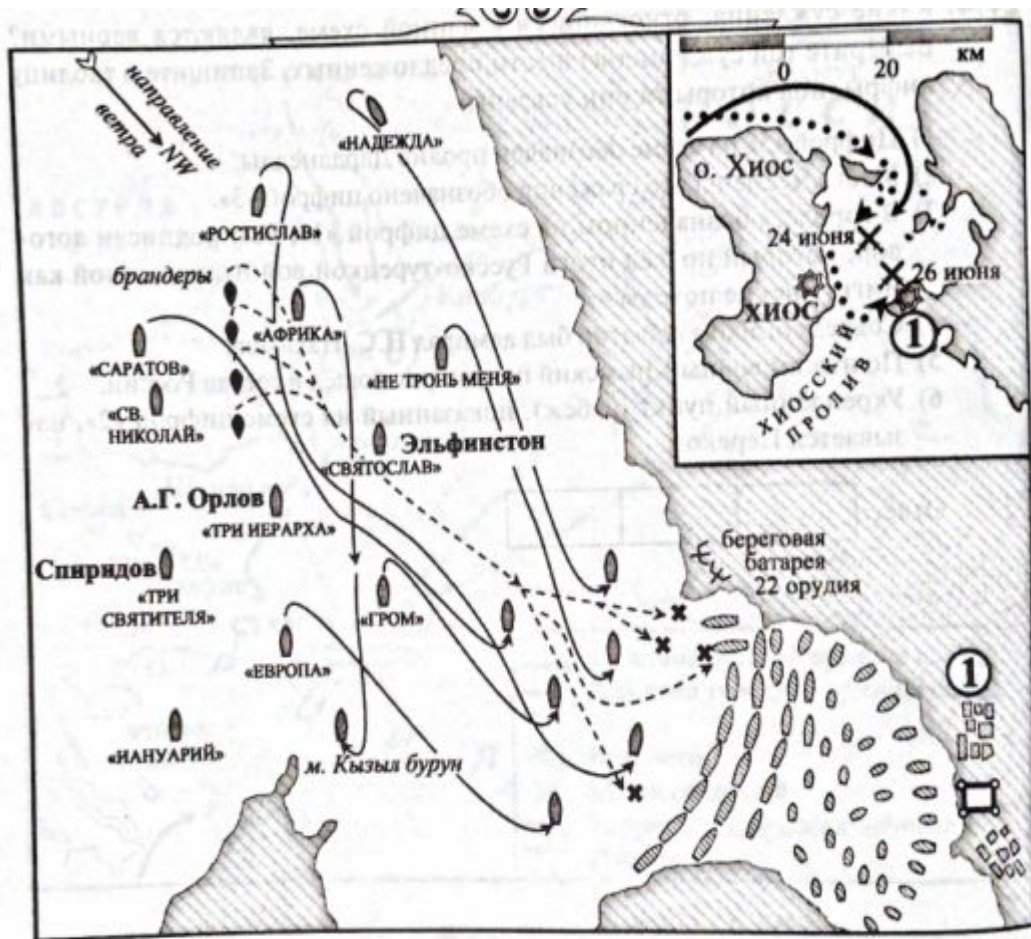
4. Какие суждения, относящиеся к данной схеме, являются верными? Выберите три суждения из шести предложенных. Запишите в таблицу цифры, под которыми они указаны.

- 1) Цифрой «5» на схеме обозначен пролив Дарданеллы.
- 2) Место Чесменского сражения обозначено цифрой «3».
- 3) В городе, обозначенном на схеме цифрой «1», был подписан договор, который подвёл итоги Русско-турецкой войны, известной как Чигиринские походы.
- 4) Современником событий был адмирал П.С. Нахимов.
- 5) По итогам войны Крымский полуостров вошёл в состав России.
- 6) Укреплённый пункт (рубеж), показанный на схеме цифрой «2», называется Перекоп.

21.1. Укажите фамилию русского полководца, одержавшего победы у Рябой могилы, Ларги и Кагула.

Ответ: _____

21.2. Укажите название крепости, обозначенной на схеме цифрой «6».



22.1. Напишите название страны, ведшей войну с Россией, в ходе которой было осуществлено сражение, указанное на схеме.

Ответ: _____.

22.2. Напишите название города, обозначенного на схеме цифрой «1», у которого произошло сражение, отобранное на схеме.

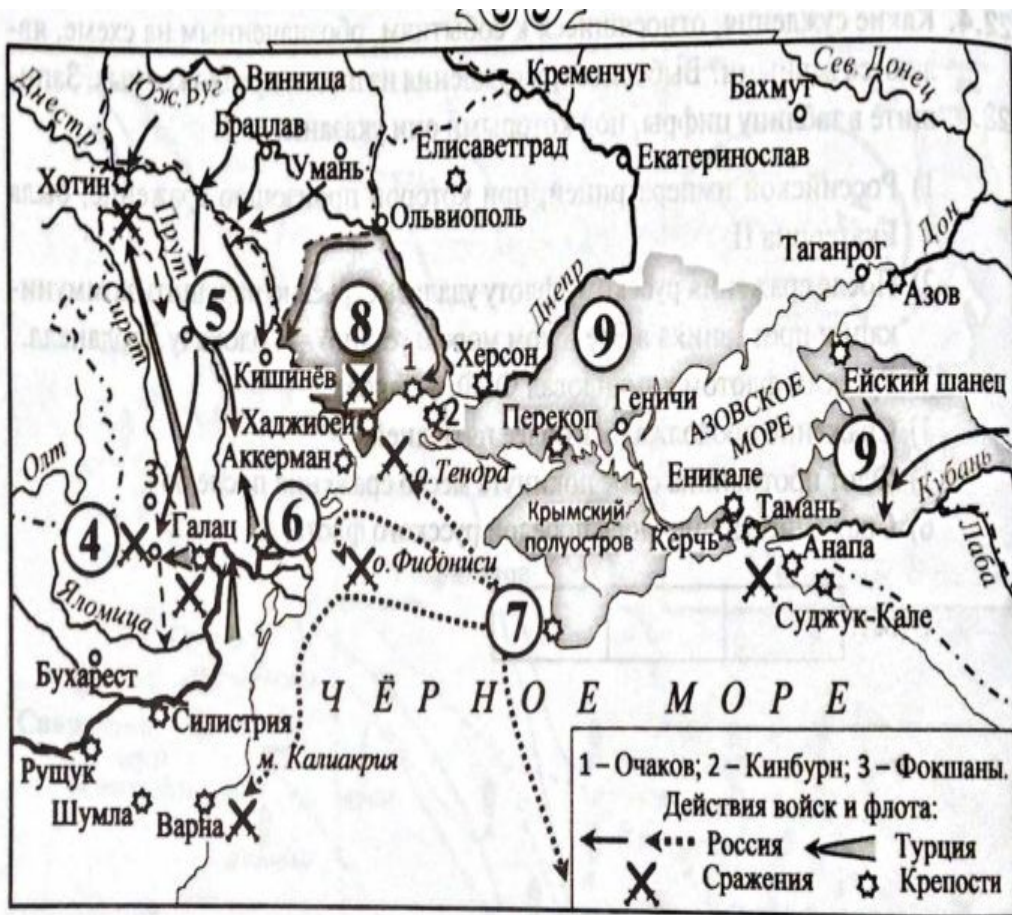
Ответ: _____.

3. Напишите год события, которое отображено на схеме.

Ответ: _____.

4. Какие суждения, относящиеся к событиям, обозначенным на схеме, являются верными? Выберите три суждения из шести предложенных. Запишите в таблицу цифры, под которыми они указаны.

- 1) Российской императрицей, при которой произошло сражение, была Екатерина II.
- 2) После сражения русскому флоту удалось серьёзно нарушить коммуникации противника в Эгейском море и установить блокаду Дарданелл.
- 3) Русским флотом командовал Ф. Ф. Ушаков.
- 4) Сражение продолжалось более пяти дней.
- 5) Флот противника смог покинуть место сражения после боя.
- 6) Сражение закончилось победой русского флота.



23.1. Укажите название страны, с которой Россия вела войну, события которой обозначены на схеме. Ответ запишите словом.

Ответ: _____.

23.2. Укажите год захвата крепости, обозначенной цифрой «6», в ходе войны, события которой отражены на схеме.

Ответ: _____.

3. Укажите название реки, обозначенной на схеме цифрой «4», за победу у которой А.В. Суворов получил графский титул и почётную приставку к фамилии.

Ответ: _____.

4. Какие суждения, относящиеся к данной схеме, являются верными? Выберите три суждения из шести предложенных. Запишите в таблицу цифры, под которыми они указаны.

- 1) Цифрой «8» на схеме обозначена территория, вошедшая в состав Российской империи по итогам мирного договора, подписанного в населённом пункте, обозначенном на схеме цифрой «5».
- 2) Цифрой «9» на схеме обозначены земли, вошедшие в состав России в год обретения США независимости.
- 3) Город, обозначенный на схеме цифрой «7», в настоящее время главная военно-морская база России на Чёрном море.
- 4) Победы у о. Тендра, о. Фидониси и м. Калиакрия одержаны адмиралом Г.А. Спиридовым.
- 5) Крепость, обозначенная на схеме цифрой «1», перед началом войны была опорным пунктом России на побережье Чёрного моря.
- 6) Союзником России в данной войне была Пруссия.



24.1. Укажите век, когда в состав Российской империи вошли территории, обозначенные на схеме цифрами. Ответ запишите словом.

Ответ: _____.

24.2. Укажите название города, обозначенного на схеме цифрой «1».

3. Назовите город, в котором был подписан мирный договор, по итогам которого в состав Российской империи вошли земли, показанные на схеме цифрой «3».

Ответ: _____.

4. Какие суждения, относящиеся к данной схеме, являются верными? Выберите три суждения из шести предложенных. Запишите в таблицу цифры, под которыми они указаны.

- 1) Территории, показанные на схеме как вошедшие в состав Российской империи, присоединены в период правления двух императоров.
- 2) Современником присоединения территорий, показанных на схеме цифрами «2» и «3», был А.Д. Меншиков.
- 3) Территории, обозначенные на схеме цифрой «2», вошли в состав России по итогам мирного договора, подписанного в с. Кючук-Кайнарджа.
- 4) Территории, обозначенные на схеме цифрами «5» и «6», вошли в состав России при Николае I.
- 5) Крымский полуостров вошёл в состав России в том же году, в котором Великобритания признала независимость США.
- 6) Вошедшие в состав России, Киевская и Подольская губернии, обозначенные на схеме цифрой «4», были образованы в ходе первого и второго разделов Речи Посполитой.
