

Решаем задачи. Составляем обратные задачи


## Урок 19.



Реши задачу. Составь краткую запись

- В новой Машенькиной книге было 15 сказок. Машенька прочитала 8 сказок

Сколько сказок осталось прочитать Машеньке?






## Обратная задача Составить краткую запись и решить.

- В книге Машеньки несколько сказок. Она прочитала 8 сказок. Ей осталось прочитать 7 сказок. Сколько в книге сказок ?



Обратная задача. Составь краткую запись и  
реши задачу

В книге у Маши 15 сказок. Маша прочитала  
несколько сказок. Ей осталось прочитать 7  
сказок. Сколько Маша прочитала сказок?







Решить  
примеры

## Задачи, обратные данной

Урок 19.



## Реши примеры. Запиши в тетрадь

$90-50$

$89-2$

$70-40$

$100-20$

$56-6$

$100-2$

$56-50$


$100-50$

$47-40$

$25+25$

$47-40$

$45+45$



*10 ноября*

*Классная работа*





# Математический диктант( писать в строку через клетку ТОЛЬКО ОТВЕТЫ )

Запиши число, которое на 6 меньше,  
чем число 20.

Сколько получится, если число 50  
увеличить на 2 десятка?

Найди разность чисел 16 и 8.

Число 30 увеличь на 60.

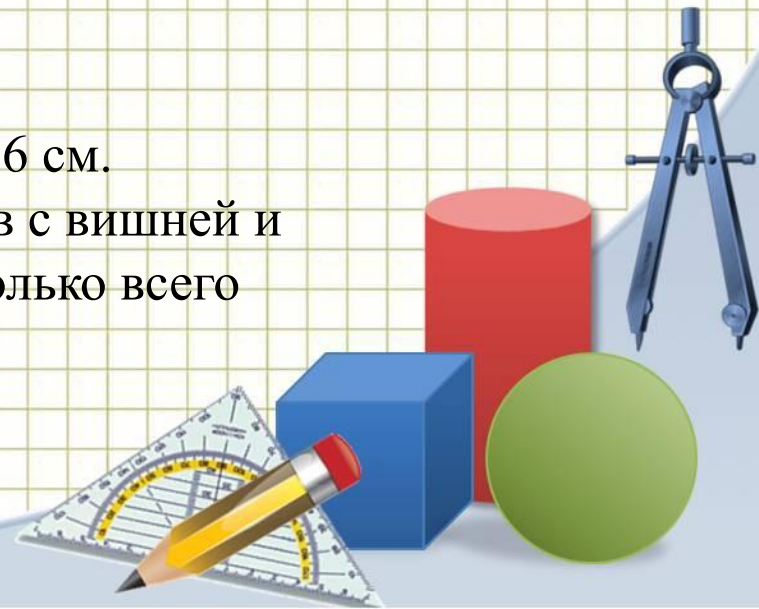
Найди сумму чисел 8 и 9.

Уменьшаемое - 19, разность – 8. Чему  
равно вычитаемое?

Число 14 уменьши на 8.

Вырази в сантиметрах 1 дм 6 см.

Мама испекла 17 пирожков с вишней и  
столько же с голубикой. Сколько всего  
пирожков испекла мама?






## УСТНО

В букете 15 одуванчиков и 8 васильков.  
На сколько больше одуванчиков, чем  
васильков?

$$15 - 8 = 7 \text{ (цв.)}$$



## УСТНО

В цирковой программе выступали 3 жонглёра, клоунов – на 2 больше, а акробатов было столько, сколько жонглёров и клоунов вместе. Сколько было акробатов?

$$3 + 2 = 5 \text{ (кл.)}$$

$$3 + 5 = 8 \text{ (акр.)}$$






## УСТНО

Серёжа слепил из пластилина 40 разных динозавров: 10 хищных и несколько травоядных. Сколько травоядных динозавров слепил Серёжа?


$$40 - 10 = 30 \text{ (д.)}$$



## УСТНО

Рост Илюши 99 см, а рост Ксюши 90 см.  
На сколько сантиметров Ксюша ниже  
Илюши?


$$99 - 90 = 9 \text{ (см)}$$



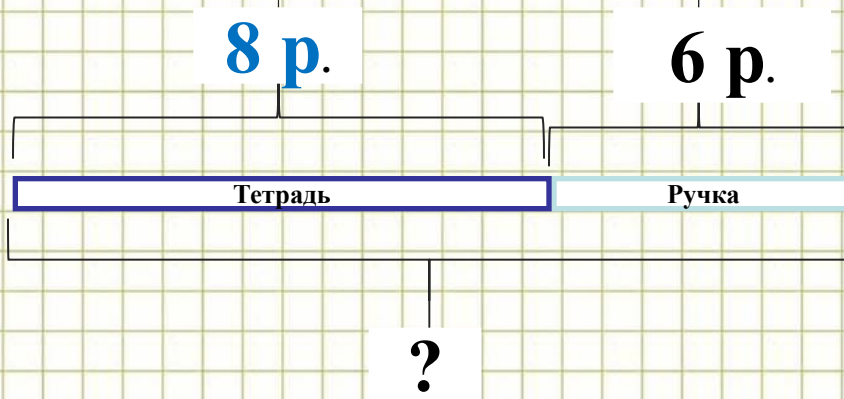




... Устно! задачи



*Наташа купила тетрадь за 8 рублей и ручку за 6 рублей. Сколько стоила вся покупка?*



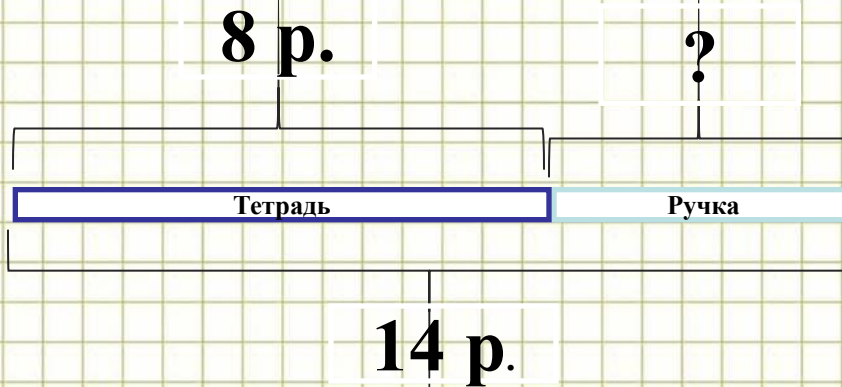
$$8 + 6 = 14 \text{ (р.)}$$

*Ответ: вся покупка стоила 14 рублей.*






*Натasha купила тетрадь за 8 рублей и ручку.  
За всю покупку она заплатила 14 рублей.  
Сколько стоила ручка? ОБРАТНАЯ ЗАДАЧА*

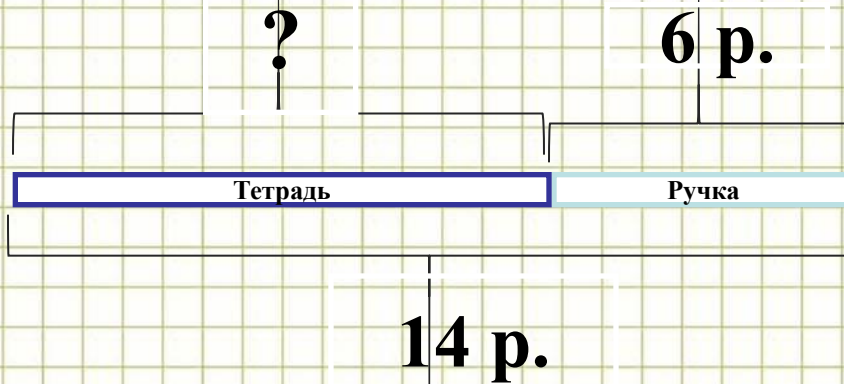


$$14 - 8 = 6(\text{р.})$$

*Ответ: 6 рублей стоила ручка.*



*Наташа купила тетрадь и ручку за 6 рублей.  
За всю покупку она заплатила 14 рублей.  
Сколько стоила тетрадь? ОБРАТНАЯ задача*



$$14 - 6 = 8(\text{р.})$$


*Ответ: 8 рублей стоила тетрадь.*







# Обратные задачи



# Работа по учебнику



Стр. 26





# УСТНО

Выявите закономерность в каждом ряду и продолжите ряды.

$13 - 7$

$6 + 8$

$90 - 20$

$14 - 7$

$7 + 8$

$80 - 30$

$15 - 7$

$8 + 8$


$70 - 40$

$60 -$

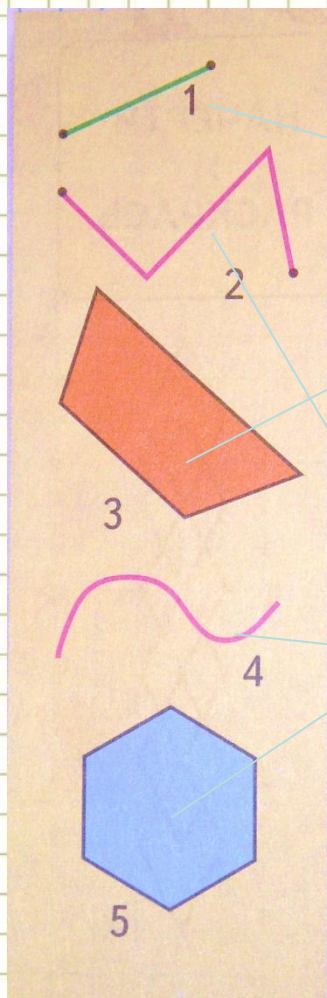
$16 - 7$

$9 + 8$

$50$



# Назови каждую фигуру




Четырёхугольник

Отрезок

Шестиугольник

Кривая линия


Ломаная линия





# Подведение итогов

- Что нового узнали на уроке?
- Всё ли вам было понятно?
- Что вызвало затруднения?
- Как вы думаете, почему это произошло?
- Кто доволен своей работой на уроке?



До новых встреч,  
ребята!!!

