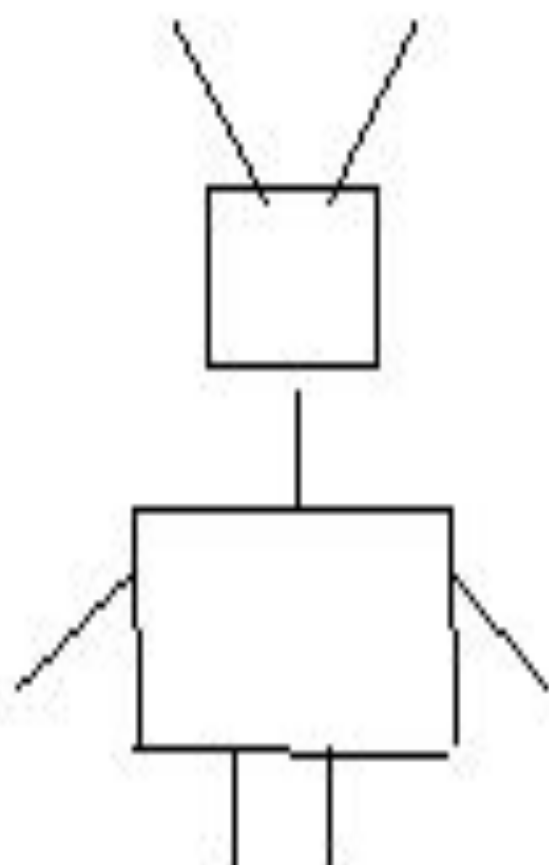



2”



”

b



A



Решение задач на дроби

Айболит за первый день
вылечил $\frac{3}{5}$ всех заболевших
зверей, а во второй он
вылечил оставшихся 30
зверюшек. Сколько всего
зверей вылечил Айболит?

Задача

• Всего – 25 учеников

• Не выполняют $\frac{3}{25}$ учеников

• Не всегда выполняют $\frac{2}{5}$ учеников

Самостоятельная работа.

В – 1.

В компьютерной игре разыгрывается 20 очков. Ира набрала $\frac{3}{10}$ всех возможных очков, а Саша в 2 раза больше. Сколько очков набрал Саша?

В – 2.

Длина прямоугольника равна 10 см, что составляет $\frac{5}{2}$ его ширины. Чему равна площадь прямоугольника?

Решение.

В – 1.

1) $20 \cdot \frac{3}{10} = 6$ (очков) – набрала Ира.

2) $6 \cdot 2 = 12$ (очков) – набрал Саша.

В – 2.

1) $10 : \frac{5}{2} = 10 \cdot \frac{2}{5} = 4$ (см) – ширина.


2) $10 \cdot 4 = 40$ (см²) – площадь.



Я понимал всё, о чём говорилось и что делалось на уроке. Мне было интересно.



Мне было достаточно комфортно на уроке, но я принимал в нём не очень активное участие. Мне было не очень интересно.



К ответам на уроке я был не готов. Мне было скучно на уроке.