

# Обобщающий урок по теме «Экономические районы России»

# Письмо:



Входящие 3

Отправленные

Черновики

Спам

Корзина

[Настроить папки](#)

Все непрочитанные письма

Все отмеченные флажком

Архив Mail.Ru Агента



Письмо ↑ предыдущее следующее ↓

Высшее образование дистанционно. Московский диплом!

Ответить

Ответить всем

Переслать

Удалить

Это спам

▾ Переместить

▾ Пометить

▾ Ещё



**Перед российской промышленностью стоит проблема, и мы просим вас помочь её решить**

От кого: **Министерство промышленности и торговли РФ**



Кому:

Сегодня

*«Дорогие ребята! Перед российской промышленностью стоит проблема, и мы просим вас помочь её решить. Для обеспечения и развития промышленности на территории Российской Федерации государственной казной было заложено в бюджет страны более 10 трл.рублей. Помогите определить в какие экономические районы нужно выделить денежные средства для развития отраслей промышленности, чтобы наша экономика Российской Федерации стала рентабельной.»*

*Министерство промышленной политики*

Давайте определим задачи  
нашего урока.

# Решить эти задачи я предлагаю с помощью игры- «Путешествие по экономическим районам России»

- **Цель нашего урока :** *Обобщить и систематизировать знания об экономических районах России.*

Откуда начинается Россия?  
С Курил? С Камчатки? Или с Командор?  
О чем грустят глаза ее степные  
Над камышами всех ее озер?  
Россия начинается с пристрастья  
к труду,  
к терпению,  
к правде,  
к доброте.  
Вот в чем ее звезда. Она прекрасна!  
Она горит и светит в темноте.  
Отсюда все дела ее большие,  
Ее неповторимая судьба.  
И если ты причастен к ней Россия  
Не с гор берет начало, а с тебя!

# Игра «Путешествие по экономическим районам»

## **Первое задание: Номенклатура.**

- Ваша задача верно расположить на контурной карте России экономические районы. Для этого перенесите районы на карту.
- Каждый правильно поставленный объект дает 1 балл.
- (всего 11 б)



Цели районирования

Правила выделения районов

Способы и результаты районирования

# ПРАКТИКА



ЗАКРЫТЬ X

На контурной карте России обозначьте экономические районы. Для этого перенесите названия районов на карту

Волго-Вятский

Дальневосточный

Северный

Восточно-Сибирский

Западно-Сибирский

Центрально-Черноземный

Уральский

Центральный

Поволжский

Северо-Западный

Северо-Кавказский



ТЕСТЫ

ПРАКТИКА

СОДЕРЖАНИЕ  
СПРАВОЧНИК  
ДИКТОР  
ПОМОЩЬ  
ИНТЕРНЕТ  
ВЫХОД

ЗАДАНИЕ

1 2 3 4

Цели районирования

Правила выделения районов


Способы и результаты районирования

# ПРАКТИКА



ЗАКРЫТЬ X

ЗАДАНИЕ ВЫПОЛНЕНО  
УСПЕШНО



ТЕСТЫ

ПРАКТИКА

- СОДЕРЖАНИЕ
- СПРАВОЧНИК
- ДИКТОР
- ПОМОЩЬ
- ИНТЕРНЕТ
- ВЫХОД

ЗАДАНИЕ



- **2) Определите экономический район по видео-сюжету.** *( за каждый верно определенный экономический район 1 балл, всего 7 баллов)*

## ОТВЕТЫ:

Экономический район № 1 – Восточная Сибирь

Экономический район № 2 – Волго - Вятский

Экономический район № 3 – Дальневосточный

Экономический район № 4 – Северо – Западный

Экономический район № 5 – Западно-Сибирский

Экономический район № 6 – Уральский

Экономический район № 7 – Северный Кавказ

# Этпайди суответствие субъект федерации –центр (всего 12 баллов)

<i>1.Марий-Эл</i>	<i>А) Саранск</i>
<i>2.Мордовия</i>	<i>Б)Махачкала</i>
<i>3.Адыгея</i>	<i>В)Ижевск</i>
<i>4.Татарстан</i>	<i>Г) Майкоп</i>
<i>5.Карелия</i>	<i>Д) Чебоксары</i>
<i>6.Башкирия</i>	<i>Е) Кызыл</i>
<i>7.Чувашия</i>	<i>Ж) Казань</i>
<i>8.Ингушетия</i>	<i>З) Уфа</i>
<i>9.Дагестан</i>	<i>И) Улан-Удэ</i>
<i>10.Удмуртия</i>	<i>К) Магас</i>
<i>11.Тыва</i>	<i>Л) Петрозаводск</i>
<i>12Бурятия</i>	<i>М) Йошкар-Ола</i>

**4) Следующее наше задание  
определить экономический  
район по некоторым признакам  
и найти признак не  
относящийся к этому  
экономическому району.**

*район.*

*№1 \_\_\_\_\_*

- 1. Самый многонациональный район.*
- 2. Здесь развито рекреационное хозяйство.*
- 3. Развито транспортное машиностроение  
(производство автомобилей, самолетов,  
троллейбусов)*
- 4. Развит АПК.*

*район.*

*№2 \_\_\_\_\_*

- 1. В состав этого района входят 2 авт. Округа*
- 2. Большая часть населения живет в аулах, станицах.*
- 3. Здесь присутствует «вахтовый» метод работы*
- 4. Этот район богат нефтью, газом, углем.*

# ~~Стреловский экономический~~ район.

## №3 \_\_\_\_\_

1. *Этот экономический район мы знаем из произведений Бажова «Хозяйка медной горы»*
2. *Развита рыбная промышленность*
3. *Этот район самая старая металлургическая база России*
4. *Здесь проживают народы тюркской и финно-угорской группы*

# ~~Определите экономический~~ район.

## №4 \_\_\_\_\_

1. Развиты отрасли специализации: целлюлозно-бумажная, цветная металлургия, гидроэнергетика
2. В этом экономическом районе находится «жемчужина» России
3. Здесь несколько городов- миллионеров
4. Крупнейший в мире бассейн бурого угля, центр золотодобычи.



# ~~Определите экономический~~ район.

№5 \_\_\_\_\_

1. Ведется добыча алмазов
2. В состав этого экономического района входит анклав.
3. Главная отрасль промышленности- машиностроение.
4. Богата водными ресурсами

~~Определите экономический~~  
район.


№6 \_\_\_\_\_

1. Ведется добыча нефти
2. Ядро России
3. Больше всего РАН, научных центров
4. Большое месторождение железной руды

## ОТВЕТЫ:

- 1.** *Северный- Кавказ, лишнее 3*
- 2.** *Западная Сибирь, лишнее 2*
- 3.** *Урал, лишнее 2*
- 4.** *Восточная Сибирь, лишнее 3*
- 5.** *Северо-Западный, лишнее 1*
- 6.** *Центральный, лишнее 1*

А) По данным таблицы при помощи формулы  $K = П/Н$  определите для каких районов отраслями специализации являются машиностроение, черная металлургия и топливная промышленность



## ПРАКТИКА

Доля районов в производстве продукции, конец 1990-х, %

Район	Население	В том числе			
		Топливная	Черная металлургия	Машиностроение	Легкая
Россия	100	100	100	100	100
Северный	4	3	11	2	1,5
Северо-Западный	6	2,5	1	7,5	5
Центральный	20	6	8	25	51
Волго-Вятский	6	3	3	8,5	5
Центрально-Черноземный	5	0	11	5	3,5
Поволжский	11	10	4	15	7,5
Уральский	14	16	47	17	6
Западно-Сибирский	10	46	11	8	5,5
Восточно-Сибирский	6	7	1	2,5	5,5

Машиностроение	
Черная металлургия	
Топливная промышленность	

ЗАКРЫТЬ ✕

По данным таблицы при помощи формулы  $K = П/Н$  определите, для каких районов отраслями специализации являются машиностроение, черная металлургия и топливная промышленность

Западно-Сибирский

Северный

Центральный

Центрально-Черноземный

Северо-Западный

Восточно-Сибирский

Волго-Вятский

Поволжский

Уральский

ЗАДАНИЕ

1 2 3 4



ТЕСТЫ

ПРАКТИКА

СОДЕРЖАНИЕ  
СПРАВОЧНИК  
ДИКТОР  
ПОМОЩЬ  
ИНТЕРНЕТ  
ВЫХОД

Цели районирования

Правила выделения районов

Способы и результаты районирования

# ПРАКТИКА

Доля районов в производстве продукции, конец 1990-х, %

Район	Население	В том числе			
		Топливная	Черная металлургия	Машиностроение	Легкая
Россия	100	100	100	100	100
Северный	4	3	11	2	1,5
Северо-Западный	6	2,5	1	7,5	5
Центральный	20	6	8	25	51
Волго-Вятский	6	3	3	8,5	5
Центрально-Черноземный	5	0	11	5	3,5
Поволжский	11	10	4	15	7,5
Уральский	14	16	47	17	6
Западно-Сибирский	10	46	11	8	5,5
Восточно-Сибирский	6	7	1	2,5	5,5

Машиностроение	Северо-Западный	Центральный	Поволжский	Уральский
Черная металлургия	Центрально-Черноземный	Северный	Уральский	
Топливная промышленность	Уральский	Западно-Сибирский	Восточно-Сибирский	

ЗАКРЫТЬ X

ЗАДАНИЕ ВЫПОЛНЕНО  
УСПЕШНО



Западно-Сибирский

Северо-Западный

Восточно-Сибирский

Уральский

Волго-Вятский

Центральный

Поволжский

Северный

Центрально-Черноземный

ЗАДАНИЕ

1 2 3 4

ТЕСТЫ

ПРАКТИКА

СОДЕРЖАНИЕ  
СПРАВОЧНИК

ДИКТОР  
ПОМОЩЬ  
ИНТЕРНЕТ  
ВЫХОД

КРЫМ

# Угадай какому экономическому

## району принадлежит данная

### вещь.

2



11



12



7



8



3



9



10



5



4



1



## Ответы:

Северо- Западный  1,7	Центральная Россия  2,4,6,8	Урал  3,5
Поволжье  9,10	Северный Кавказ  12	Дальний Восток  11



# Конкурс «Эрудит».

## «Чем известны вам эти города?»

- Норильск
- Оренбург
- Тула
- Санкт-Петербург
- Нижний Новгород
- Тольятти
- Чебоксары
- Ульяновск
- Астрахань
- Снежинск
- Сочи
- Златоуст
- Энгельс
- Омск
- Волгоград
- Соликамск

## 8) Редактирование текста. Найди ошибку.

- 1. В Центральную Россию входят: Центральный, Центрально-Черноземный и Волго-Вятский районы, Поволжье.*
- 2. Центральная Россия граничит с другими государствами: Казахстаном, Литвой, Украиной Грузией, Беларусью, Финляндией.*
- 3. Центральная Россия- это столичный регион.*
- 4. Самым многочисленным народов Центральной России являются татары.*
- 5. Имеются ГЭС- Горьковская, Саяно-Шушенская.*
- 6. Есть города –миллионники: Ростов на Дону, Новосибирск, Москва, Воронеж, Сергиев-Посад, Саранск.*
- 7. Очень развиты отрасли промышленности: пищевая, машиностроение, топливная, легкая.*

- 1. В Центральную Россию входят: Центральный, Центрально-Черноземный и Волго-Вятский районы, Поволжье.
- 2. Центральная Россия граничит с другими государствами: Казахстаном, Литвой, Украиной, Грузией, Беларусью, Финляндией.
- 3. Центральная Россия - это столичный регион.
- 4. Самым многочисленным народом Центральной России являются татары.
- 5. Имеются ГЭС - Горьковская, Саяно-Шушенская.
- 6. Есть города - миллионники: Ростов на Дону, Новосибирск, Москва, Воронеж, Сергиев-Посад, Саранск.
- 7. Очень развиты отрасли промышленности: пищевая, машиностроение, топливная, легкая.

**Подведем итоги нашей работы по  
маршрутным листам**

# Тестирование по теме «Экономические районы России»

Цели районирования      Правила выделения районов  
Способы и результаты районирования

## РАЙОНИРОВАНИЕ РОССИИ

Выбери вопрос      НОВЫЙ ТЕСТ ✓      ЗАКРЫТЬ ✕

Район с самым малочисленным населением - ...

Варианты ответа      13:57

Волго-Вятский	Северный
Дальневосточный	Уральский

Вы правильно ответили на 10 из 10  
Оценка 5

ТЕСТЫ  
ПРАКТИКА  
СОДЕРЖАНИЕ  
СПРАВОЧНИК  
ДИКТОР  
ПОМОЩЬ  
ИНТЕРНЕТ  
ВЫХОД

● **Ответы к тесту**

**Часть А**

1. - **4**

2. - **4**

3. - **3**

4. - **4**

5. - **3**

6. - **4**

**Часть В**

1. - **3, 5, 6**

2. - **1Б, 2Г, 3В**

3. - **2, 4, 5**


# Ответ в Министерство






← Быстрый ответ   ← Ответить всем   → Переслать   [Полная форма](#)

Письмо автоматически сохранено в [черновиках](#) в 00:49

Показать все поля ▾

Кому:  

Тема:

Ж К Ч  Просто текст   Приложения:    Стиль: 

Развивать промышленность по всем направлениям, выделять денежные средства в каждый экономический район.

- У нас большинство одежды шито в Китае, очень слабое развитие легкой промышленности.
- все телефоны, телевизоры, компьютеры, стиральные машины и многое другое из электронной техники на российских рынках завалины Японскими и Китайскими производителями, нет отечественного производства
- Наш автопарк из автомобилей марок ВАЗ, ГАЗ, и другие не пользуются конкурентно способностью, если я приеду в Японию там я точно не встречу наш автомобиль.
- Когда я смотрю салоны Макс я горжусь своей страной, но если начнутся военные действия то все новые разработки не используются в российской армии.
- Большинство инженеров, конструкторов имеют возраст 40-50 лет, где молодые таланты?

Домашнее задание:

*написать эссе об одном*

*экономическом районе (по выбору)*



# Ребята нам принесли вот такую корзину цветов, разные цвета наших цветов говорят нам

- Красные и розовые цветы - говорят о восторге
- оранжевые - о радостном настроении и теплоте;
- желтые – говорят о светлом и приятном
- зеленые – означают спокойствие;
- синие - неудовлетворенность, грусть;
- фиолетовые - тревогу, напряжение;



Я предлагаю создать наш букет выберите себе цветок и оцените наш сегодняшний урок.

Спасибо за урок!

