


Интерактивн ые игры



Помоги Маше нарисовать радугу



Реши примеры вместе с
Машей.

Найди правильный
ответ.



A visual math problem. On the left, there are three ripe, yellowish-brown pears. To their right is a red plus sign. Further right are four unripe, green pears. To their right is a red equals sign. On the far right, the number 7 is displayed in a blue circle with a green outline.



Игра « Найди тень»
Помоги Маше найти тень
ананаса



Посчитай всех рыбок. Найди правильный ответ.



1

2

3

4

5

6

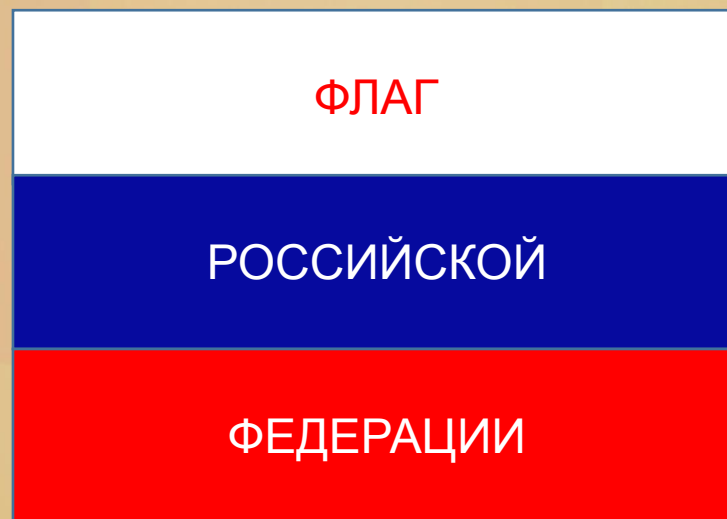

7

8

9

10

Выбери цвета флага России



Поиграй с Машей в игру «Съедобное не съедобное»

