

УСТНЫЙ СЧЕТ

- Ребро куба 2 см. Вычислите объем.
 - Площадь полной поверхности куба равна 54 см^2 . Чему равно его ребро?
 - Деревянный куб красного цвета с ребром 1 дм распилили на кубики с ребром 1 см. Сколько получилось кубиков, у которых три грани красного цвета?
-

Если вы верно найдете значения выражений и расположите однозначные ответы в порядке убывания, то прочтаете тему сегодняшнего урока.

15×11 А

24×3 З

0×17 И

125×8 К

$25 \times 9 \times 4$ М

$520 : 10$ О

$64 : 32$ Л


$51 : 17$ О

40×60 Т


$1000 : 125$ Д

КЛАССНАЯ РАБОТА
ДОЛИ


23.01.2014



$\frac{1}{6}$




$\frac{1}{6}$




$\frac{1}{6}$


ДОЛЯ



$\frac{1}{6}$

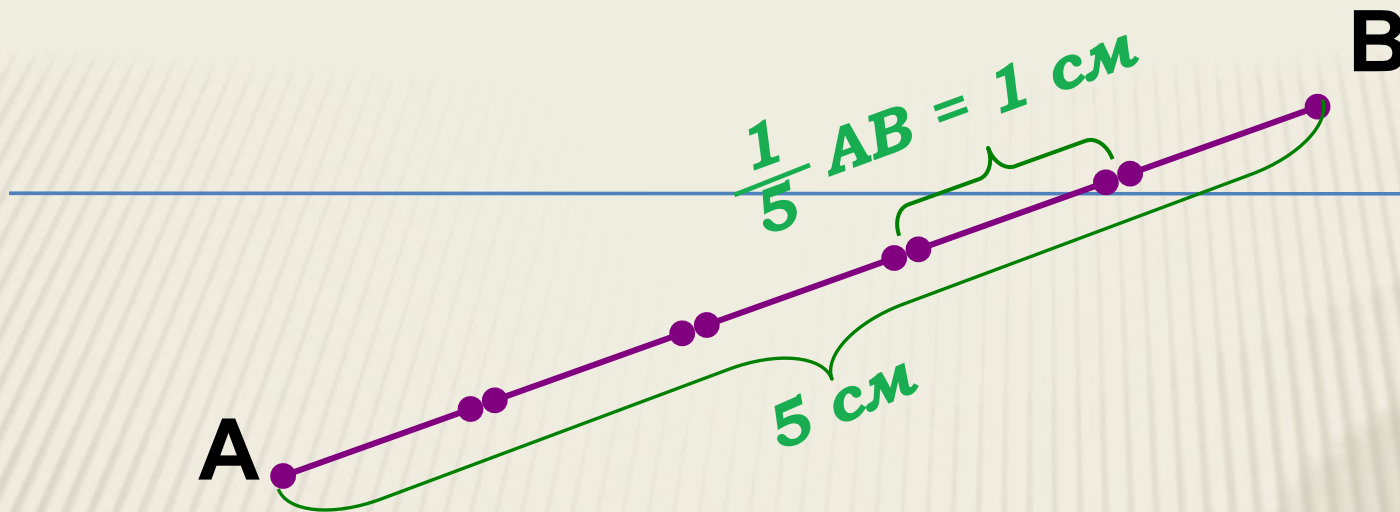


$\frac{1}{6}$



$\frac{1}{6}$

$\frac{1}{6}$ арбуза



Долю $\frac{1}{2}$ называют **ПОЛОВИНОЙ**,
 $\frac{1}{3}$ - **ТРЕТЬЮ**
 $\frac{1}{4}$ - **ЧЕТВЕРТЬЮ**

N°884, 888 УСТНО

N°885, 886, 887, 889, 890, 891

ЗАДАНИЯ НА САМОПОДГОТОВКУ №915, 916, 878 (Г,Д,Е)
