

# Деление на 2

## Урок № 123



*Школа России*  
*Математика 2 класс*





*Устный счёт*

Найди уравнения с ответом 20.



$$x : 10 = 2$$

$$46 - a = 16$$

$$47 + a = 67$$

$$x \cdot 10 =$$

20

$$80 : x = 8$$

$$a - 7 = 13$$

$$x + 15 = 45$$

$$a : 2 = 10$$

10

16

20

6

: 2

8

14

12

4





Закончи запись.



$3 \cdot 6 < 42$  на

$20 : 2 > 9$  на

$31 > 2 \cdot 7$  на

Дядя Фёдор поймал **18** рыб и разделил их поровну между Шариком и Матроскиным. Сколько рыб досталось каждому?



$$18 : 2 = 9 \text{ (р.)}$$



**по 9**

**рыб**

Соловей разбойник за один посвист ломает 4  
дерева.



Сколько деревьев он сломает, если свистнет 2  
раза?

$$4 \cdot 2 = 8 \text{ (д.)}$$



8



Для празднования дня рождения купили **5 кг** карамели, шоколадных конфет на **2 кг** меньше, а печенья столько, сколько карамели и шоколадных конфет вместе. Сколько печенья купили?

$$5 - 2 + 5 = 8 \text{ кг}$$



**8 кг печенья**



Периметр прямоугольника **12** см. Какие стороны могут

быть у прямоугольника?  
**? см**



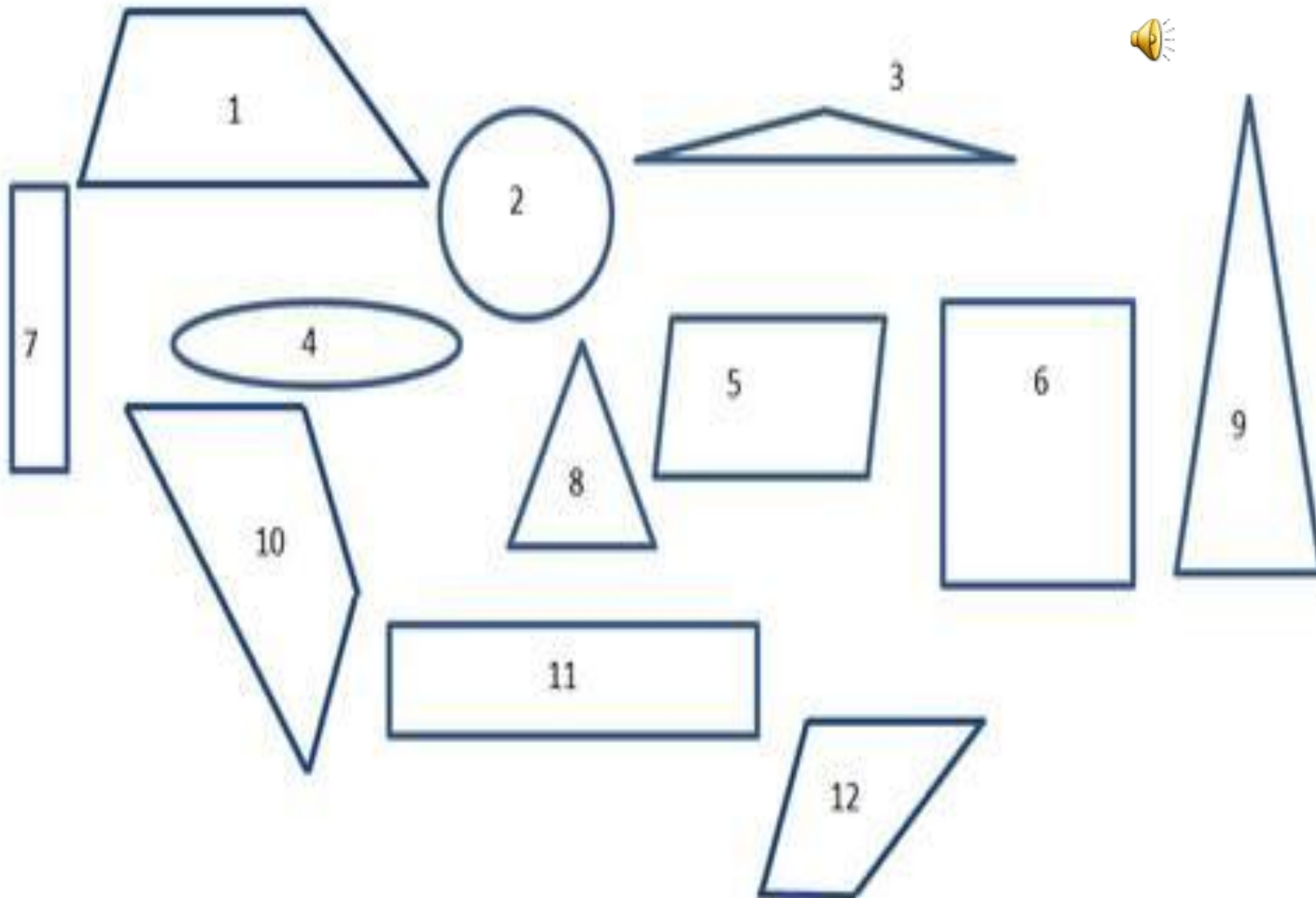
**? см**

**1 и 5 см**


**2 и 4 см**

Сколько четырёхугольников на рисунке?

Назови их.



# ТРЕНАЖЁР





Деление  
на 2

Помоги пчёлке найти нужный цветок.




**18: 2+20**







$$6 - 8 : 2$$




$$60 - 14 : 2$$







$$19 - 10 : 2$$




14: 2+30







$$27 - 8 : 2$$




$$56 - 6 : 2$$







**18:9+ 90**





$$14:7+6$$







$$20:2 + 81$$



$$50 - 12 : 2$$





Конец