

Найдите ошибки


- Раз в четыре года по всей Греции объявлялось священное перемирие. Все войны прекращал **в город Олимпию**. Олимп по всем дорогам стекались толпы народа. Начинались Олимпийские игры.
- Достоверно установлено, что **776** вые Олимпийские игры состоялись в 677 году до н. э.

Пятиборье



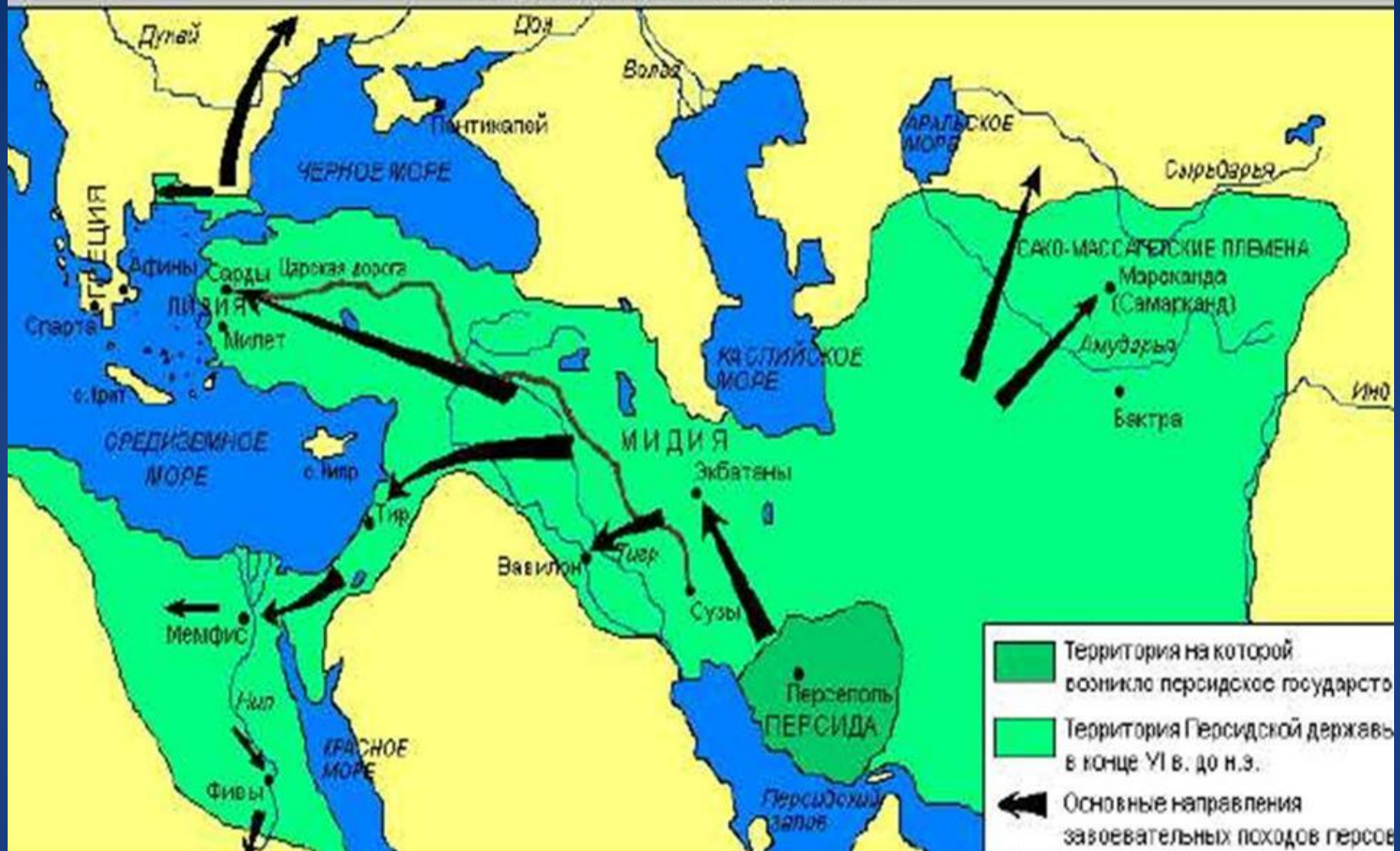


**Кулачный
бой**



Гонки колесниц

ПЕРСИДСКОЕ ГОСУДАРСТВО



- Каким цветом обозначена территория Персии?
- До какой реки доходили владения персов на востоке?
- До каких морей на западе?
- Какие моря служили границей на севере?
- Какой залив и море были южной границей Персидской державы?

Победа греков над персами в Марафонской битве




Цель урока :

- Ознакомимся с ходом и значением Марафонской битвы.

Определите местонахождение Греции и Персии, сравните их.



Новые понятия Исторические личности



- Экспансия – захват новых территорий
- Стратег – по-гречески «военачальник»
- Мильтиад – военачальник армии афинян.
 - Фаланга – тесно сомкнутые шеренги
ГОПЛИТОВ.
- Гоплиты – тяжело вооруженные пешие

ВОЙНЫ

• Дарий – персидский царь



1. Над греками нависла угроза порабощения...

“...Царь царей, великий Дарий, владыка всех людей от восхода до заката, требует от вас земли и воды”.

Что ответили афиняне и спартанцы?
(стр.161, п1.)

- Подумайте, что означали эти требования?

- Как вы думаете какими действиями ответили греки?

Летом 490 года до н.э.
гонец принес в Афины
страшную весть: «В
Марафонской бухте
показались корабли
персов. Вооружайтесь!»

Причины войны

Греци

Я

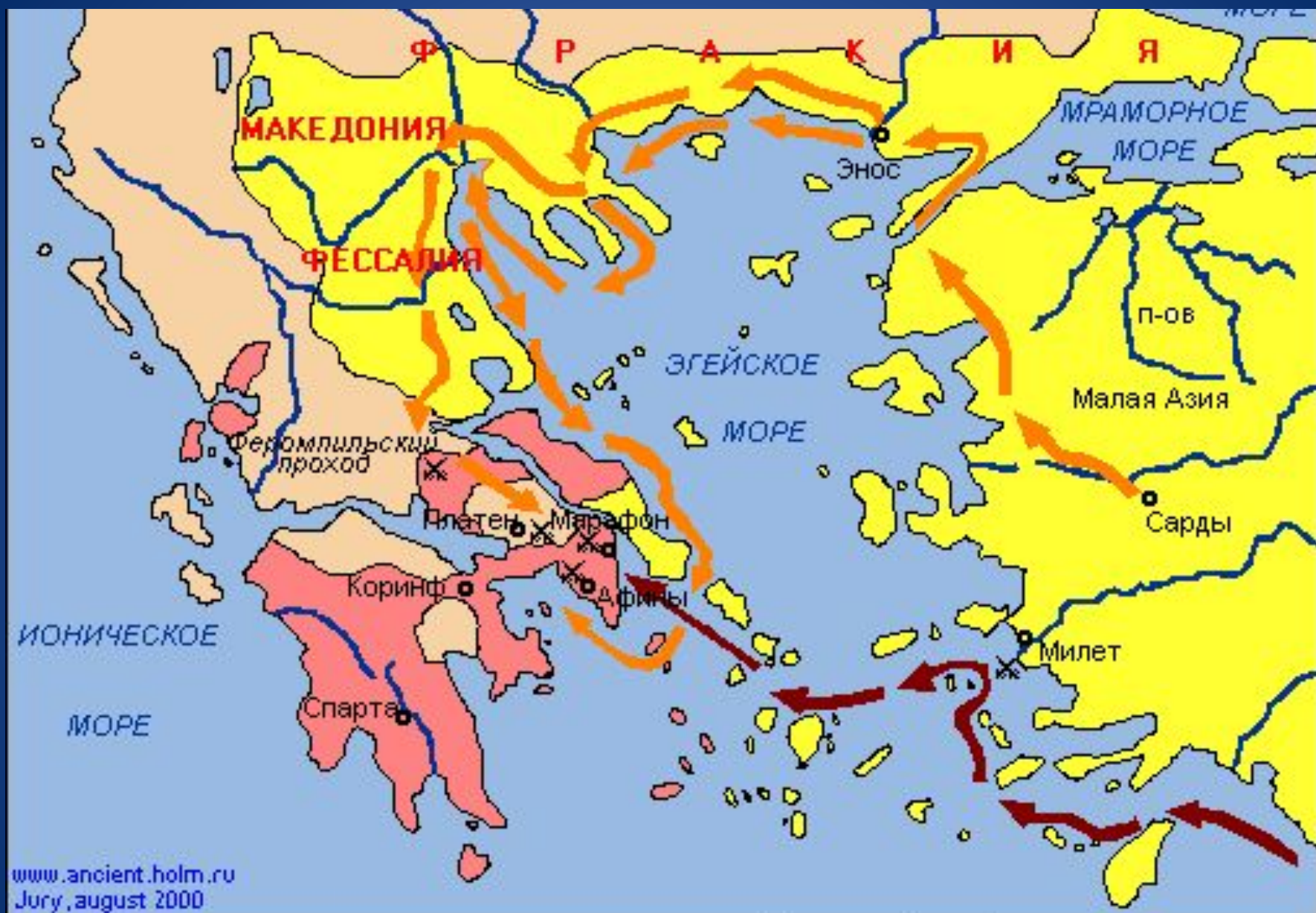
1. Стремление греков отстаивать свою свободу
2. Стремление сохранить демократию
3. Борьба за господство в Средиземноморье



Перси

Я

1. Стремление персов подчинить греческие города Малой Азии
2. Борьба за господство в Средиземноморье




www.ancient.holm.ru
 July, august 2000

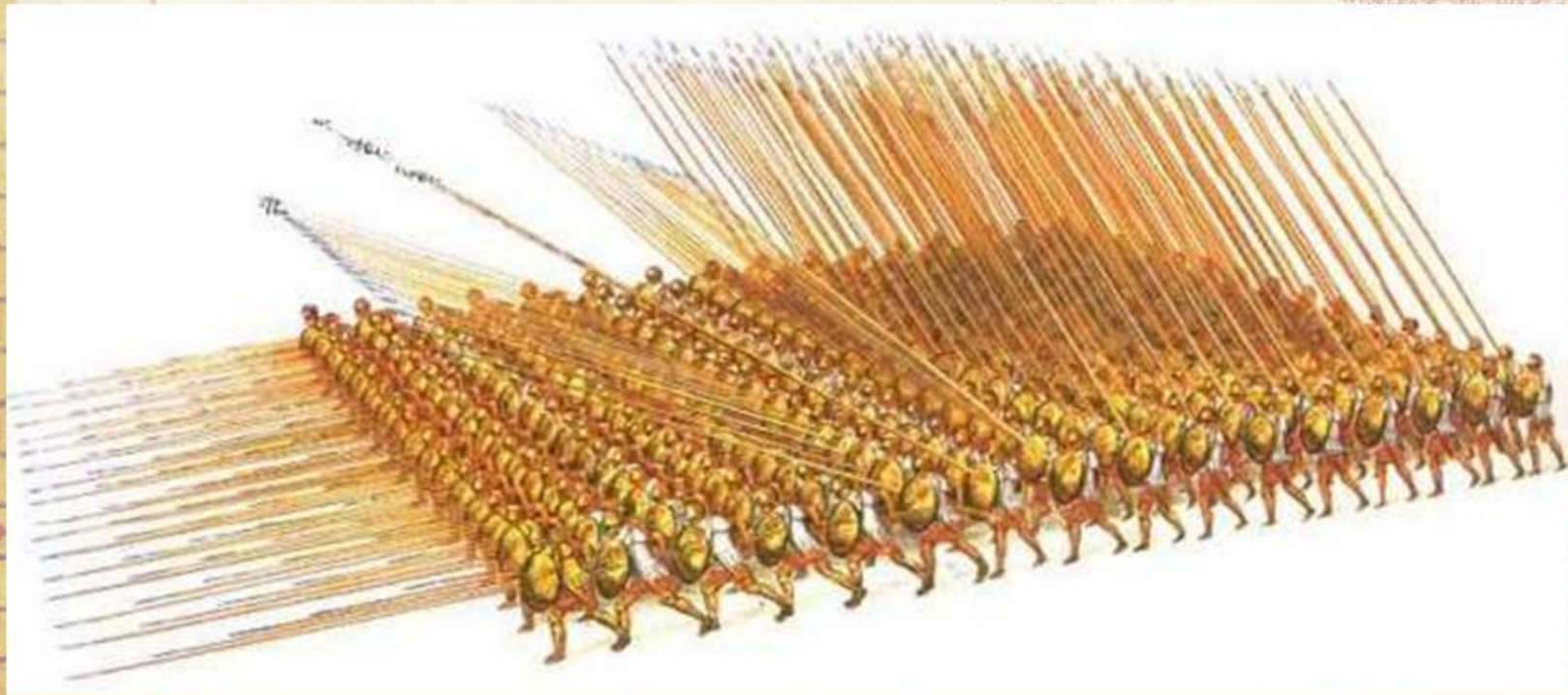
Владения Персии и зависимые от нее государства к 480 г. до н.э.

Походы войск и флота:

Персия в 490 г. до н.э.

На должность
стратега
Народное
собрание
избрало
Мильтиада





Фаланга – тесные, сомкнутые ряды
ВОИНОВ

Марафонское сражение 13 сентября 490г.





Персы имели 10 тысяч конницы и около 10 тысяч пеших лучников.

У греков же было 11 тысяч афинских гоплитов.

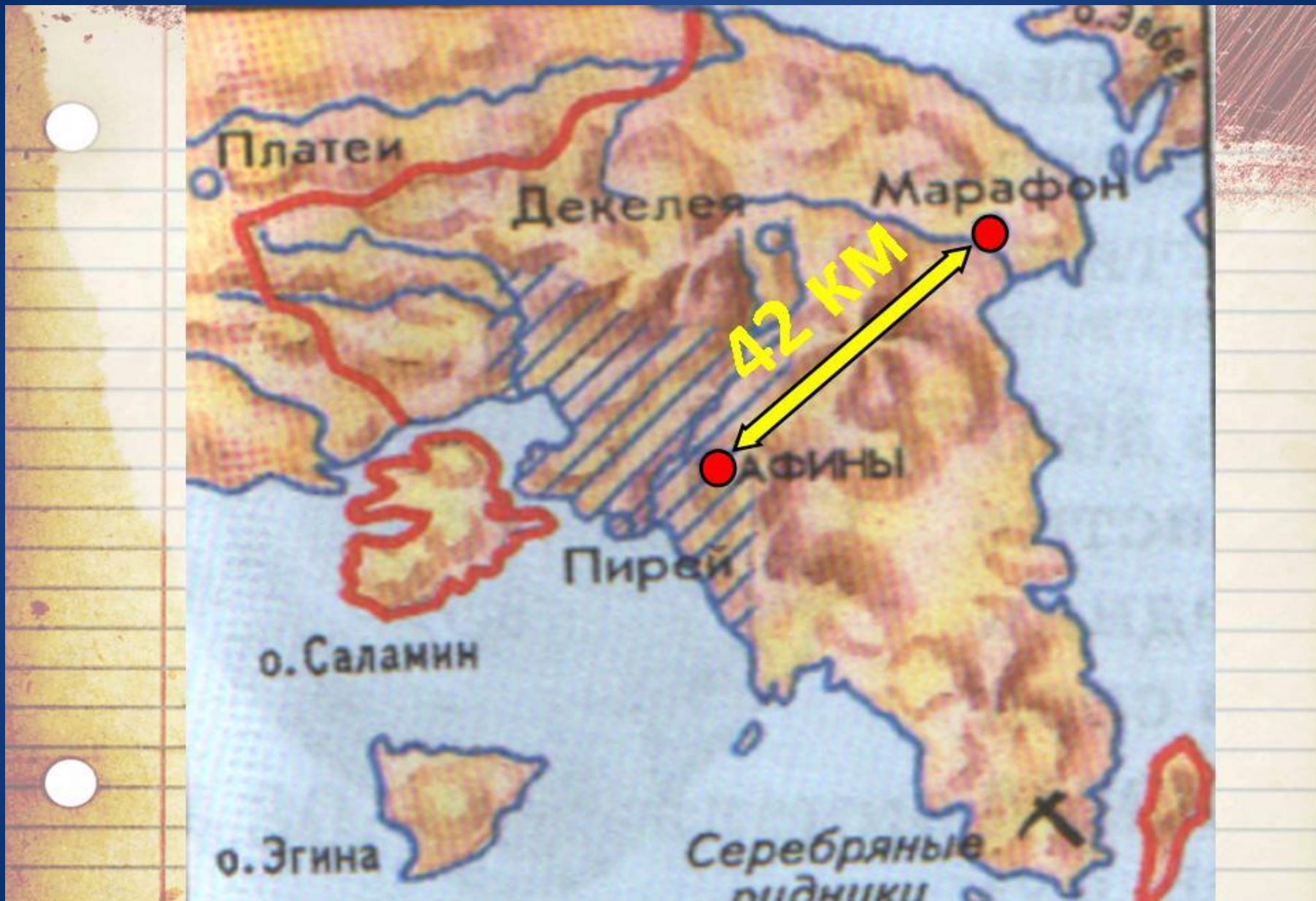
Численное превосходство было на стороне персов, качественное — на стороне греков. Обученные и спаянные воинской дисциплиной гоплиты столкнулись с разноплеменным персидским войском, основной массе



Хронологическая таблица



Дата	Событие	Итог
500 - 494	Восстание в Милете	Поражение восстания
492	Первый поход персов	Неудача похода
490	Второй поход персов	
490	Марафонская битва	Разгром персов



Еще не смолкла битва, когда Мильтиад отправил в Афины быстрого воина сообщить о разгроме персов. Юноша бежал без отдыха и остановок.



«Радуйтесь, мы победили!» - и рухнул мертвым. Сердце воина не выдержало напряжения. О чём свидетельствует поступок афиняна?



Афиняне завладели семью кораблями. На остальных кораблях персы отплыли в море, стремясь достичь Афин раньше, чем это сделает греческое войско. Афиняне также устремились в город и, опередив противника, достигли его раньше, чем персидское войско. Мильтиад расположил свое войско на восточной стороне Афин. Персы, подойдя на своих кораблях к Фалеру (Фалер был тогда гаванью афинян) и увидев, что афинское войско стоит у города и готово к битве, не отважились высадиться. Персидский флот повернул назад и поплыл обратно в Азию.

В бою греки потеряли 192 человека, персы — 6 400 человек.

Причины победы афинян:

1. Помощь жителей города Платеи
2. Мужество и храбрость греческих ВОИНОВ
3. Талант военачальника, стратега Мильтиада
4. Греки защищали свою Родину, и это давало им силы для борьбы



Значение победы:

1. Для греков война носила справедливый характер
2. Победа греков над персами в Марафонской битве показала, что они способны отстаивать свою независимость.
3. Своей победой афиняне вдохновили другие греческие города на сопротивление.



Домашнее задание:

1. **На «3»** - § 34, вопросы стр. 165
2. **На «4»** - Рассказ о Марафонской битве включив 5 ошибок.

3. **На «5»** - мини-сочинение на тему «Марафонский бой» (выводы!!!)

3. Дополнительный материал.

Первая Греко-персидская война

<https://www.youtube.com/watch?v=ImZS8T-k4XA&index=49&list=PLv6ufBUWdRi1vnXThTr2F1FHQaXlphDRO>

Марафонская битва.

https://www.youtube.com/watch?v=SdHUu_Xtu5k



В Марафонской битве греки дали первый отпор персам. Этот бой показал, что тяжеловооруженной, хорошо обученной пехоте не страшна и регулярная конница. На месте сражения на Марафонском поле, рядом с братской могилой воинов, павших за родину, был воздвигнут памятник в честь вождя греков Мильтиада. Сцены из марафонской битвы были изображены в одном из портиков, находившихся на главной площади Афин.

1. *Для любознательных!*

Какое спортивное состязание проводится в наши дни в память о подвиге афинского юноши, принесшего весть о победе в Марафонской битве?

