

А



Российская академия наук
Российская академия образования
Издательство «Просвещение»

Академический школьный учебник

Г.В. Дорофеев Т.Н. Миракова

МАТЕМАТИКА



1 класс

УСТНЫЙ СЧЁТ



Сколько зайцев в корзине?
Почему ты так решил?



3

Сколько рыбок плывёт налево, а сколько направо?






В какую сторону их плывёт больше?



3

3


Какой фигуры не хватает?




Что изменилось?



Цвет

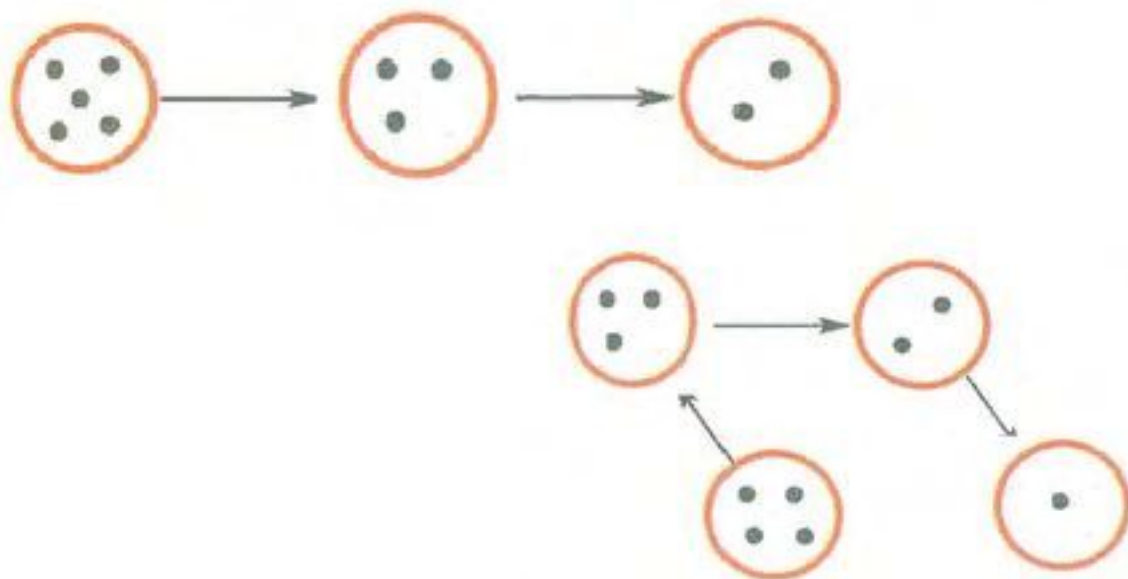


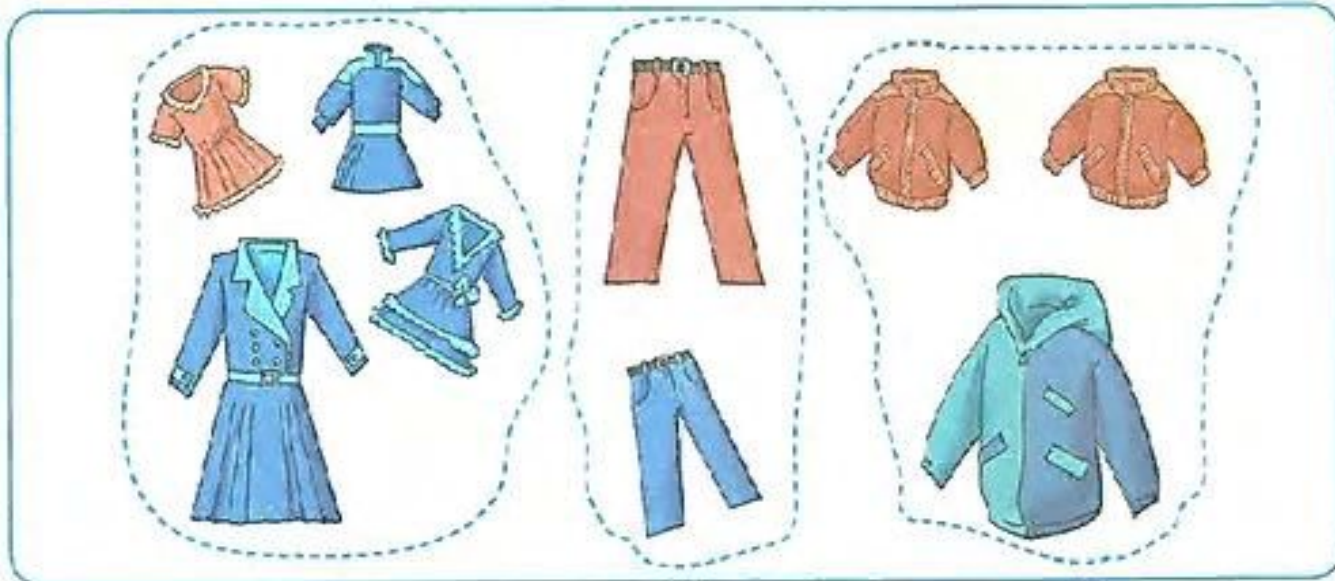
*Форма,
цвет*



*Форма,
цвет,
размер*

Как расставить точки в пустые кружки так, чтобы соблюдалось правило: стрелка направлена от кружка с бóльшим количеством точек к кружку с меньшим количеством точек?





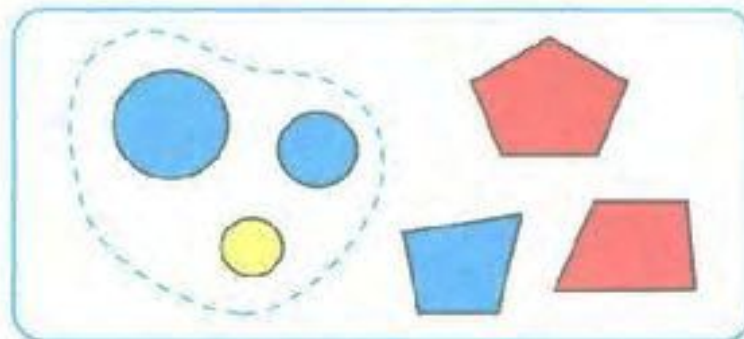
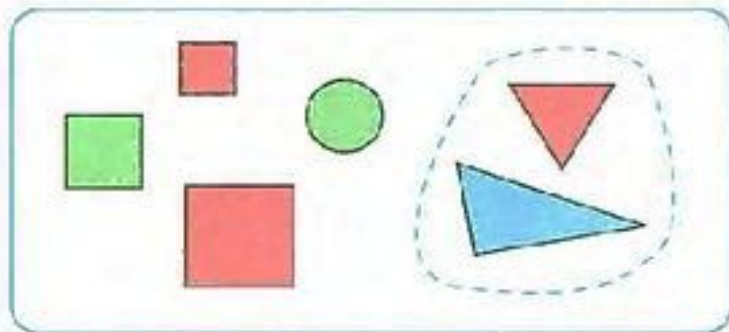
Одежда

Найди указанную группу



Чашки.


Рассмотри множество фигур в каждой рамке. Назови ту часть множества, которая обведена пунктирной линией.





Работа в тетради:

Повтори узор:



Рефлексия.

- ◆ Мне сегодня удалось ...
- ◆ Я сегодня доволен тем, что ...
- ◆ Мне понравилось ...
- ◆ Мы учились ...

