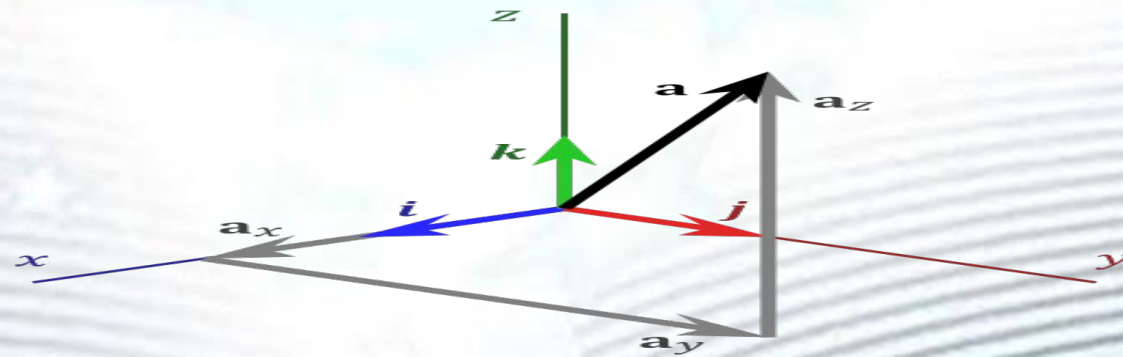


Векторы в пространстве

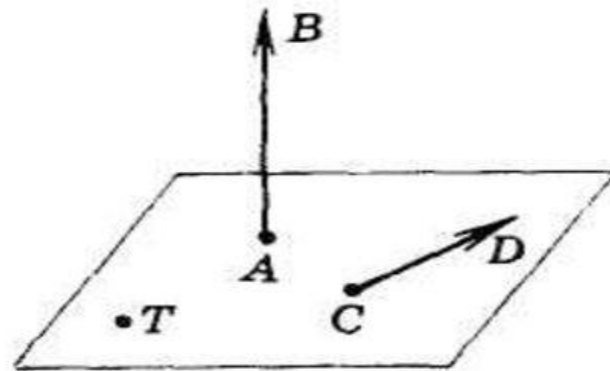


Определение вектора.

Геометрически векторы изображаются направленными отрезками. **Отрезок, для которого указано, какой из его концов считается началом, а какой – концом, называется вектором.**

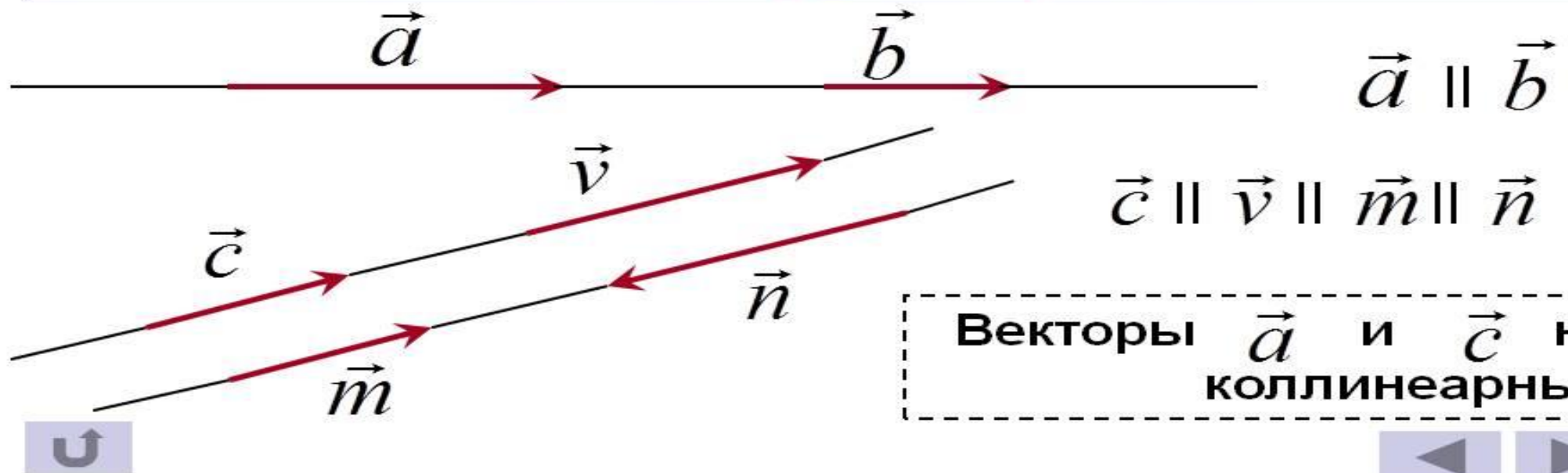
Вектор характеризуется следующими элементами:

1. начальной точкой (точкой приложения);
2. направлением;
3. длиной («модулем вектора»)



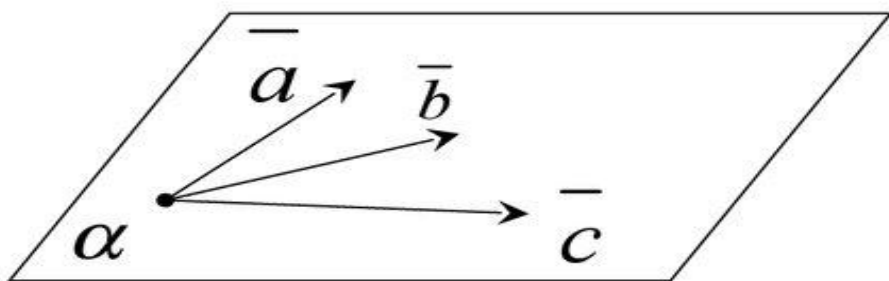
Коллинеарные векторы

Ненулевые векторы наз. **коллинеарными**, если изображающие их направленные отрезки **параллельны или лежат на одной прямой**.

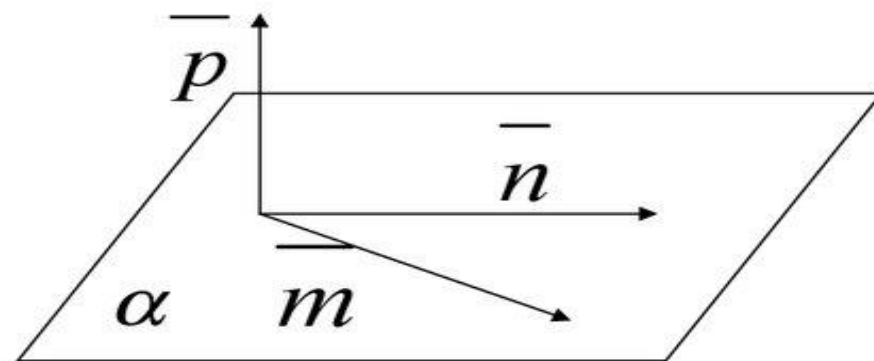


Компланарные векторы

Три вектора называются компланарными, если они лежат в одной или параллельных плоскостях.

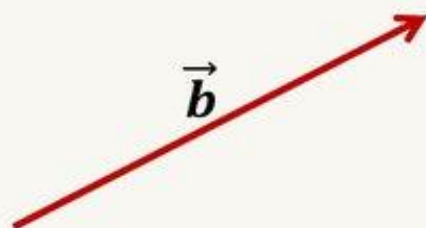
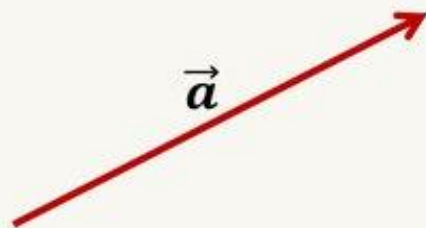


$\vec{a}, \vec{b}, \vec{c}$ – компланарны,



$\vec{m}, \vec{n}, \vec{p}$ – некопланарны.

Равные векторы

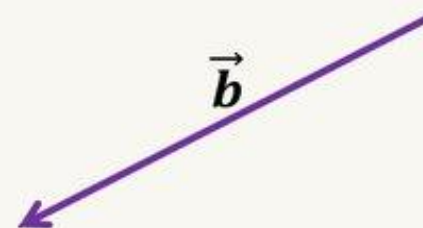
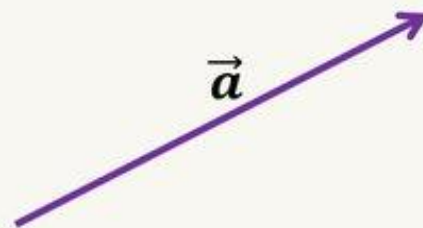


$$\vec{a} = \vec{b}$$

1. $\vec{a} \uparrow\uparrow \vec{b}$
2. $|\vec{a}| = |\vec{b}|$

Равными называют сонаправленные векторы, длины которых равны.

Противоположные векторы



$$\vec{a} = -\vec{b}$$

1. $\vec{a} \uparrow\downarrow \vec{b}$
2. $|\vec{a}| = |\vec{b}|$

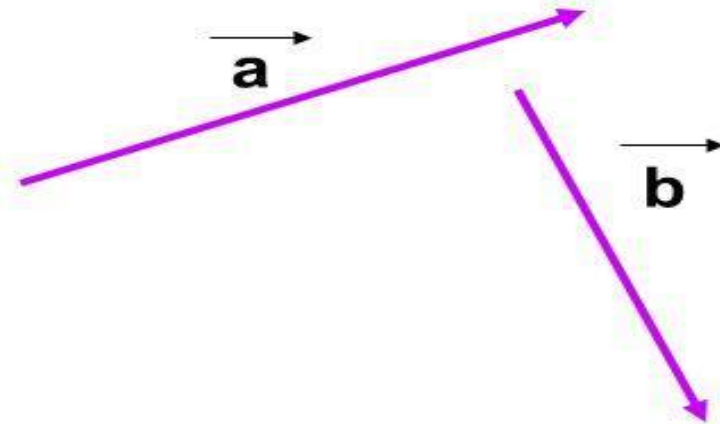
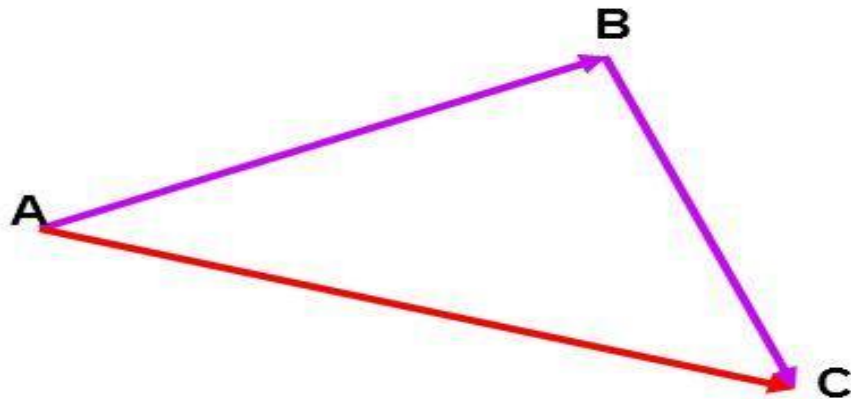
Противоположными называют противоположно направленными векторы, длины которых равны.

Сложение и вычитание векторов

- **Сложение и вычитание векторов.**

1. Правило треугольника

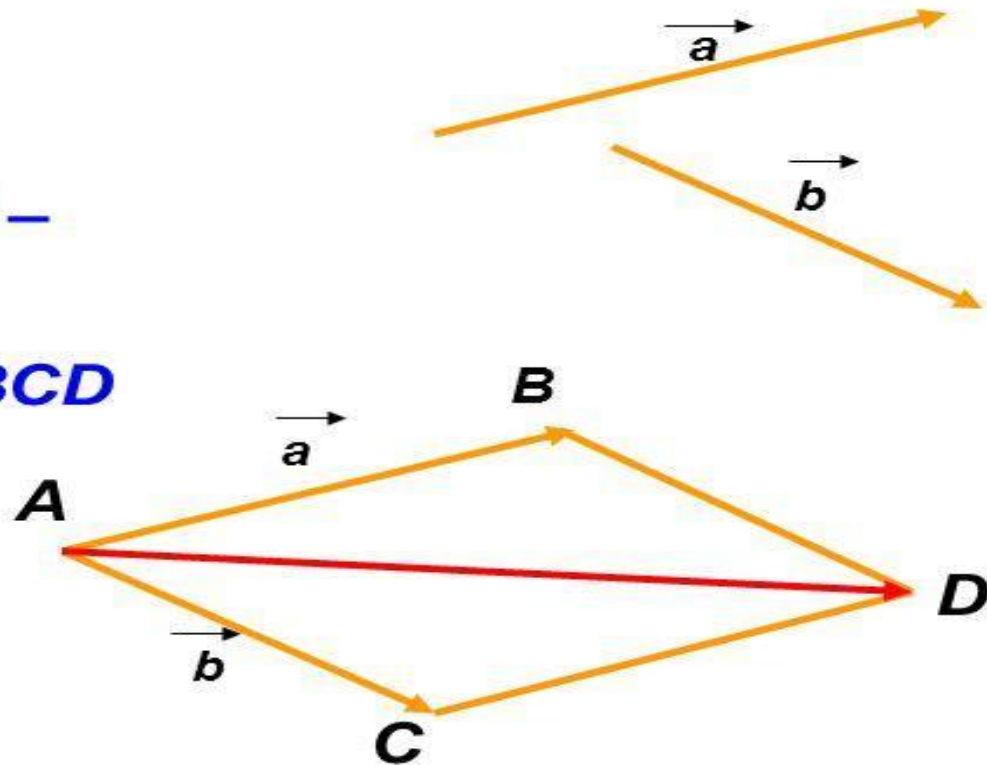
$$\vec{AC} = \vec{AB} + \vec{BC}$$



2. Правило параллелограмма

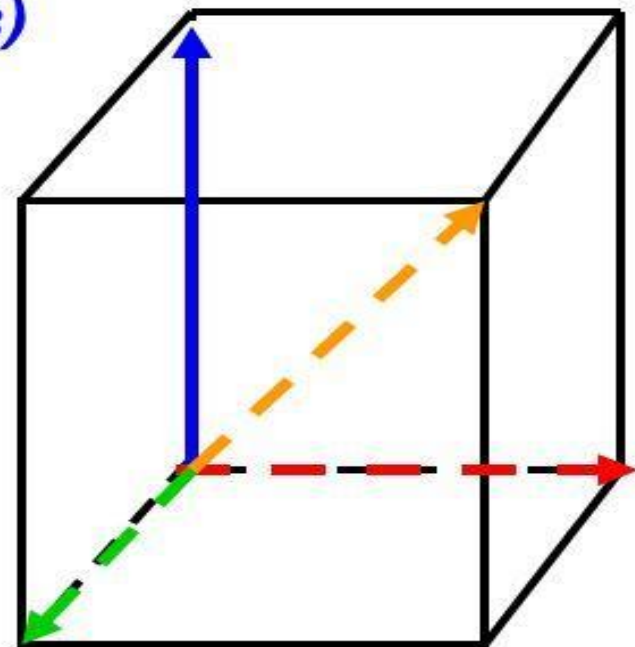

$\vec{AB} + \vec{AC} = \vec{AD}$, где AD –

диагональ
параллелограмма $ABCD$



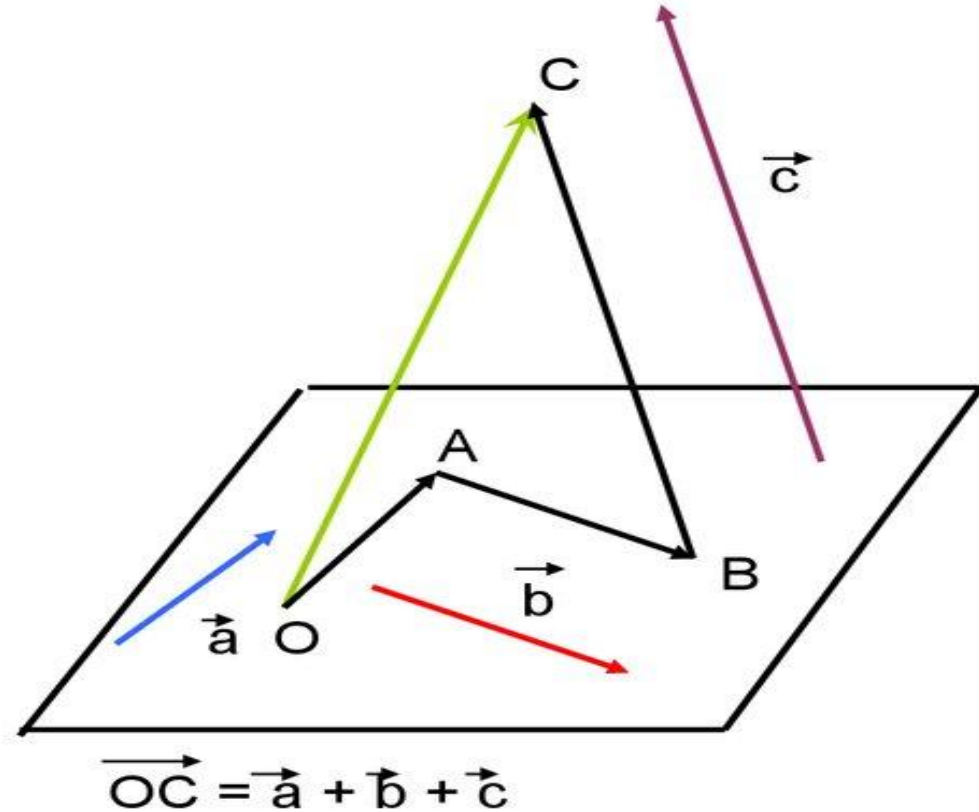
**Правило параллелепипеда (для
трех некопланарных векторов)**

**$\vec{OB} + \vec{OA} + \vec{OD} = \vec{OC}$, где OC –
диагональ параллелепипеда**



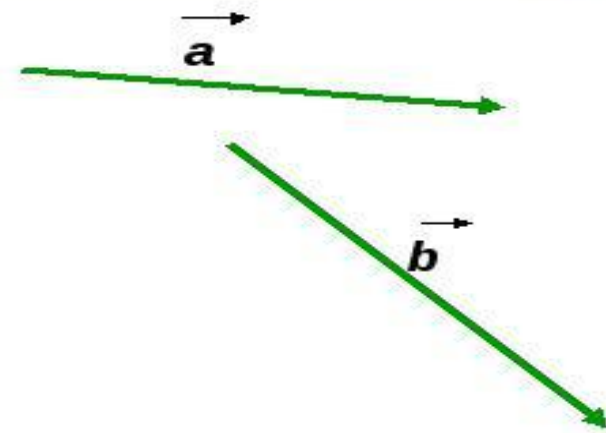
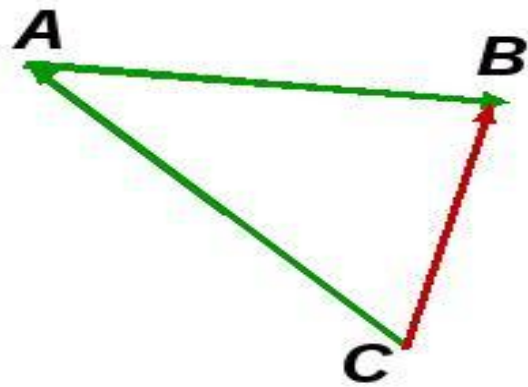
Сложение нескольких векторов.

- Сложение нескольких векторов в пространстве выполняется так же, как и на плоскости: первый вектор складывается со вторым, затем их сумма — с третьим вектором и т. д. Из законов сложения векторов следует, что **сумма нескольких векторов не зависит от того, в каком порядке они складываются.**



3. Разность векторов

$$\vec{AB} - \vec{AC} = \vec{CB}$$

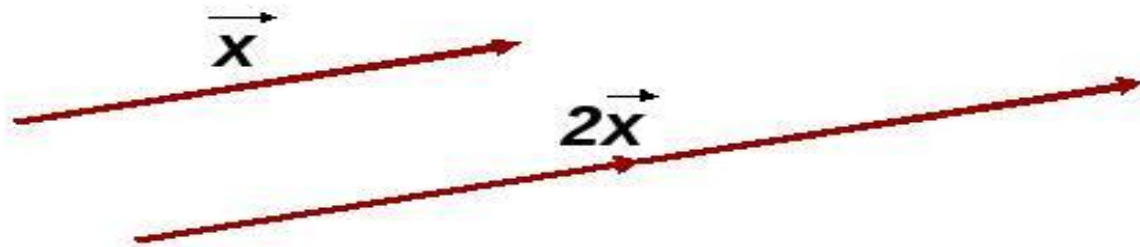


Умножение вектора на число

$$\vec{b} = k \vec{a}, \text{ если } |\vec{b}| = |k| |\vec{a}|$$

если $k > 0$, то $\vec{a} \parallel \vec{b}$

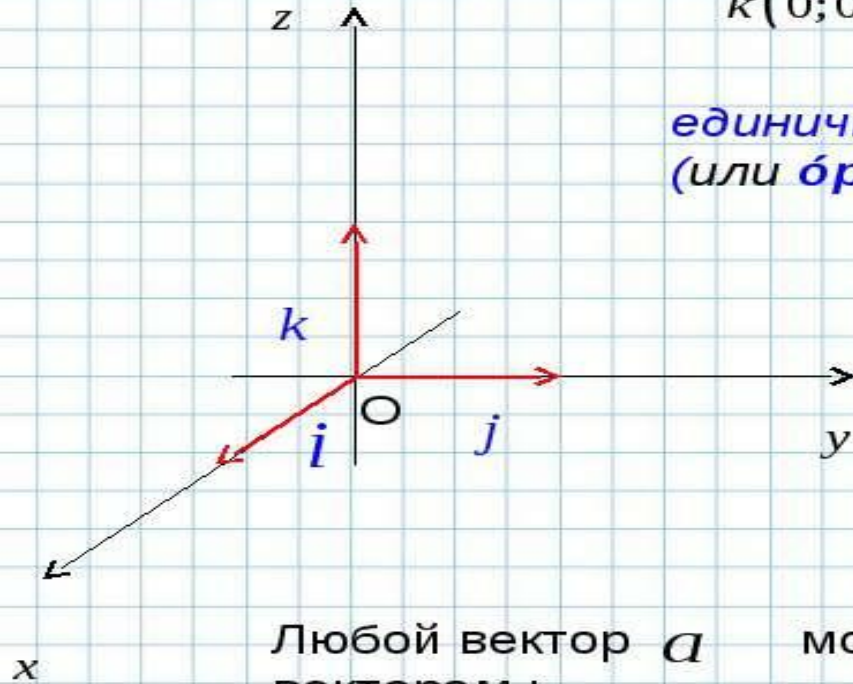
если $k < 0$, то $\vec{a} \nparallel \vec{b}$



Координаты вектора.

В прямоугольной системе координат в пространстве векторы $i(1;0;0)$, $j(0;1;0)$
 $k(0;0;1)$

называются
единичными координатными векторами
(или *бортами*).

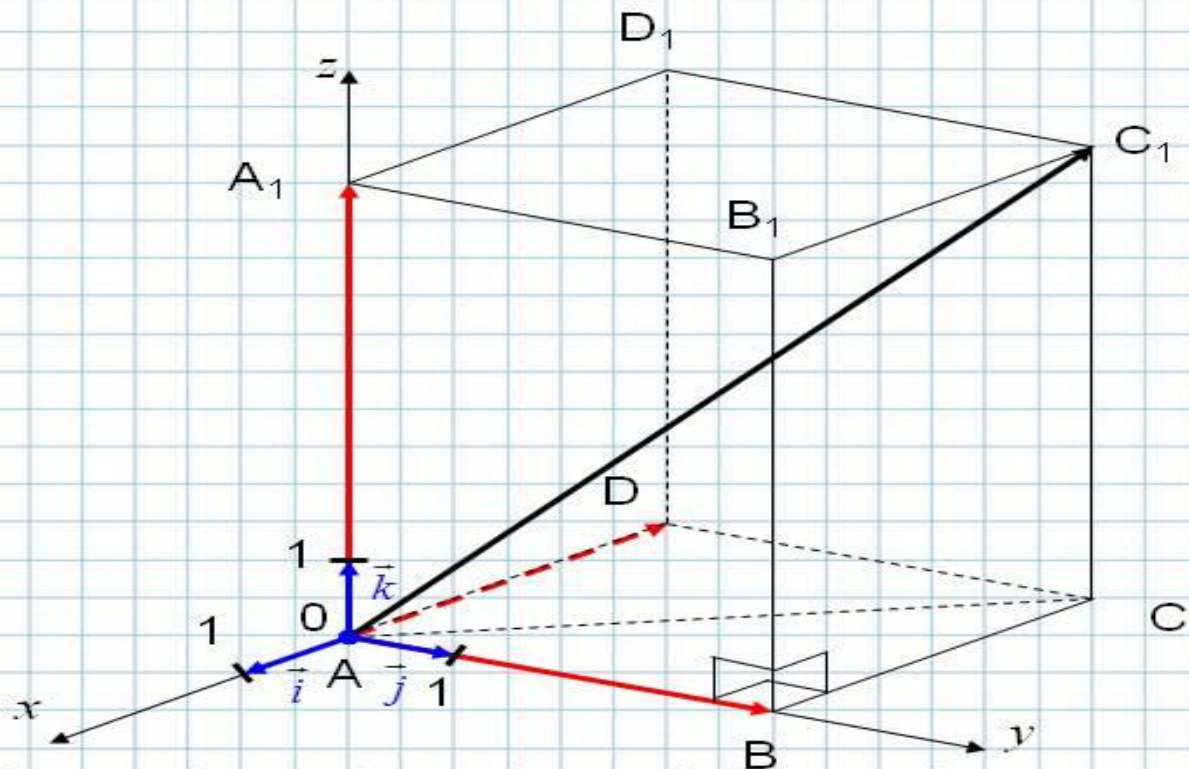


Любой вектор a можно разложить по координатным векторам :

$$a = xi + yj + zk$$

коэффициенты разложения x, y, z определяется единственным образом.

В прямоугольной системе координат в пространстве векторы $\vec{i}(1;0;0)$, $\vec{j}(0;1;0)$ и $\vec{k}(0;0;1)$ называются *единичными координатными векторами* (или *ортами*). Т.к. эти векторы являются некопланарными, то любой вектор пространства можно разложить по ортам. При этом образуется прямоугольный параллелепипед, а коэффициенты разложения – координаты данного вектора.



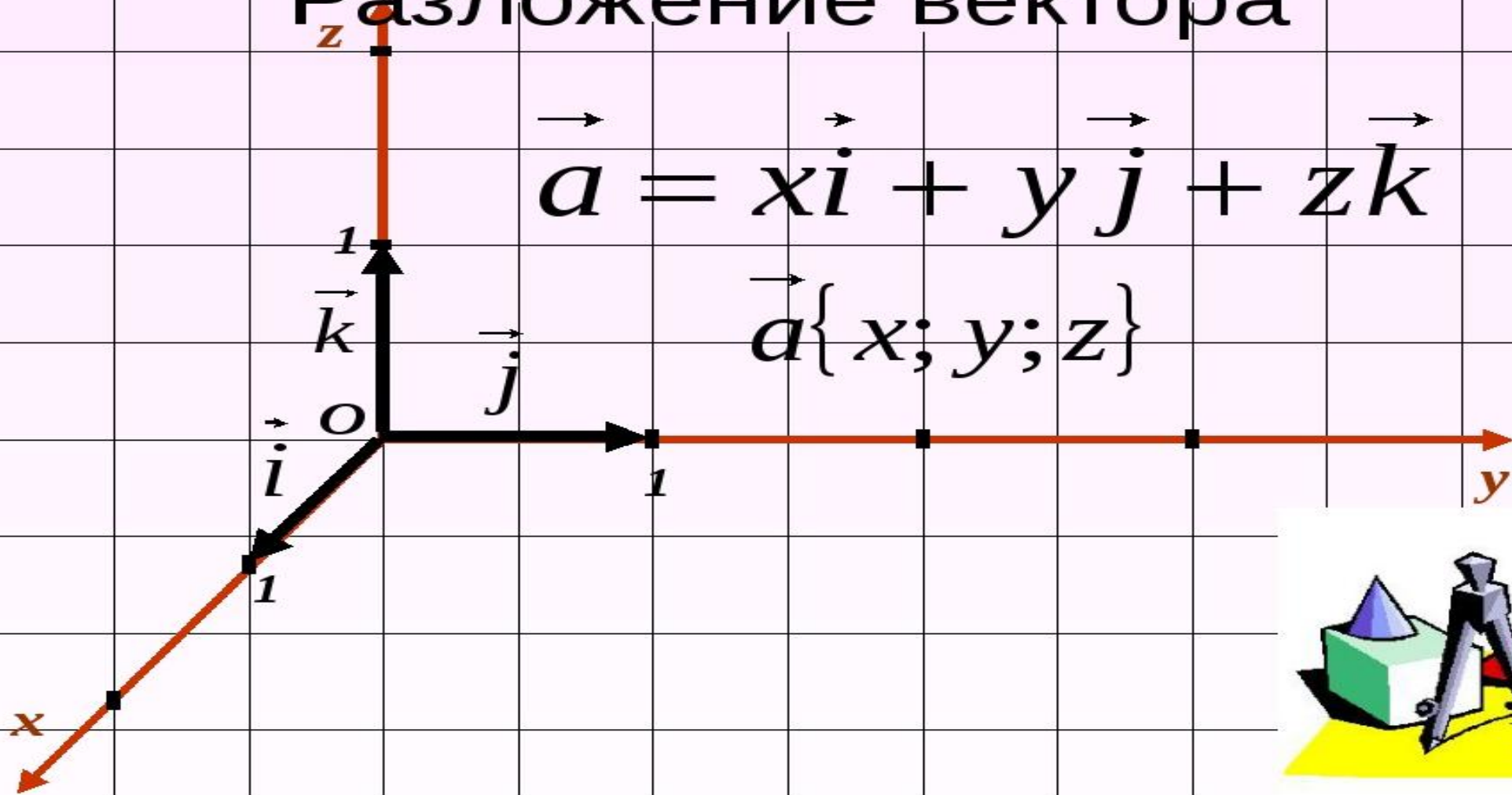
$$\overrightarrow{AC_1} = \overrightarrow{AD} + \overrightarrow{AB} + \overrightarrow{AA_1} = x\vec{i} + y\vec{j} + z\vec{k} \Rightarrow \overrightarrow{AC_1}(x; y; z)$$

В данном случае $x=-3$; $y=4$; $z=6$, т.е. координаты вектора $\overrightarrow{AC_1}(-3; 4; 6)$.

Разложение вектора

$$\vec{a} = x\vec{i} + y\vec{j} + z\vec{k}$$

$$\vec{a}\{x; y; z\}$$



Действия над векторами, заданными своими координатами (проекциями).

Пусть $\bar{a} = a_x \bar{i} + a_y \bar{j} + a_z \bar{k}$ ИЛИ $\bar{a} = (a_x; a_y; a_z)$
 $\bar{b} = b_x \bar{i} + b_y \bar{j} + b_z \bar{k}$ ИЛИ $\bar{b} = (b_x; b_y; b_z)$

- Сумма (разность):

$$\bar{a} \pm \bar{b} = (a_x \pm b_x; a_y \pm b_y; a_z \pm b_z)$$

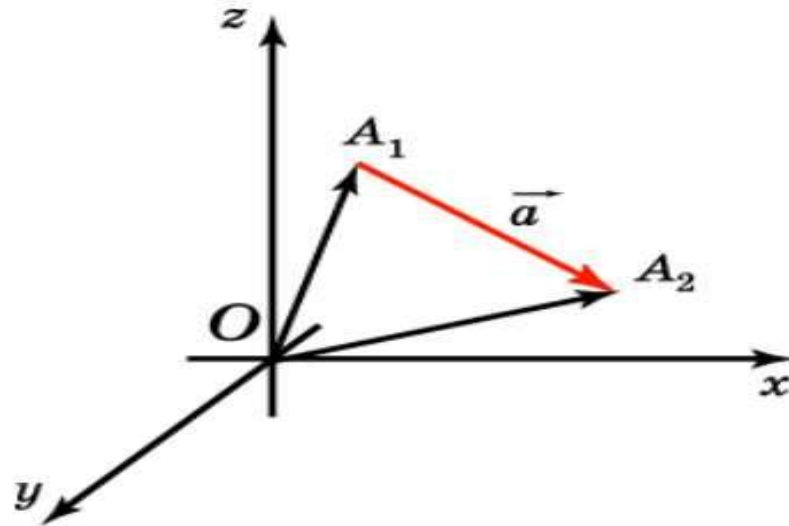
- Умножение вектора на скаляр:

$$\lambda \cdot \bar{a} = \lambda \cdot (a_x; a_y; a_z) = (\lambda a_x; \lambda a_y; \lambda a_z)$$

ДЛИНА ВЕКТОРА

Если вектор \vec{a} задан координатами начальной и конечной точек, $A_1(x_1, y_1, z_1)$, $A_2(x_2, y_2, z_2)$, то его длина выражается формулой

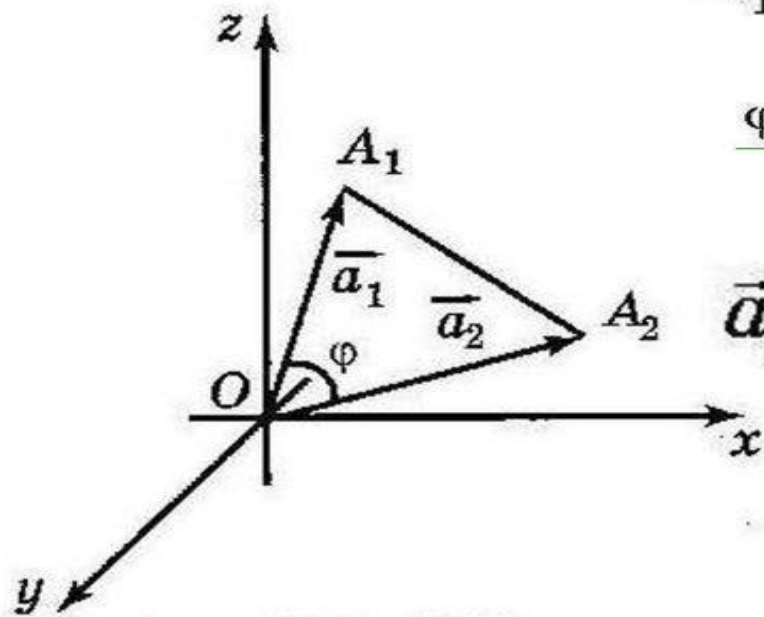
$$|A_1A_2| = \sqrt{(x_2 - x_1)^2 + (y_2 - y_1)^2 + (z_2 - z_1)^2}.$$



Скалярное произведение векторов

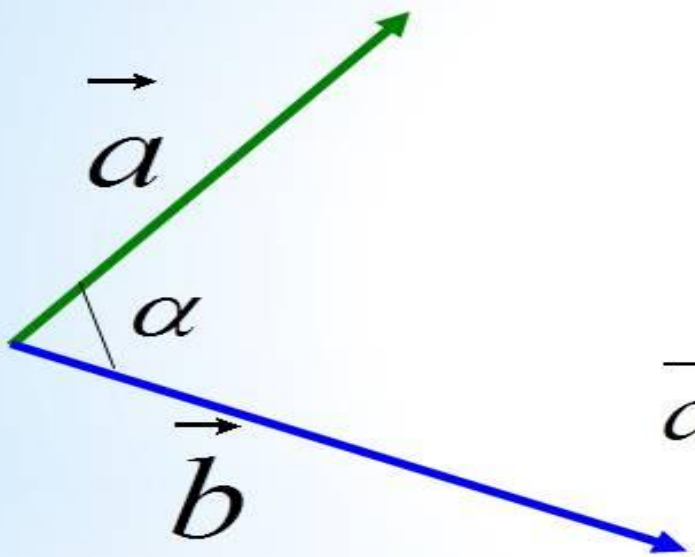
$$\vec{a}_1 \cdot \vec{a}_2 = |\vec{a}_1| \cdot |\vec{a}_2| \cos \varphi,$$

φ — угол между векторами \vec{a}_1 и \vec{a}_2 .



$$\vec{a}_1 \cdot \vec{a}_2 = x_1 x_2 + y_1 y_2 + z_1 z_2$$

Скалярное произведение векторов.



$$\vec{a} \cdot \vec{b} = |\vec{a}| \cdot |\vec{b}| \cdot \cos \alpha$$

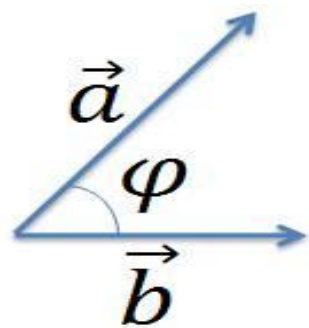
$$\vec{a}\{x_1; y_1; z_1\} \quad \vec{b}\{x_2; y_2; z_2\}$$

$$\vec{a} \cdot \vec{b} = x_1 x_2 + y_1 y_2 + z_1 z_2$$

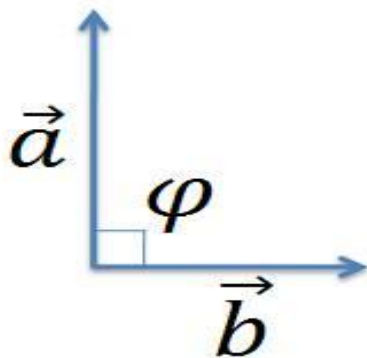
$$\cos \alpha = \frac{x_1 x_2 + y_1 y_2 + z_1 z_2}{\sqrt{x_1^2 + y_1^2 + z_1^2} \cdot \sqrt{x_2^2 + y_2^2 + z_2^2}}$$

Скалярное умножение векторов

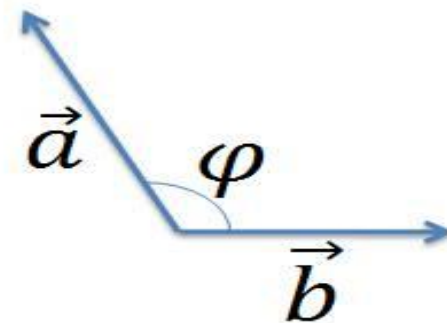
$$\vec{a} \cdot \vec{b} = |\vec{a}| \cdot |\vec{b}| \cdot \cos \varphi$$




$$\vec{a} \cdot \vec{b} > 0$$



$$\vec{a} \cdot \vec{b} = 0$$



$$\vec{a} \cdot \vec{b} < 0$$



Применение векторов



Задача.

Дано:

AODMPBTC –

прямоугольный параллелепипед

$OA = 2$, $OD = 3$, $OB = 5$, $MK = 1$.

Определить:

координаты векторов:

\vec{a} , \vec{b} , \overrightarrow{BC} , \vec{i} , \vec{j} , \vec{k}

Решение:

\vec{a} : $x = OA = 2$; $y = OD = 3$; $z = OB = 5$

$\vec{a} \{2; 3; 5\}$

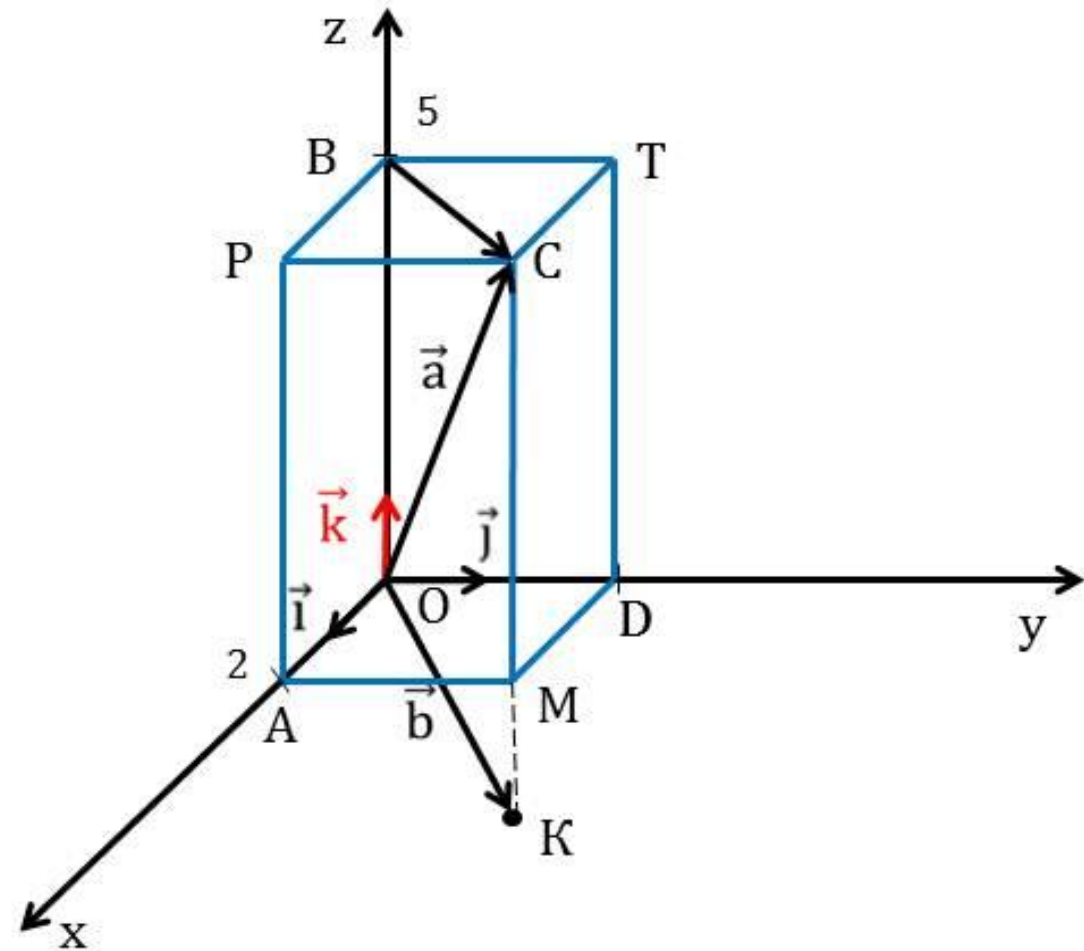
\vec{b} : $z = MK = -1$; $x = OA = 2$; $y = OD = 3$

$\vec{b} \{2; 3; -1\}$

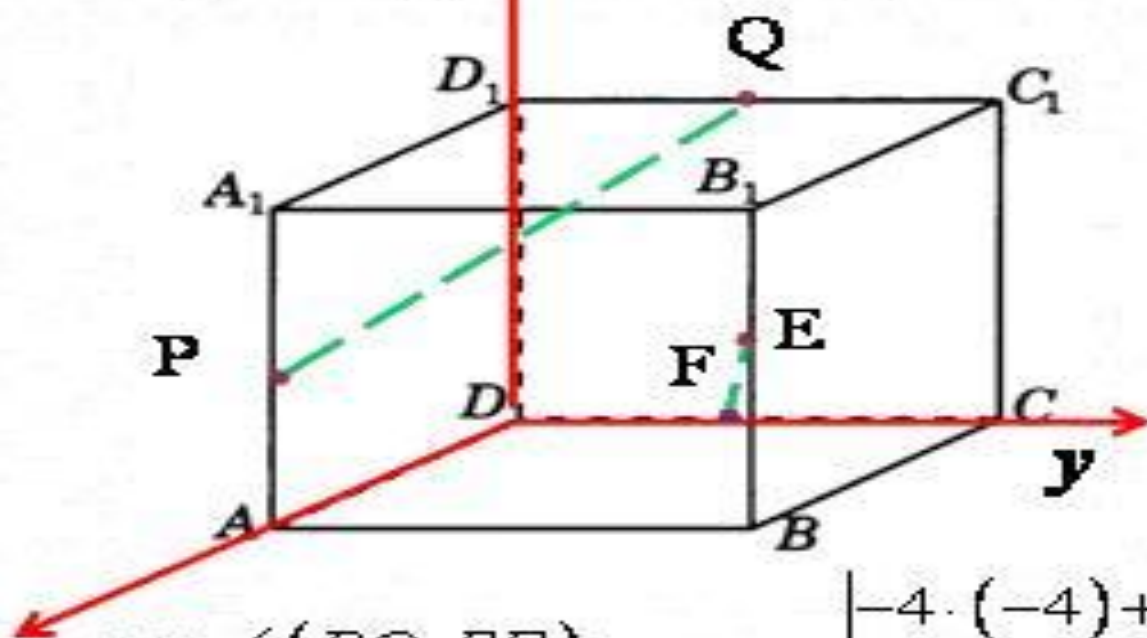
\overrightarrow{BC} : $x = OA = 2$; $y = OD = 3$; $z = 0$

$\overrightarrow{BC} \{2; 3; 0\}$

$\vec{i} \{1; 0; 0\}$; $\vec{j} \{0; 1; 0\}$; $\vec{k} \{0; 0; 1\}$



№ 2. Ребро куба равно 4. Найдите косинус угла между прямыми PQ и EF, P – середина AA₁, Q – середина C₁D₁, E – середина BB₁, F – середина DC.



$$P(4; 0; 2)$$

$$Q(0; 2; 4)$$

$$E(4; 4; 2)$$

$$F(0; 2; 0)$$

$$\overrightarrow{PQ} \{-4; 2; 2\}$$

$$\overrightarrow{EF} \{-4; -2; -2\}$$

$$\cos \angle (PQ, EF) = \frac{|-4 \cdot (-4) + 2 \cdot (-2) + 2 \cdot (-2)|}{\sqrt{(-4)^2 + 2^2 + 2^2} \sqrt{(-4)^2 + (-2)^2 + (-2)^2}} = \frac{1}{3}$$

Ответ:

$$\frac{1}{3}$$

Задача 3.

Дано:

$$OA = 4, OB = 9, OC = 2$$

Найти:

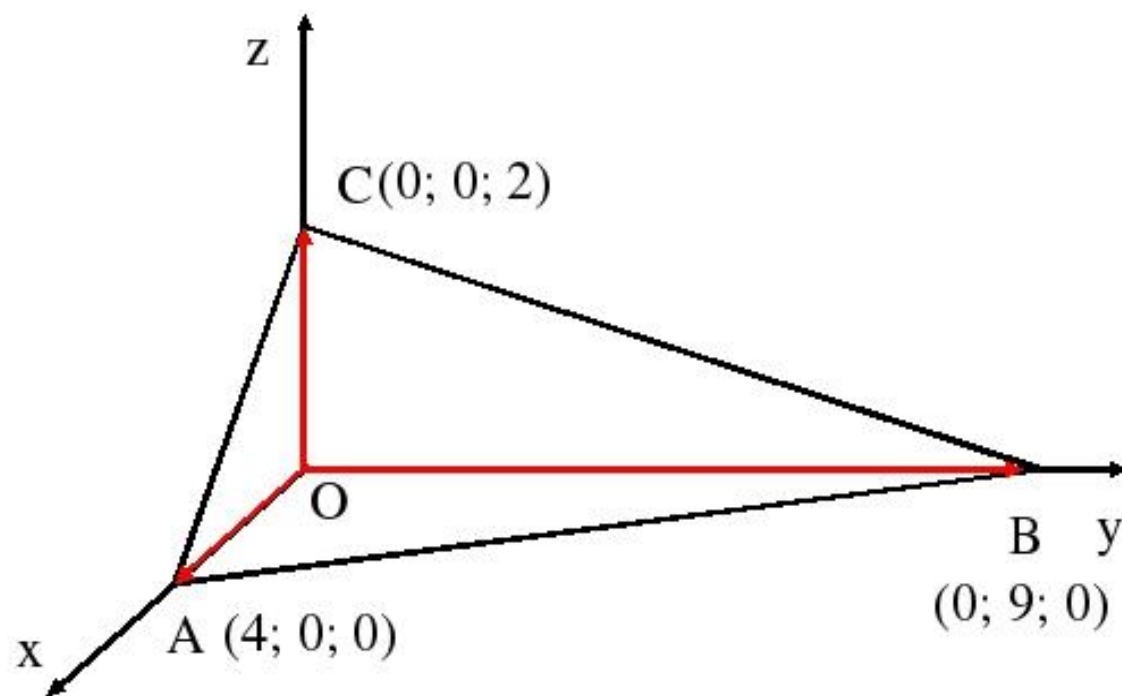
координаты $\vec{AC}, \vec{CB}, \vec{AB}$

Решение:

$$\vec{AC} \{0 - 4; 0 - 0; 2 - 0\} = \{-4; 0; 2\}$$

$$\vec{CB} \{0 - 0; 9 - 0; 0 - 2\} = \{0; 9; -2\}$$

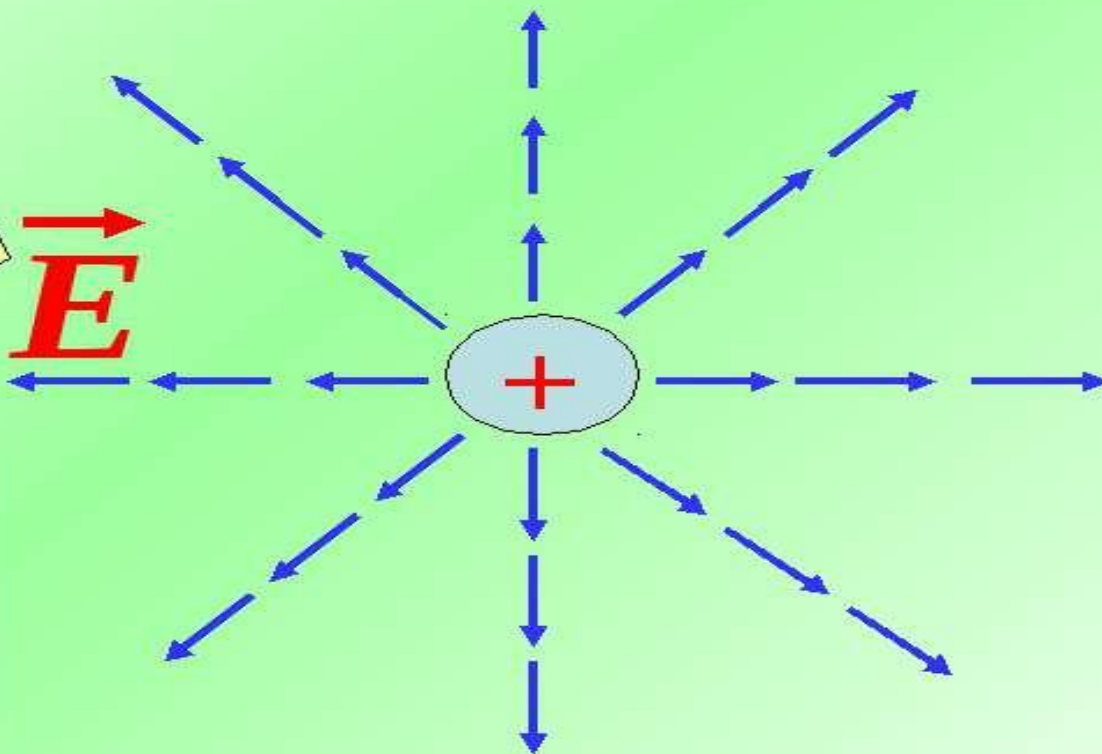
$$\vec{AB} \{0 - 4; 9 - 0; 0 - 0\} = \{-4; 9; 0\}$$



Электрическое поле

Вектор
напряженности

\vec{E}

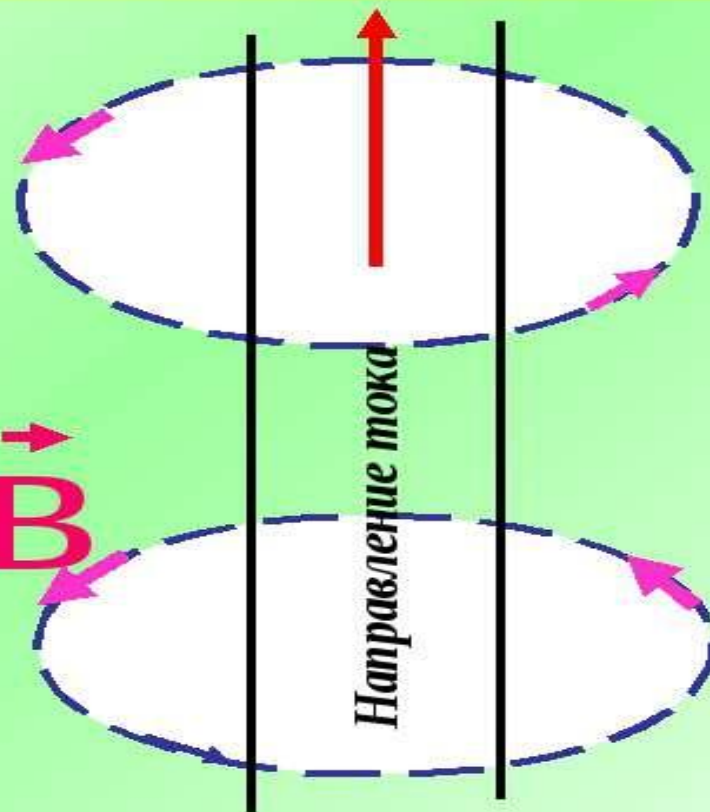


Магнитное поле

Вектор магнитной
индукции

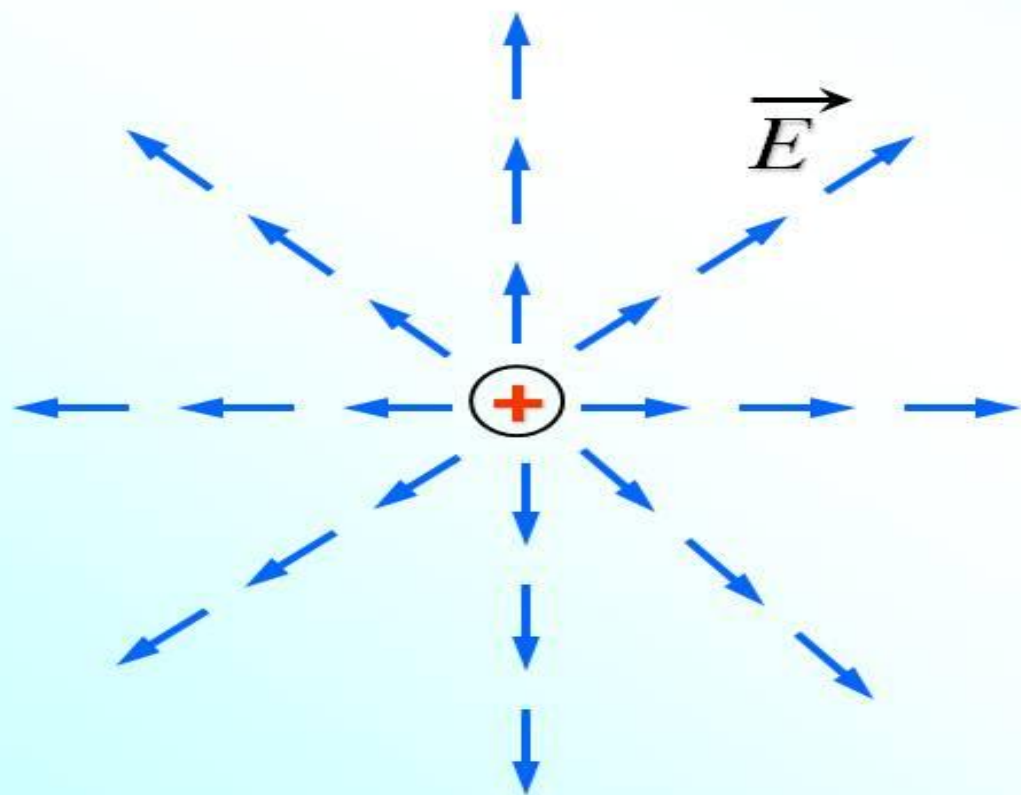


\vec{B}



Направление тока

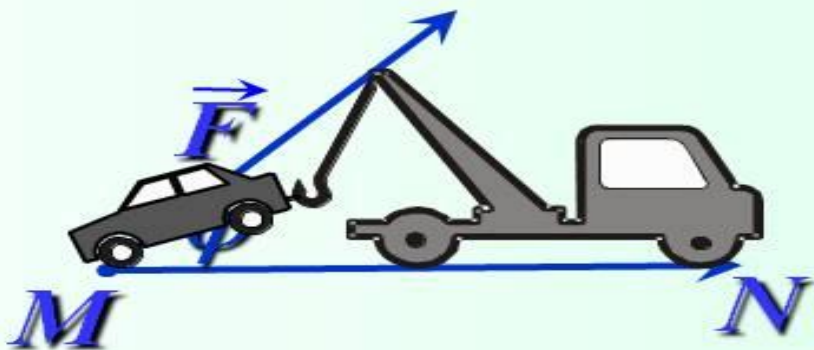
Многие физические величины, например сила перемещение, скорость, являются векторными величинами. При изучении электрических и магнитных явлений появляются новые примеры векторных величин.



Электрическое поле, создаваемое в пространстве зарядами, характеризуется в каждой точке пространства вектором напряженности электрического поля.

На рисунке изображены векторы напряженности электрического поля положительного точечного заряда.

Скалярное произведение в физике

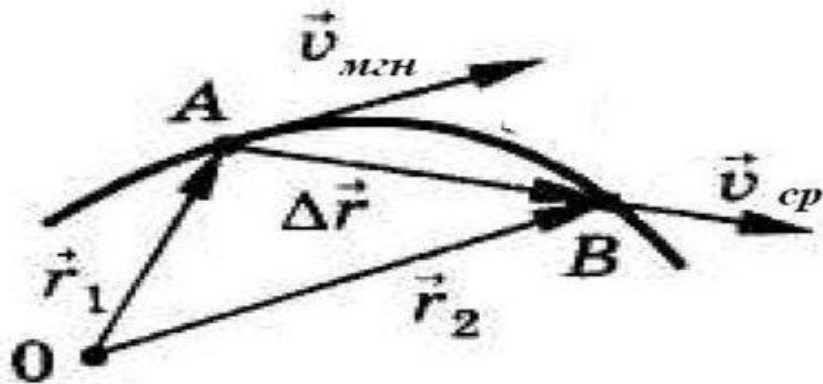


Скалярное произведение векторов встречается в физике. Например, из курса механики известно, что работа A постоянной силы \vec{F} при перемещении тела из точки M в точку N равна произведению силы \vec{F} и перемещения \vec{MN} на косинус угла между ними.

$$A = |\vec{F}| \cdot |\vec{MN}| \cos \varphi$$

$$A = \vec{F} \cdot \vec{MN}$$

Средняя скорость



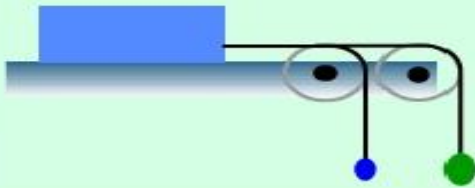
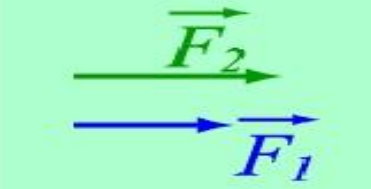


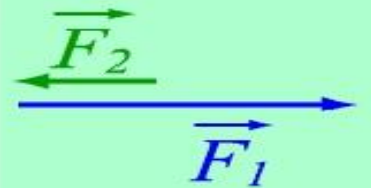

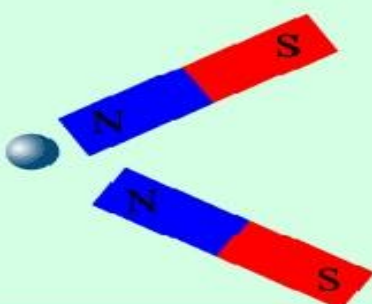
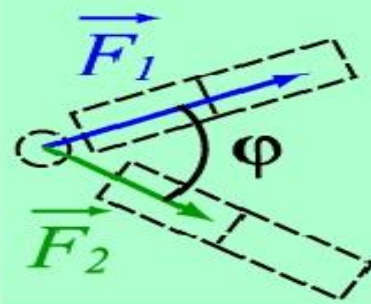
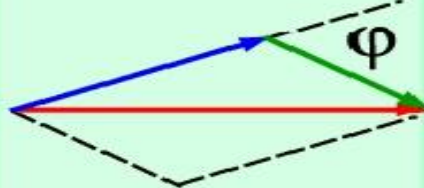
- **Скорость** – векторная величина, характеризующая быстроту изменения положения материальной точки в пространстве с течением времени.
- **Средней линейной скоростью** называется векторная величина, равная отношению перемещения к промежутку времени, за которое это перемещение произошло.

$$\bar{v}_{cp} = \frac{\Delta \vec{r}}{\Delta t} \quad [\bar{v}] = [\text{м/с}]$$

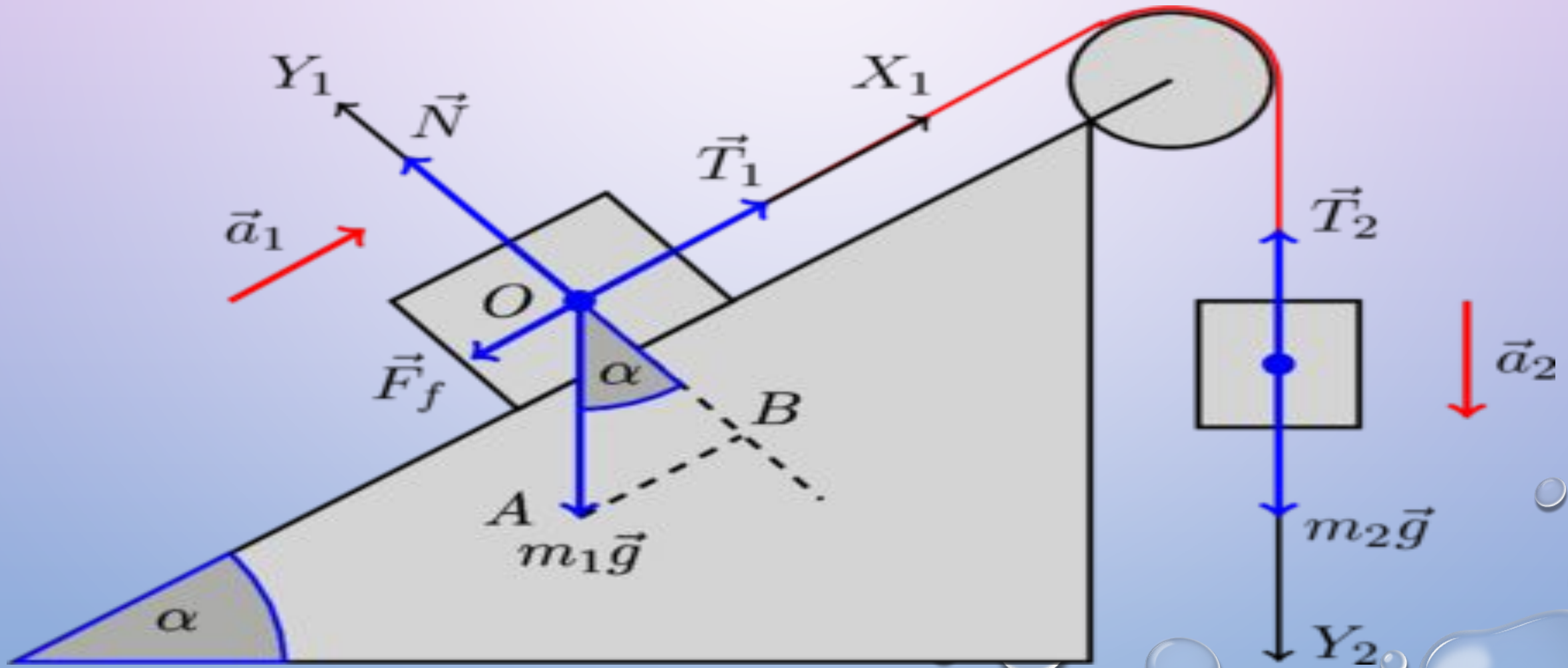
- Направление средней скорости совпадает с направлением радиус – вектора.

РАВНОДЕЙСТВУЮЩАЯ ДВУХ СИЛ

Сложение сил

			$F_p = F_1 + F_2$
			$F_p = F_1 - F_2$
			$F_p^2 = F_1^2 + F_2^2 + 2F_1F_2 \cos \varphi$

ПОКАЗАТЬ СИЛЫ, ДЕЙСТВУЮЩИЕ НА БРУСОК



Вектор в басне!



ВЕКТОРНАЯ ДИАГРАММА ТОКОВ И НАПРЯЖЕНИЙ RLC ЦЕПОЧКЕ

