



МОБИЛЬНОЕ ЭЛЕКТРОННОЕ
ОБРАЗОВАНИЕ

Интегрированное занятие
в подготовительной к школе группе
«Вместе весело шагать»



**МБДОУ «Детский сад общеразвивающего вида № 157»
г. Иваново, Баранова Марина Вячеславовна**



СТРУКТУРА ЗАНЯТИЯ ПО ФГОС

№	Этапы занятия	Дидактические задачи, деятельность воспитателя	Действия воспитанников
1	Вводная часть	Воспитатель предлагает отправиться в путешествие, преодолев полосу препятствий. Создание благожелательной атмосферы занятия, нацеленности на работу.	
2	Организационный момент	Воспитатель помогает детям поделиться на команды	Дети делятся на команды, выбирают капитана и название команды
3	Целеполагание, постановка проблемы	Воспитатель подводит воспитанников к определению границ знания и незнания, осознанию темы, целей и задач занятия.	В совместной работе выявляются причины затруднения, выясняется проблема.
4	Поиск путей решения проблемы	Консультирует	Планирование путей достижения намеченной цели. Индивидуальная или <u>групповая работа</u> по решению практических задач
5	Решение проблемы	Консультирует	Выполняют задания
10	Оценивание	Консультирует, обосновывает оценки	Воспитанники самостоятельно оценивают работу
11	<u>Рефлексия деятельности</u>	Благодарит воспитанников за участие	Воспитанники называют тему занятия, его этапы, перечисляют виды деятельности на каждом

РАЗМИНКА

Сколько хвостов у 3
котят?



Сколько ушей у 2 мышей?



Сколько лап у 2 медвежат?



Сколько орехов в пустом
стакане?







ВОЛШЕБНЫЕ ПАЛОЧКИ

Задания

1. возьмите 5 палочек и сложите один квадрат и два треугольника



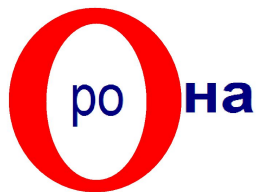
2. возьмите еще столько палочек, чтобы получилось девять
3. Выложите из 9 палочек пять треугольников



РЕБУСЫ

- Что необходимо для жизни живых организмов? (воздух, вода, питание)
- Что очищает воздух? (деревья, растения)
- Где чище и лучше воздух? (в лесу)

Отгадайте, кто живет в нашем лесу?



СОСТАВЬ СХЕМУ СЛОВА



--	--	--	--


--	--	--	--



--	--	--	--	--	--

--	--	--	--	--	--

ПРОВЕРЬ СЕБЯ



КОЛОДЕЦ

Наполни колодца водой, сравнив числа



17 16
13 18
19 18
15 16
11 10
14 13
20 20
0 10

5.1.92



11 11
18 17
15 16
13 12
14 19
20 20
10 18
17 19

5.1.92



ПРОВЕРЬ СЕБЯ



$$17 > 16$$

$$13 < 18$$

$$19 > 18$$

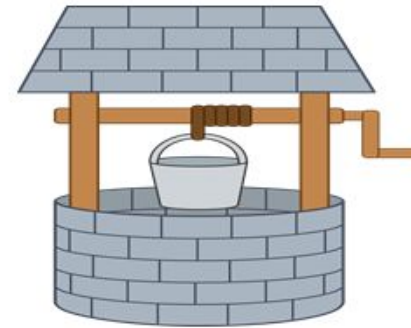
$$15 < 16$$

$$11 > 10$$

$$14 > 13$$

$$20 = 20$$

$$0 < 10$$



$$11 = 11$$

$$18 > 17$$

$$15 < 16$$

$$13 > 12$$

$$14 < 19$$

$$20 = 20$$

$$10 < 18$$

$$17 < 19$$



ВОЛШЕБНАЯ ДВЕРЬ

(ГРАФИЧЕСКИЙ ДИКТАНТ)



Отступить 2 клетки вниз.

7 право; 1 верх; 1 право; 1 верх; 2 право;

1 низ; 1 право; 3 низ; 1 лево; 1 низ;

2 лево; 1 верх; 1 лево; 1 верх; 3 лево;

1 низ; 1 лево; 1 верх; 1 лево; 1 низ;

1 лево; 1 низ; 1 лево; 3 верх.

ФИНАЛ

По первым буквам прочитай слово



Ы

--	--	--	--	--	--	--

ПРОВЕРЬ СЕБЯ



М	О	Л	О	Д	Ц	Ы
---	---	---	---	---	---	---



СПАСИБО ЗА ВНИМАНИЕ!

Баранова Марина Вячеславовна
Воспитатель

МБДОУ «Детский сад общеразвивающего вида № 157» г. Иваново

Моб
E-mail:
www.mob-edu.ru