


# «ЮНЫЙ ГЕНИЙ» №2



# ПЕРЕМЕСТИ! СПИЧКИ •

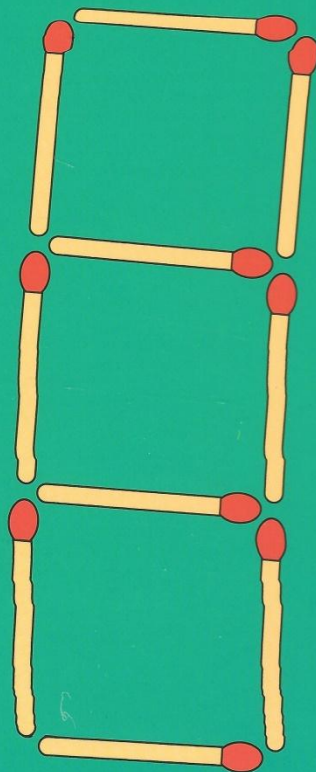
Перемести 2 спички так, чтобы получилось 5 равных квадратов.



1

# ПЕРЕМЕСТИ! СПИЧКИ •

Перемести 4 спички так, чтобы получилось 2 квадрата.



# ПРОДОЛЖИ! РЯД

Определи, по каким правилам записаны числа и продолжи ряды. Составь подобные ряды в полях ниже и загадай друзьям!

1

6634	2
8285	4
4172	0
9381	
_____	
_____	
_____	
_____	

2

1035	1
6980	0
2147	3
5472	
_____	
_____	
_____	
_____	

# ЗАПОЛНИ! КЛЕТКИ

Определи, какая связь между числами в верхнем и нижнем рядах и заполни клетки.

1

6	1	4	2	8	3
	14	10	12		

2


2	4	3	7	5	6
	6	10	19		

3

5	7	9	4	6	8
52	94	18	61		

# НАЙДИ! ОБЩЕЕ!

Рассмотри внимательно рисунки и определи,  
какой признак их объединяет.



ОТВЕТ

# НАЙДИ! ОБЩЕЕ!

Рассмотри внимательно рисунки и определи,  
какой признак их объединяет.



## ЗАПОЛНИ КЛЕТКИ!

Расставь арифметические знаки (+, -, ×, /) в пустые клетки так, чтобы получилось верное равенство. Дважды можно указать только один знак. Счет идет по порядку, слева направо, без учёта приоритета знаков.

$$6 \quad \square \quad 3 \quad \square \quad 5 \quad \square \quad 7 \quad \square \quad 4 \quad \square \quad 8 = 13$$

Попробуй самостоятельно составить подобное равенство и загадай друзьям!

--	--	--	--	--	--	--	--	--	--	--	--	--

## ПРОВЕДИ ЛИНИИ!

На рисунке изображён циферблат. Раздели циферблат 2 прямыми непересекающимися линиями на 3 части таким образом, чтобы сумма чисел в каждой части была одинаковой.



