



**Решение
задач и
примеров**

**Число 0-
продолжение
темы**






Аня вымыла 3 больших тарелки и 3 маленькие. Сколько всего тарелок вымыла Аня ?



Витя принес 4 пакета кефира. За ужином выпили 3 пакета кефира. Сколько пакетов кефира осталось?



осталось?



Саша начертил отрезок длиной 6 см. Аня продолжила этот отрезок на 1 см. Какой длины отрезок получился? Начертить этот отрезок.





Игра "Круговые примеры"

$2+1$



$5-3$



$3-2$



$4+1$



Писаревская Т.П. БСОШ №1 Баган

$1+3$





$$5 + 0 = 5$$



$$5 - 0 = 5$$

Почему ?



$$3 + 0 = 3$$



$$3 - 0 = 3$$


$$2 - 2 = ? \quad 6 + 0 = ?$$

$$8 - ? = 0; \quad 9 + 0 = ?$$

$$10 + ? = 10$$

$$10 - ? = 10$$





$$0 + 2 = 2;$$

$$2 - 0 = \square$$

$$0 + 3 = \square$$

$$3 - 0 = \square$$

$$0 + 6 = \square$$

$$6 - 0 = \square$$

$$0 + 8 = \square$$

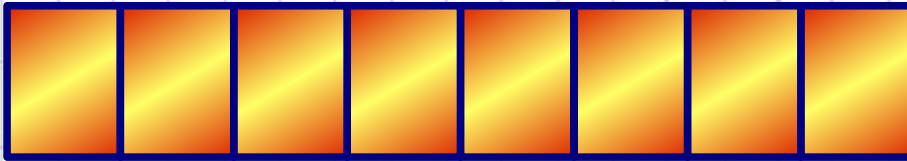
$$8 - 0 = \square$$



1 CM




CM




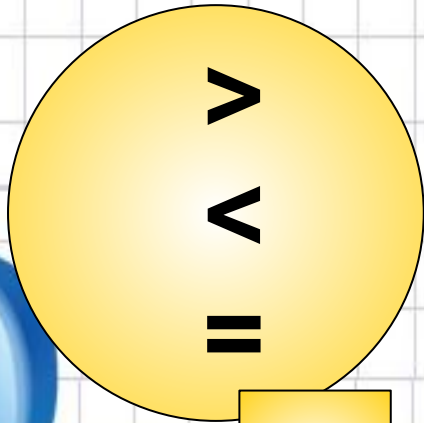
0 1 2 3 4 5 6 7 8



0
1
2
3
4
5
6
7
8
9



CM



CM





*






CM



Вася поймал




а Саша поймал



Сколько всего рыбок они поймали?


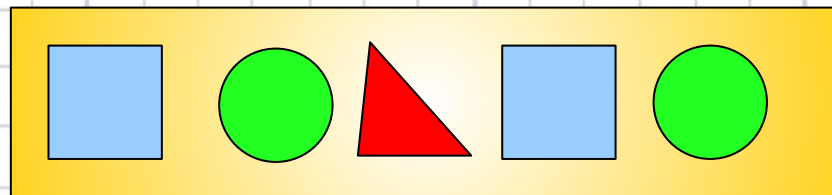
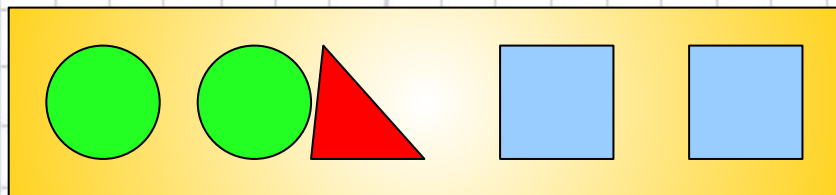


У Веры было



Она подарила подруге 1 куклу.
Сколько кукол осталось у Веры?

Сравни



Вычисляй устно

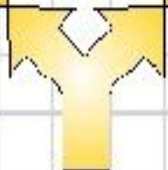
$6 - 1$



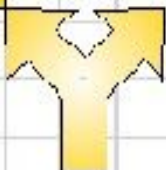
$5 - 1$



$5 - \square = ?$

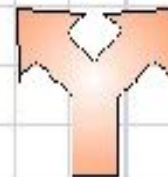


$?\square + 1$

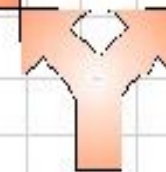


$5 - \square = 3$

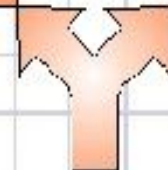
$2 + 2$



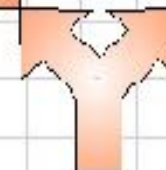
$? \square - 3$



$4 - \square = ?$



$? \square - 2$




$? \square + 1 = 5$

Писаревская Т.П. БСОШ №1 Баган



Игра Больше? Меньше? Левее? Правее?



Писаревская Т.П. БСОШ №1 Баган

