



*Сложение и вычитание целых
чисел и десятичных дробей*

$$\square + 79 = 80;$$

$$\square \cdot 4 : 4 = 1;$$

$$67 * \square = 0;$$

$$\square \cdot 1 = 98;$$

$$10 - \square = 0;$$

$$\square \cdot 0 \cdot \square = 0$$

$$\square$$

$$:$$

Сами с усами

Вопрос: чему посвящен 2013 год?

5000 + 3000	Л
7000 – 4000	И
9000 – 8000	К
6000 + 3000	О
1000+ 4000	Э
9000 – 2000	Я
2000 + 2000	Г
7000 - 5000	О

5000	
1000	
2000	
8000	
9000	
4000	
3000	
7000	



ЭКОЛОГИЯ

Узнавайка

Задача I.

Общая площадь Лесного района составляет 163 299 гектаров. Охраняемая территория на 108 866 гектаров меньше общей площади района. Найдите охраняемую территорию района?

54 433 га

Задача 2.

В некотором царстве, в Лесном государстве жил-был Иван - царевич. Было у него 3 брата. Решил он их проведать и отправился в путь. Долго ли ехал, коротко ли... На пути у него возник огромный валун, который мешал проехать Ивану – царевичу к своим братьям. А на том камне – валуне надпись: «Чтобы меня отодвинуть, нужно решить 3 уравнения».

Порогский каменюка



1. $X + 2 = 6,2$

1. 4,2

2. $19 - X = 16,7$

2. 2,3

3. $97,6 + X = 100$

3. 2,4

Путь в КОСМОС

Задача 3

Первый спутник Земли
полетел в космос 4
октября

1957 году, а аллея была
заложена в мае 1958
года.

Сколько лет березам?

Когда эта дата исполни
лась в 2013 году?



55 лет
май 2013 г



Задача 4



У школы в с. Михайловское посажена аллея лиственниц. Все деревья имеют разные размеры (по толщине): 1,8 м; 2,08 м; 1,008 м ; 0,98 м. Расположите в порядке возрастания размеры деревьев.



Почтовая

		→ 3			↓ 4		↓ 2		↓ 1	← 1	
↓ 3											
		↑ 2	← 1				→ 2		↑ 1		
								болото			
→ 3			↑ 2		→ 5				↑ 4		



Озеро ИЛОВЕЦ
Его площадь 512 га



курган







БОБР

РЫСЬ

ЛОСЬ



карь



Найдите фигуру, которая нарушает закономерность.

Как расположены фигуры?

Итог урока

Повторили сложение и вычитание целых чисел, десятичных дробей, возрастание десятичных дробей.

Памятники природы в Лесном районе.

СПАСИБО ЗА УРОК!