
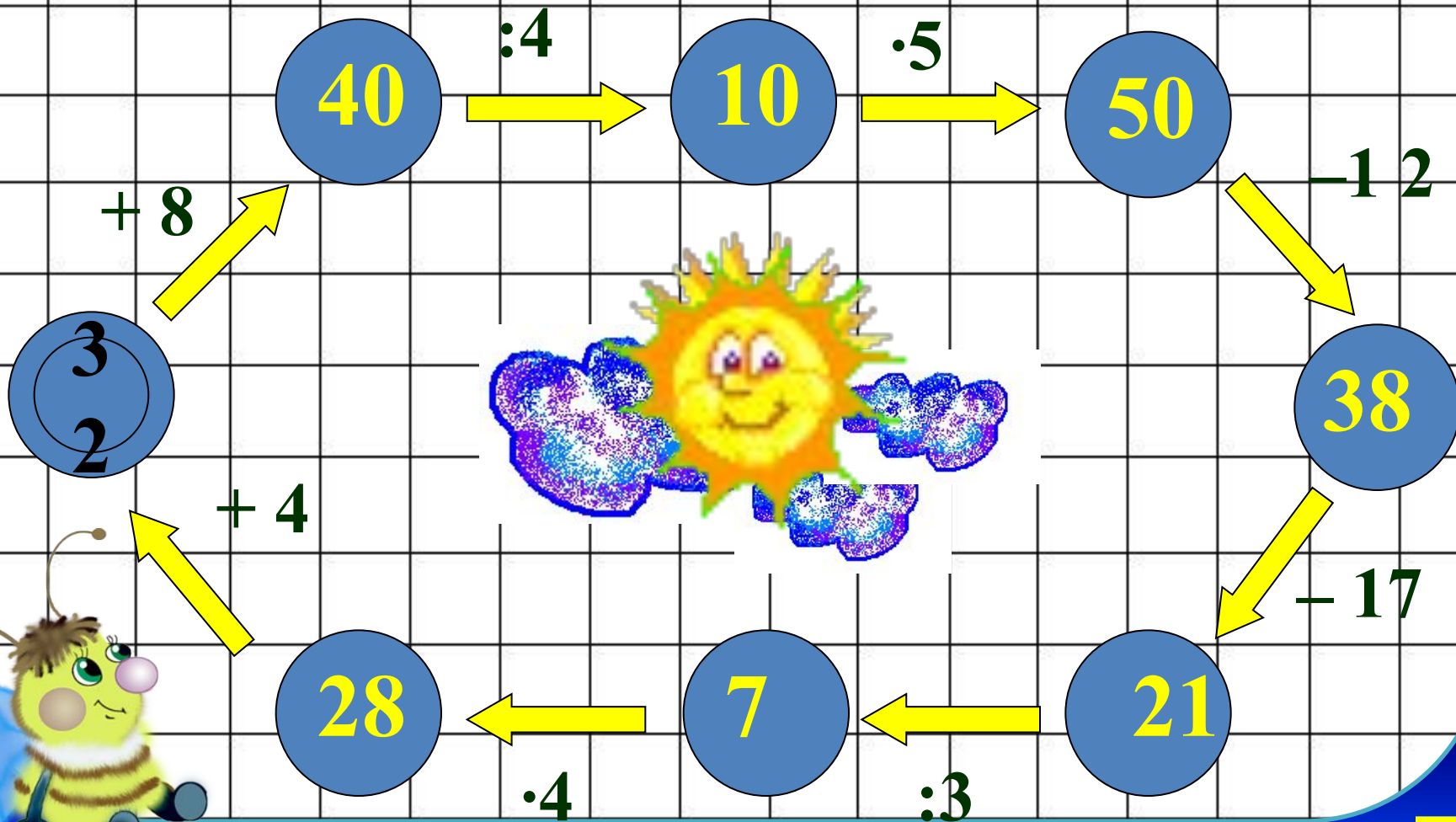


Игра «Разгони тучи!»





			$9 \cdot 3$			
		$4 \cdot 3$		$2 \cdot 3$		
	$3 \cdot 5$				$6 \cdot 3$	
$8 \cdot 3$						$3 \cdot 7$



Гусь тяжелее утки на 2 кг, но
легче щенка на 3 кг.

На сколько утка легче
щенка?


На 5 кг



Выбери правильное решение.



Напекла лиса ватрушек,
Пригласила пять подружек.
Вот ватрушки. Надо их
Разделить на шестерых.
Всех ватрушек тридцать шесть.
Сколько каждый может съесть?




$$36 : 5$$

$$36 \cdot 6$$

$$36 : 6$$

$$45 + 20 = \mathbf{а}$$

$$30 + 47 = \mathbf{з}$$

$$83 - 60 = \mathbf{и}$$

$$34 - 3 = \mathbf{ч}$$

$$50 - 8 = \mathbf{а}$$

$$43 + 7 = \mathbf{д}$$



