

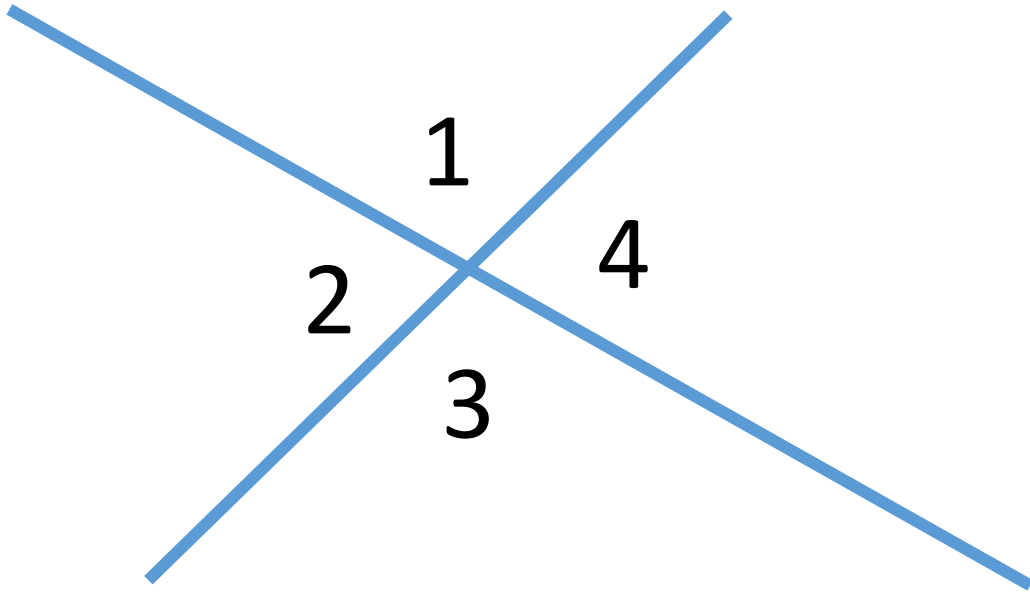
Домашнее задание:
п. 1,2,3,4 УЧИТЬ,
№102,103

Актуализация опорных знаний

- Какие углы называются смежными?
- Какие углы называются вертикальными?
- Каким свойством обладают вертикальные углы?
- Сформулируйте теорему о смежных углах

Вертикальные и смежные углы

Найдите углы 1, 2, 3 и 4, если угол $2+4=220^\circ$.

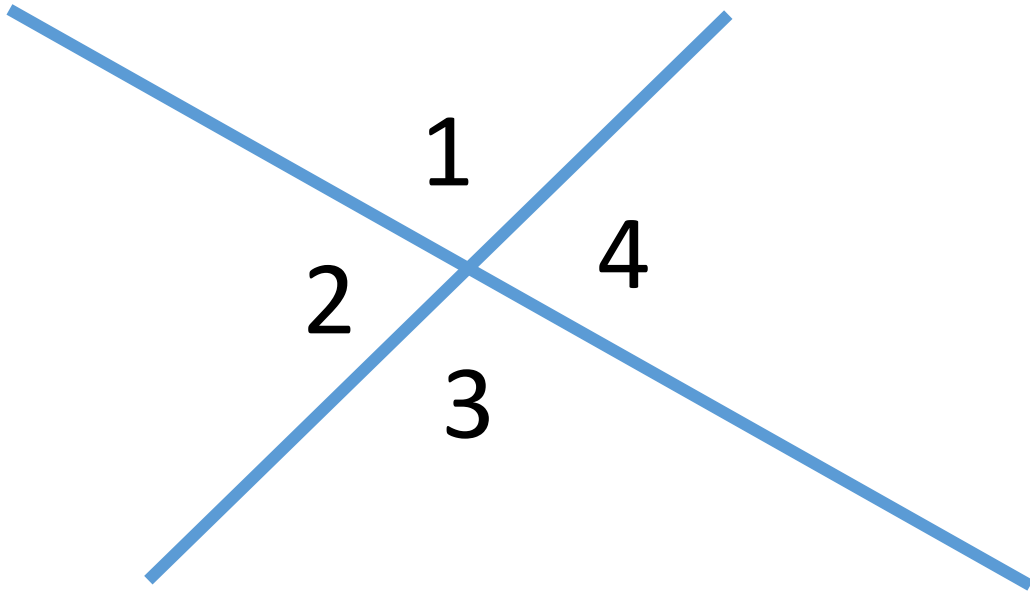


Дано:

Найти:

Решение:

Найдите углы 1, 2, 3 и 4, если угол $2-1=30^{\circ}$.




Дано:

Найти:

Решение:

№97



Дано:

Найти:

Решение:

Проверь себя 😊