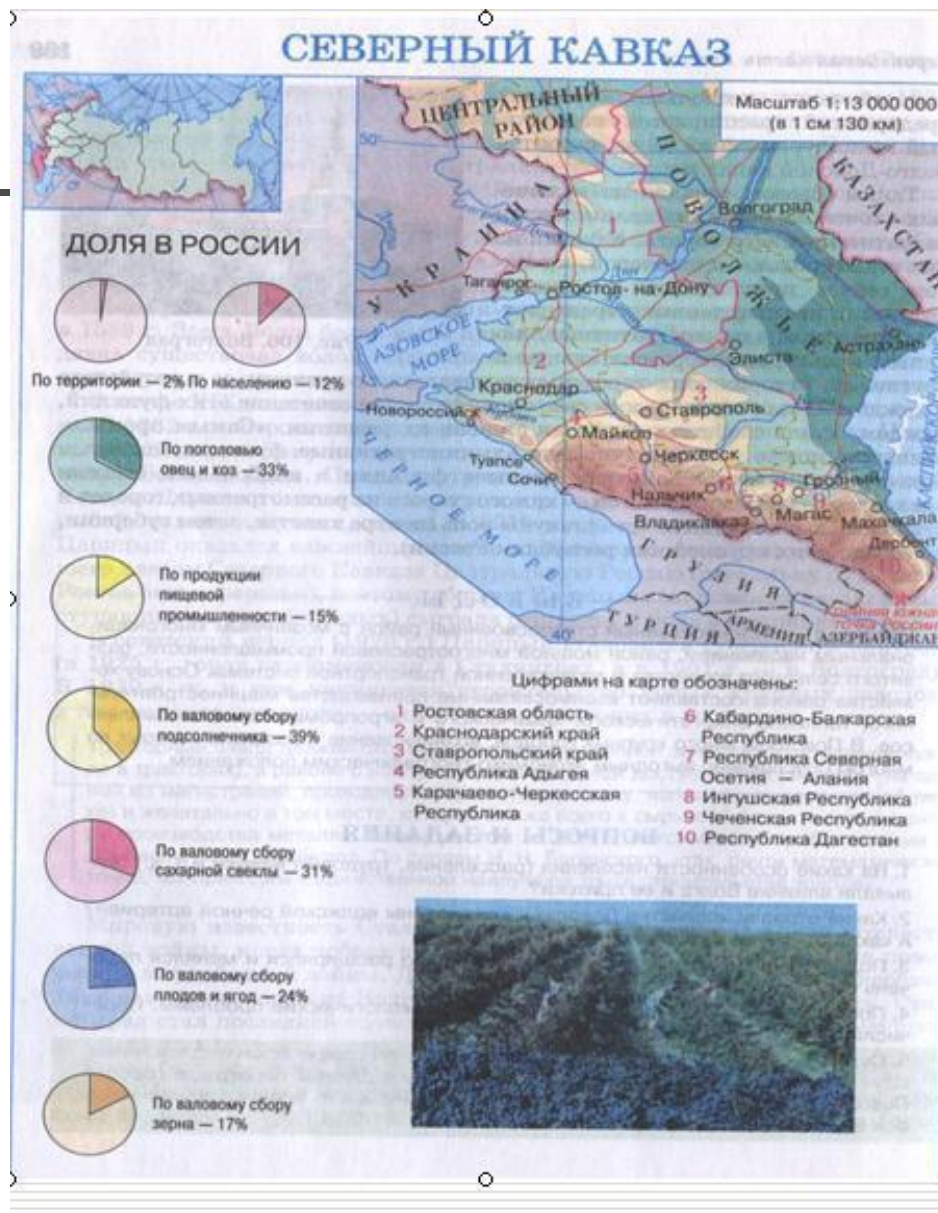




Европейский Юг

«Визитная карточка» экономического района.



Состав экономического района.

Задание: на основе работы с картой атласа установите какие субъекты РФ входят в состав района.

Информацию сверните в схему.

Европейский ЮГ.

Области.

Края.

Республики.

Сделайте вывод об особенностях состава экономического района.

СЕВЕРНЫЙ КАВКАЗ СОСТАВ ТЕРРИТОРИИ



Буквой "А" на карте обозначен Азербайджан



Факторы формирования района.

- 1. Самый Южный район России.**
- 2. С трех сторон ограничен природными рубежами.**
- 3. Влияние морей на природу и хозяйственные особенности района.**
- 4. Наиболее существенное влияние Черного моря.**
- 5. Геополитические интересы РФ на Северном Кавказе.**
- 6. Природный амфитеатр.**

Природа Европейского Юга.

Задание:

Дайте характеристику особенностей природы Европейского Юга для жизни и хозяйственной деятельности человека.

Природа


Рельеф.

Климат

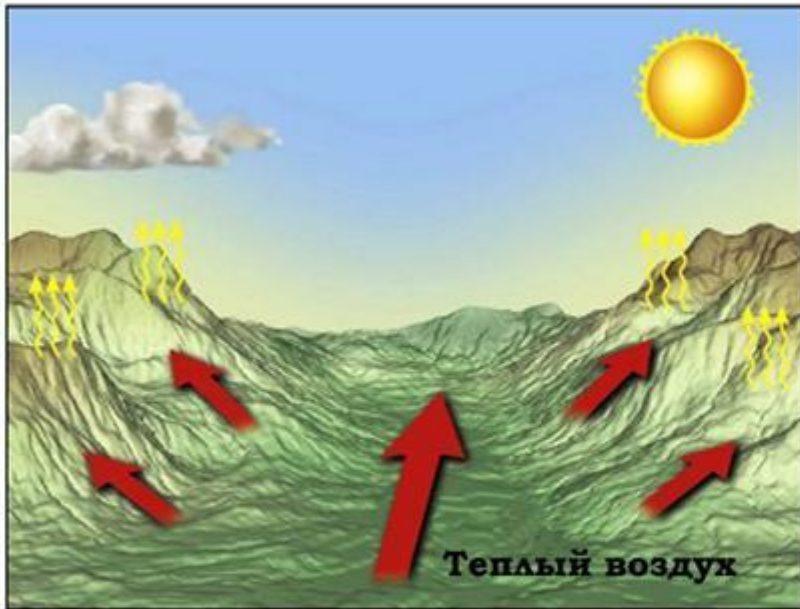
Реки.

**Высотная
поясность.**

? *Каковы различия по рельефу, климату, гидрографии, ландшафтам и набору природных ресурсов равнинной, предгорной и горной частей района?*



Горно-долинные ветры



Население и хозяйственное освоение Европейского Юга.



- 1. Какова плотность населения района.**
- 2. Где располагаются очаги его концентрации.**
- 3. Почему для района характерна высокая доля сельского населения?**
- 4. Докажите, что район отличается от других этническим разнообразием.**
- 5. Основные религии, которые исповедует население Европейского Юга.**
- 6. Межнациональные проблемы района, их причины.**
- 7. Народы гор и предгорий: традиции, культура, промыслы.**


Хозяйство Европейского Юга.

Агропромышленный комплекс района.

Задание: на основе работы с текстом учебника, § 41 стр.251 и картой атласа, заполните таблицу.

Растениеводство	Животноводство	Пищевая промышленность	Центры

Сделайте вывод о месте сельского хозяйства в экономике Европейского Юга.



Почему в районе необходима интенсификация сельского хозяйства и перерабатывающих отраслей АПК ?

В чем состоит проблема развития морского рыбного хозяйства?

Развитие промышленности.

На основе работы с текстом учебника стр. 162, картами атласа, заполните таблицу.

<i>Природные ресурсы района.</i>	<i>Отрасли специализации.</i>	<i>Центры.</i>

Сделайте вывод о месте промышленности в экономике Европейского Юга.



Машиностроение:

- а) сельскохозяйственное;**
 - б) транспортное;**
 - в) энергетическое;**
-

Цветная металлургия.

Топливо-энергетический комплекс.

Какова роль черноморских портов в развитии хозяйства страны?



Рекреационное хозяйство района.

Задание: вы сотрудник турагентства.

Какие маршруты путешествий по Северному Кавказу вы предложили бы с целью:

А) отдыха и лечения;

Б) горнолыжного спорта;

В) познавательного туризма и знакомства с памятниками природы;

Составьте примерные схемы маршрутов и их описания.









Ответьте на вопрос:

**Какие отрасли являются главными в хозяйстве района?
Почему?**

**В чем проявляются сложности в решении социально-экономических проблем республик Северного Кавказа?
Основные экономические, социальные и экологические проблемы региона.**



Оцените свою деятельность на уроке:

Вспомните задачи сегодняшнего занятия.

Сегодня на уроке мне было

Знания, полученные на уроке, мне пригодятся....

Сегодня я.....

Мне было легко...

Мне было сложно...

О том, что я узнал (а), я расскажу....



Домашнее задание:

- 1. Прочитать текст учебника § 41.**
- 2. Подготовиться к тесту по изученной теме.**