


Тема прошлого урока:

Географические знания в Древней Европе

Цель:


Определить вклад учёных Древней Греции и Древнего Рима в развитие географии.

1) Идею о земных оболочках впервые высказал




Страбон

1




Птолемей

2



Геродот

3




Аристотель

4

2) Вклад Страбона в развитие географии заключается в создании:


- 1** «Руководства по географии»
- 2** «Географии» в 17 книгах
- 3** «Истории» в 9 книгах
- 4** философского сочинения «О природе»

3) Кого считают создателем первой карты?




Птолемя

1




Страбона

2



Анаксимандра

3



Аристотеля

4

4)

Что явилось причиной развития географии в Древнем Риме?

1

Любознательность

2

Военные походы

3

Характер хозяйственной деятельности населения

5) . Как называется научный труд Птолемея, в котором изложены способы построения карт?

1 «География»

2 «Руководство по географии»

3 «Землеописание»

ОТВЕТЫ:

1) 4


2) 2

3) 3

4) 2

5) 2

Карта Земли, составленная Птолемеем



Развитие географических знаний о Земле

ЛИНИЯ ВРЕМЕНИ



Древний мир



Средние века



Новое время



**Новейшее
время**

3

2

1

1

2

3

4

5

6

7

8

9

10

11

12

13

14

15

16

17

18

19


20

21

До нашей
эры

Наша эра

	Арабы	Афанасий Никитин	Викинги	Марко Поло
Куда плавали				
Причины путешествий				
Какой вклад в развитие географии внесли				



Абу Абдаллах Ибн Баттута
(1304 – ок. 1369 или 1377)


*Арабский путешественник
и писатель*



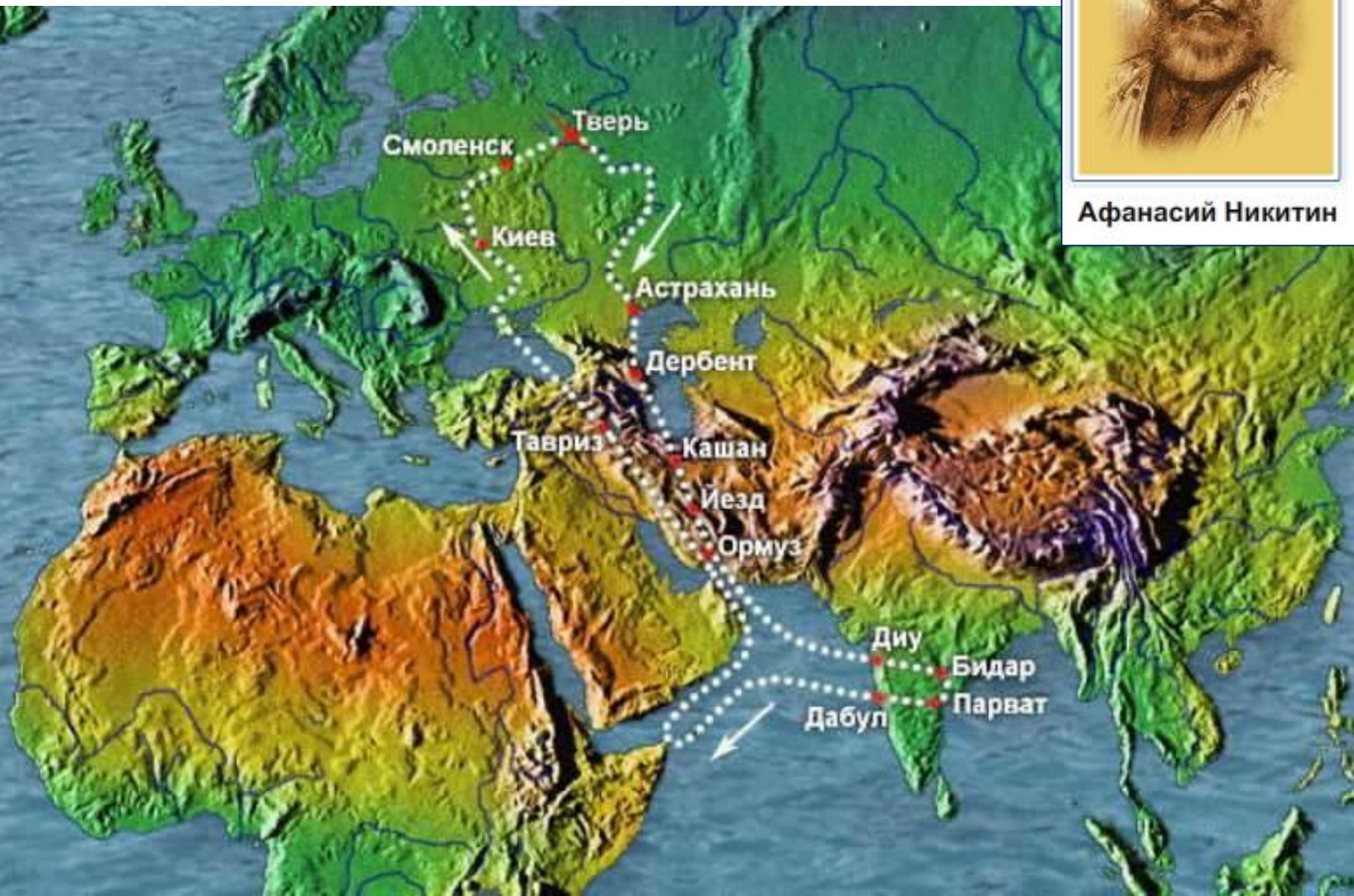
Арабы

Куда плавали	Вдоль восточных берегов Африки (до о. Мадагаскар), вдоль южных берегов Азии – Индии и Китая. До Канарских островов. Караванный путь через Сахару.
Причины путешествий	Завоевательные походы, торговля
Какой вклад в развитие географии внесли	Составили точные карты, составили описание стран и указали точное местоположение городов и других объектов

Маршрут Афанасия Никитина



Афанасий Никитин



Определите , из какого города начал свой путь А. Никитин	
Названия гор, которые пересёк путешественник	
Названия морей, которые пересёк путешественник	
По территориям каких современных стран прошёл путешественник	
Укажите города по маршруту А. Никитина (не более трёх)	

Определите , из какого города начал свой путь А. Никитин	Тверь
Названия гор, которые пересёк путешественник	Кавказ
Названия морей, которые пересёк путешественник	Каспийское море, Аравийское море, Чёрной море
По территориям каких современных стран прошёл путешественник	России, Иран, Индия, Турция, Украина
Укажите города по маршруту А. Никитина (не более трёх)	Тверь, Астрахань, Дербент, Кашан, Йезд, Ормуз, Диу, Бидар, Парват, Дабул, Тавриз, Киув, Смоленск

Домашнее задание:

- 1) учебник с.18-21;
- 2) Доделать таблицу;
- 3) Т-Т с.5 з.5, с.16 з.1