



# Деловая игра «Дорожный марафон»

Как называются широкие белые полосы разметки на проезжем участке дороги:

- а) «леопард»;
- б) «зебра»;
- в) «верблюд».





Какие сигналы у светофора и что они обозначают?



Чем обязан обозначить себя пешеход в сумерках, двигаясь по обочине:

- а) факелом;
- б) фонарём;
- в) фликером.



**В каком месте безопасно переходить загородную дорогу:**

- а) возле поворота дороги, т.к. там водители снижают скорость;
- б) на подъеме дороги, там также водители снижают скорость;
- в) там, где проезжая часть в обе стороны хорошо просматривается.



**Какие автомобили могут проехать на красный свет?**

- а) папина и мамина
- б) такси
- в) пожарная, скорая, спецмашины
- г) гоночная







На перекрестке, для перехода дороги, вам горит разрешающий сигнал, но на перекрёсток вышел регулировщик, вы:

- а) будете переходить дорогу по сигналу светофора;
- б) будете стоять, пока регулировщик не уйдёт;
- в) дождётесь сигнала регулировщика, показывающего, что переход разрешается.



## Как называется этот знак?

- а) Рядом школа;
- ✓ б) Дети;
- в) Побежали, побежали!!





Если вы собираетесь перейти по пешеходному переходу дорогу и увидели приближающийся автомобиль скорой медицинской помощи с включённым маячком:

- а) подождёте, пока автомобиль проедет;
- б) будете переходить;



Для чего постовому  
нужен жезл?

а) приветствовать  
знакомых;

б) отгонять мух;

в) знак отличия;

✓ г) регулировать дорожное  
движение;





**Цвет какого сигнала светофора можно видеть одновременно со всех сторон движения?**

- а) желтый:
- б) красный;
- в) зеленый.





**На какой дороге транспортные средства лучше тормозят:**

- а) на мокрой;
- б) на обледенелой;
- в) с ямками;
- ✓ г) на сухой;





Как называют  
водителя,  
управляющего  
такси?


- а) таксомотор;
- б) таксофон;
- в) таксист ✓

**К какой группе относятся эти знаки?**

а) Разрешающие;

✓ б) Запрещающие;

в) Вразумляющие;





**По какой стороне тротуара рекомендуется двигаться пешеходам?**

а) по любой;

б) по бордюрам;

✓ в) по правой стороне ;

г) по левой;




**Когда загорелся зеленый свет светофора, что ты будешь делать?**

а) пропустишь всех старушек и даму с собачкой

б) побежишь со всех ног


в) останешься стоять на месте

 г) убедишься, что все транспортные средства остановились и перейдешь дорогу





Где можно переходить улицу?





Назовите лучший способ сохранения жизни на дороге.



Соблюдать правила дорожного движения!