

Сложение вида

$$37 + 48$$

Урок № 71



*Школа России*  
*Математика 2 класс*





*Устный счёт*

Увеличь данные числа на 3 десятка.



5 14 27 47 68

35 44 57 77 98



Уменьши данные числа на 3  
единицы.



45 27 66 48 39

42 24 63 45 36



Найди ошибки.

$$\begin{array}{r} 68 \\ - 31 \\ \hline 27 \end{array}$$

$$\begin{array}{r} 54 \\ + 41 \\ \hline 95 \end{array}$$

$$\begin{array}{r} 78 \\ - 35 \\ \hline 32 \end{array}$$

$$\begin{array}{r} 88 \\ - 70 \\ \hline 8 \end{array}$$



Мама развела несколько кактусов. Когда трёхлетняя Маша папиной бритвой старательно побрила половину

маминых кактусов, осталось ещё **12** колючих кактусов

$$12 + 12 = 24 \text{ (к.)}$$



24

кактусов




Саша свой дневник с двойками закопал на глубину

7

метров, а Паша на глубину 11 метров. На сколько глубже

закопал свой дневник с двойками Паша?

$$11 - 7 = 4 \text{ (м)}$$



на 4

Если младенца Кузю взвесить вместе с бабушкой, получится **69 кг**. Если взвесить бабушку без Кузи, получится **64 кг**. Сколько весит Кузя без бабушки? 🔔




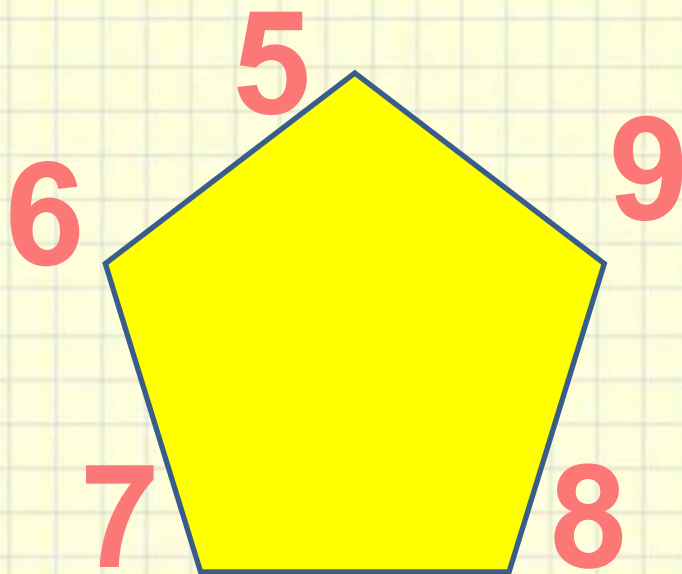

$$69 - 64 =$$

**5 кг**

**5 кг**



Назови номера прямых, острых и тупых углов.



1

# Задания на смекалку



Имеется **2** замка и **2** ключа к ним. Взяли ключ и проверили, подходит ли он к одному из замков. Достаточно ли этой проверки, чтобы узнать от какого замка ключ?

**Да, достаточно.**

