

***Тесты в формате ГИА***

***Какой из перечисленных народов, проживающих на территории России, является наиболее многочисленным?***

- 1) якуты
- 2) татары
- 3) коми
- 4) калмыки

## ***2. Крайняя южная точка России расположена на территории***

- 1) Республики Алтай
- 2) Приморского края
- 3) Краснодарского края
- 4) Республики Дагестан

***3. Для какой из перечисленных территорий России, расположенных в умеренном климатическом поясе, характерен резко континентальный климат?***

- 1) Забайкалье
- 2) Кольский полуостров
- 3) Приморье
- 4) полуостров Камчатка

**4. Снежные лавины – одно из наиболее грозных и опасных природных явлений.**

**В каком из перечисленных регионов России снежные лавины представляют наибольшую опасность?**

- 1) Калининградская область
- 2) Республика Северная Осетия – Алания
- 3) Чувашская Республика
- 4) Архангельская область

## ***5. Какой из перечисленных городов является центром автомобилестроения?***

- 1) Тула
- 2) Тольятти
- 3) Рязань
- 4) Ставрополь

**6. Ученые-биологи должны исследовать места обитания популяций овцебыков, белых медведей, некоторых видов птиц. Какой из перечисленных заповедников им следует посетить для проведения исследовательской работы?**

- 1) Остров Врангеля
- 2) Магаданский
- 3) Командорский
- 4) Печоро-Илычский

Задания 7, 8 выполняются с использованием приведённого ниже графика.



7

В каком году показатель рождаемости был наименьшим?

- 1) 1985 г.
- 2) 1993 г.
- 3) 1999 г.
- 4) 2009 г.

8

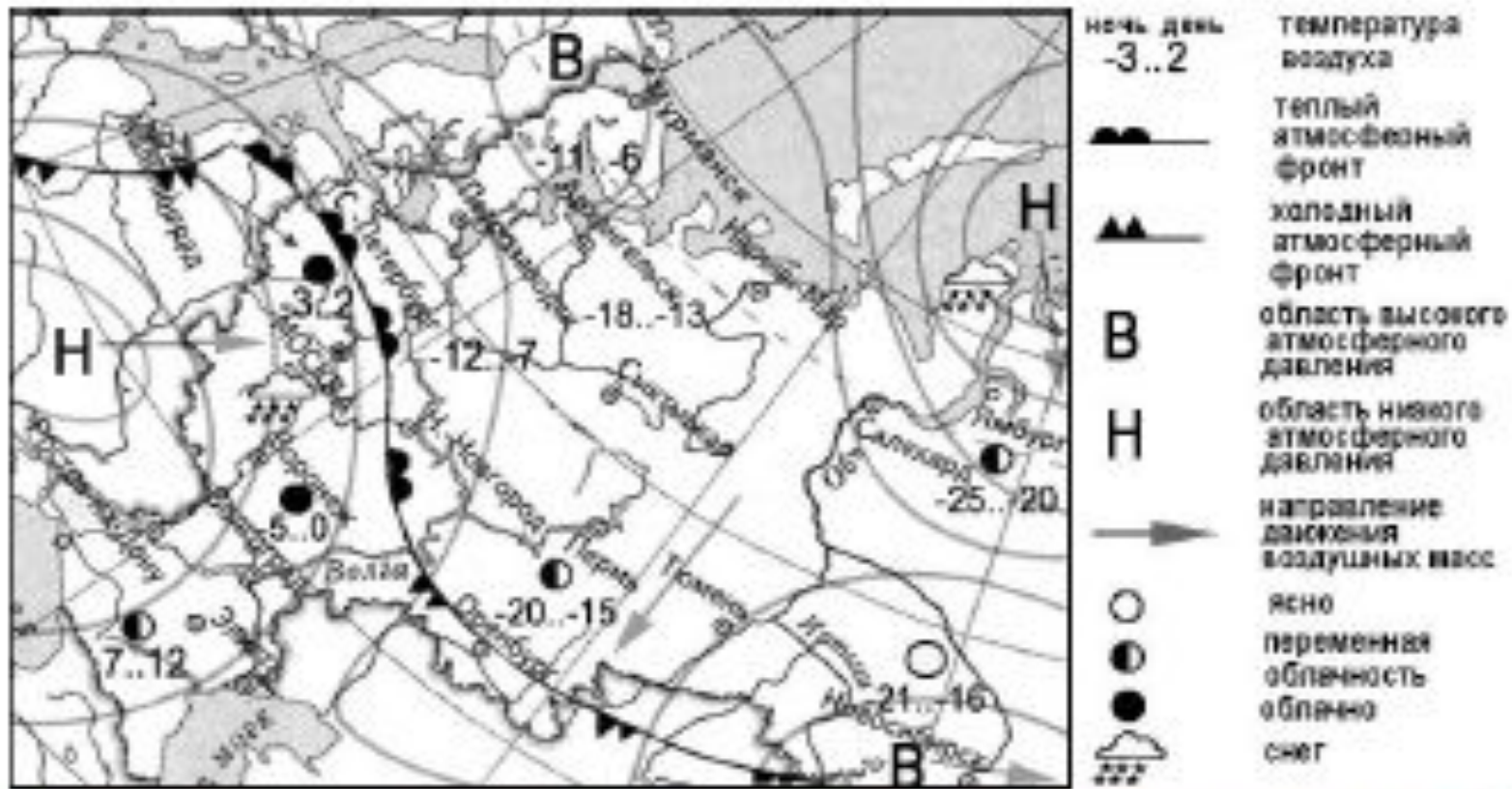
Определите показатель естественного прироста населения в 1994 г. Ответ запишите в виде числа.

Ответ: \_\_\_\_\_ на 1 тыс. человек.



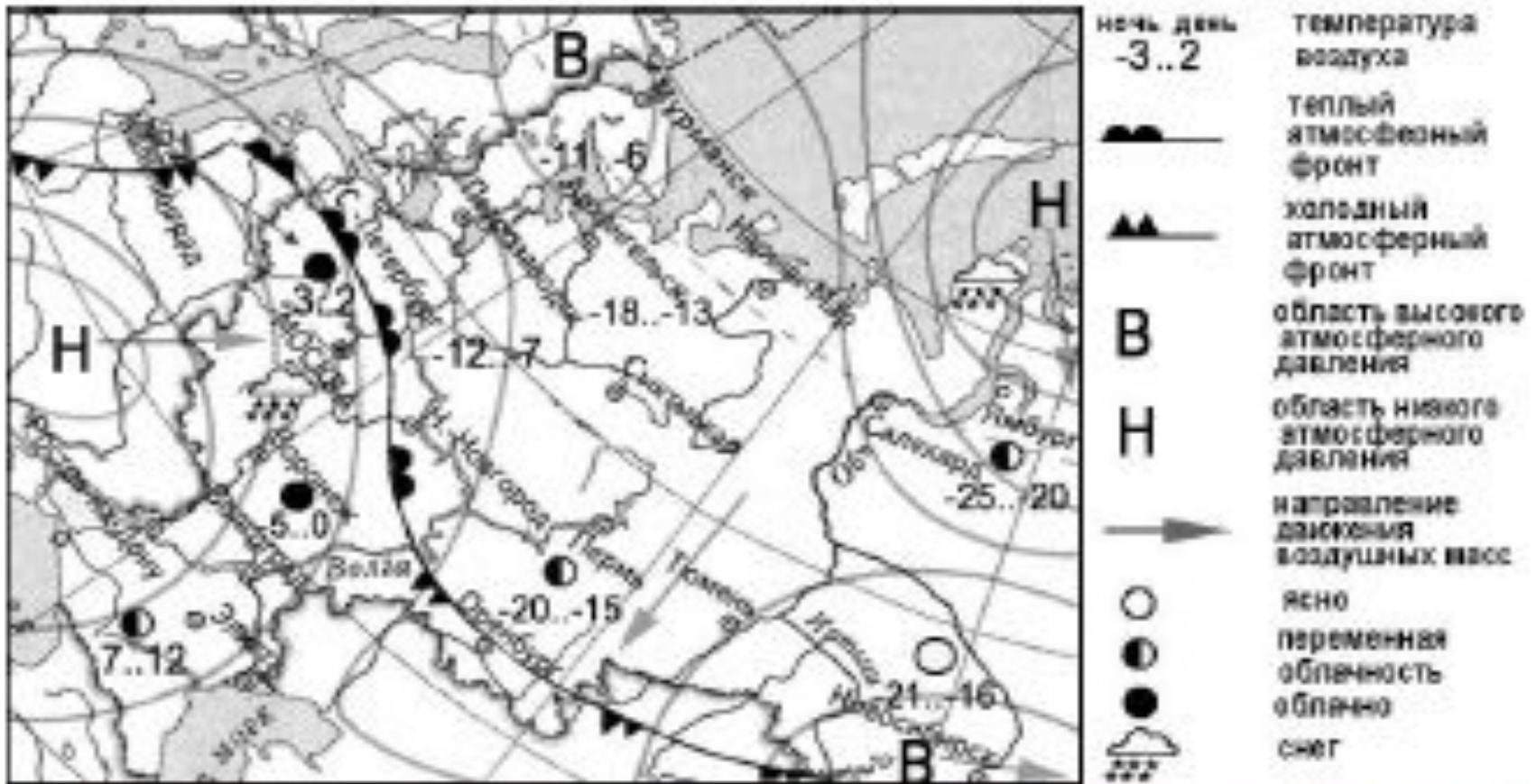
**9. В каком из перечисленных  
регионов России средняя  
плотность населения  
наибольшая?**

- 1) Камчатский край
- 2) Ростовская область
- 3) Мурманская область
- 4) Республика Карелия



10. Какой из перечисленных городов, показанных на карте, находится в зоне действия циклона?

- 1) Мурманск
- 2) Новосибирск
- 3) Тюмень
- 4) Воронеж



11. Карта погоды составлена на 25 декабря. В каком из перечисленных городов, показанных на карте, на следующий день наиболее вероятно существенное потепление?

- 1) Москва
- 2) Санкт-Петербург
- 3) Оренбург
- 4) Новосибирск

## **12. Что является примером нерационального природопользования?**

- 1) заготовка древесины с последующими посадками
- 2) производство бумаги из макулатуры
- 3) комплексное использование добываемого сырья
- 4) распашка земель вдоль склонов

# ***13. В каком из высказываний содержится информация о режиме реки Амур?***

- 1) Берега реки Амур в верхнем течении скалисты и покрыты хвойными лесами.
- 2) Амур – пограничная река России, часть её водосборной площади находится на территории Китая.
- 3) Замерзает Амур в течение ноября, вскрывается в период с третьей декады апреля по первую декаду мая.
- 4) По водности Амур относится к числу наиболее крупных рек России: средний годовой расход воды в устье составляет 12 800 м<sup>3</sup>/с.

•

ниже.

В конце февраля 2010 г. в Тихом океане на глубине 55 километров у побережья Чили, в 115 километрах к северу от города Консепсьон, произошло сильное землетрясение магнитудой 8,8. В результате землетрясения и последовавшего за ним цунами погибло более 500 человек.

Примерно год спустя, 1 марта 2011 г., на севере Чили зафиксировано землетрясение магнитудой 5,2. Эпицентр землетрясения находился в 116 километрах восточнее города Икике. Его очаг находился на глубине 99 километров. Сведений о жертвах и разрушениях не поступало.

14. Почему в Чили часто происходят землетрясения?

15. На территории какой из перечисленных стран наиболее вероятны

землетрясения?  
1) Финляндия

2) Белоруссия

3) Австралия

4) Мексика

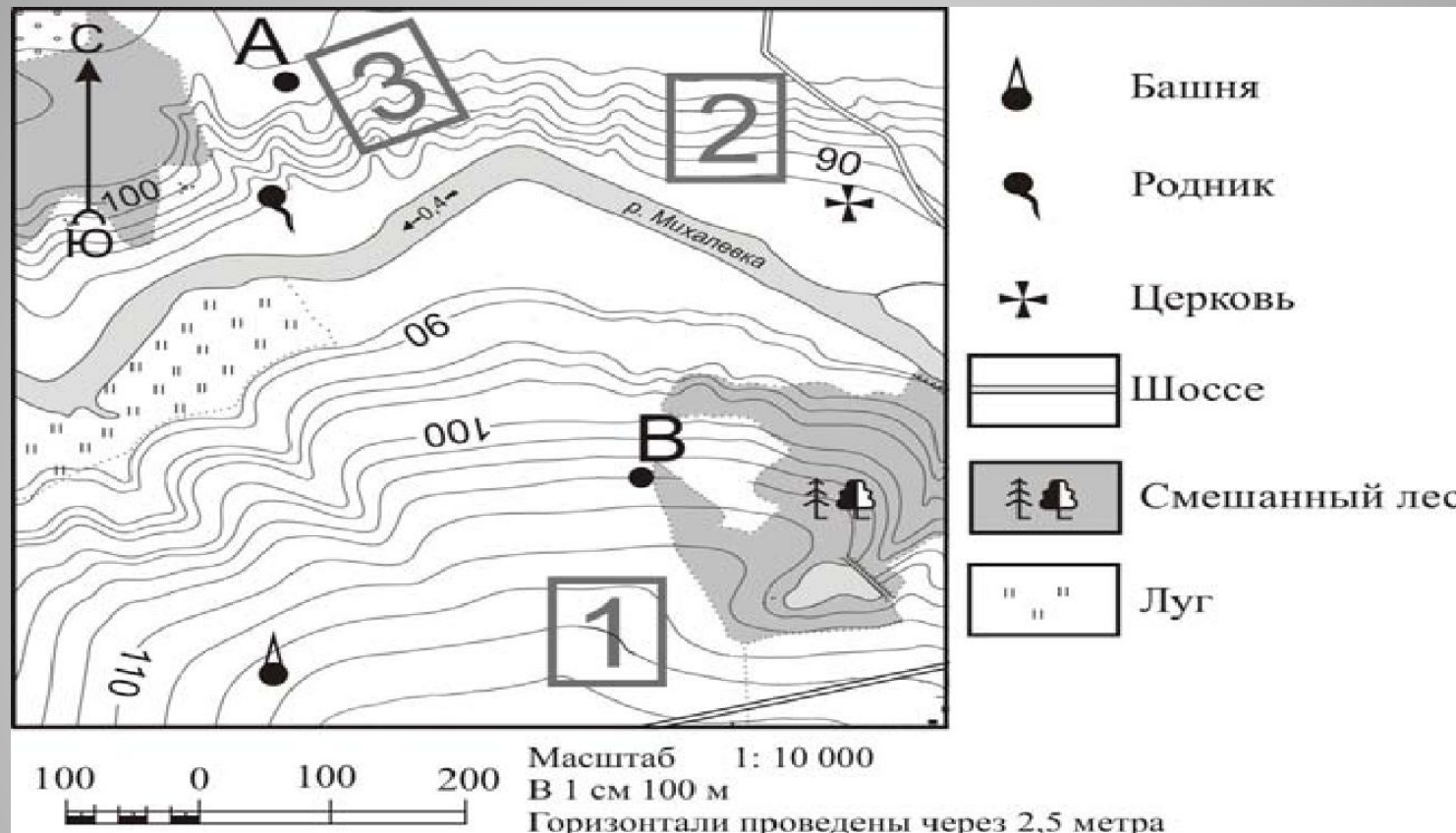
**16. Расположите перечисленные  
ниже города в порядке увеличения  
в них  
численности населения.**

- А) Липецк
  - Б) Новосибирск
  - В) Псков
- 
- Ответ: ВАБ

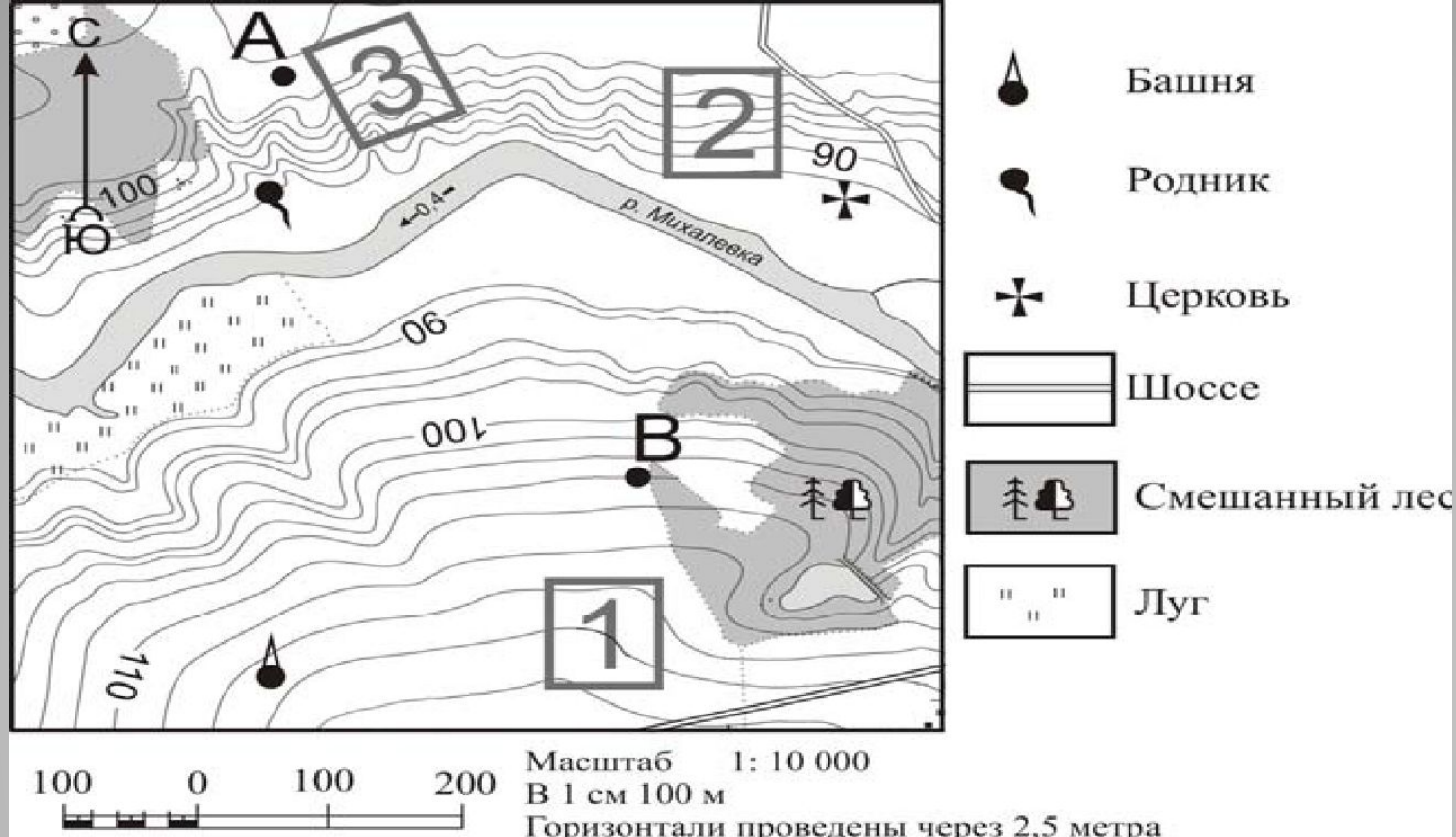
**17. Определите, какая горная  
вершина имеет географические  
координаты  
46° с.ш. и 7° в.д.**



**Задания 18–21 выполняются с использованием приведённой ниже карты.**



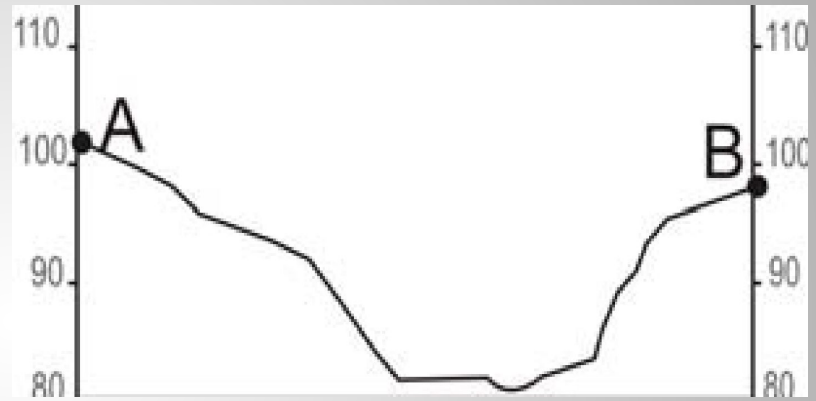



- 18. Определите по карте расстояние на местности по прямой от родника до церкви. Измерение проводите между центрами условных знаков. Полученный результат округлите до десятков метров. Ответ запишите в виде числа.
- 19. Определите по карте, в каком направлении от башни находится родник



- **20. Фермер выбирает участок для закладки нового фруктового сада. Ему нужен**
- **участок, на котором весной рано сходит снег, а летом почва лучше всего**
- **прогревается солнцем. Он также должен иметь расположение, удобное для**
- **вывоза собранного урожая на консервный завод. Определите, какой из**
- **участков, обозначенных на карте цифрами 1, 2 и 3, больше всего отвечает**
- **указанным требованиям. Для обоснования своего ответа приведите два**

**21. На рисунках представлены варианты профиля рельефа местности, построенные на основе карты по линии А – В разными учащимися. Какой из профилей построен верно?**



**Задания 22, 23 выполняются с использованием приведённого ниже текста.**

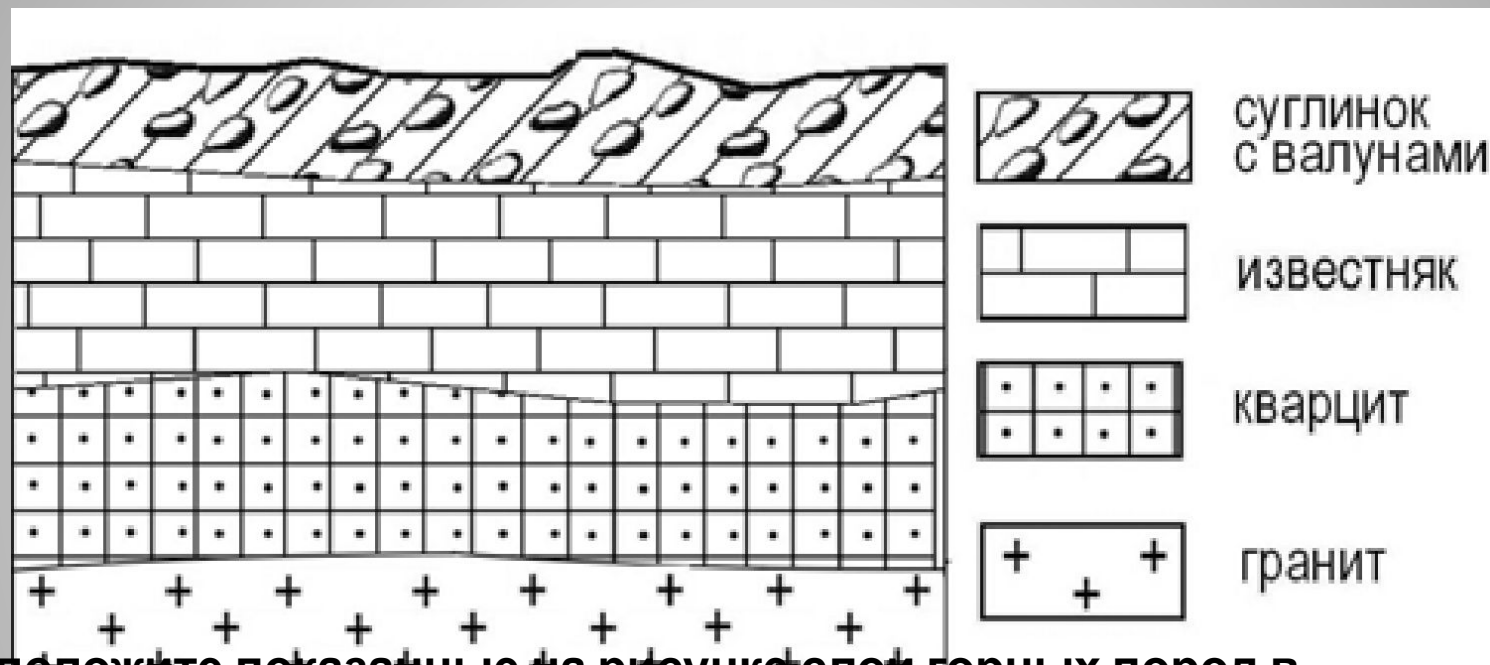
**1 июня 2008 г. Челябинский тракторный завод отметил своё 75-летие. ЧТЗ стал первым в стране заводом по крупносерийному производству гусеничных тракторов. В годы Великой Отечественной войны завод выпускал танки и внёс огромный вклад в победу над фашизмом. В настоящее время с конвейера завода ежегодно сходят тысячи тяжёлых инженерных машин (промышленных тракторов, бульдозеров, трубоукладчиков); продукция ЧТЗ поставляется во все регионы России, страны СНГ и дальнего зарубежья.**

**22. Карты какого географического региона России необходимо выбрать, чтобы более детально изучить регион, в котором расположен г. Челябинск?**

- 1) Европейского Юга**
- 2) Урала**
- 3) Центральной России**
- 4) Западной Сибири**

**23. Назовите одну из особенностей промышленности Челябинской области, способствующую развитию производства там тяжёлой тракторной техники.**

**24. Во время экскурсии учащиеся сделали схематическую зарисовку залегания горных пород на обрыве в карьере.**



Расположите показанные на рисунке слои горных пород в порядке

увеличения их возраста (от самого молодого до самого древнего).

Запишите в таблицу получившуюся последовательность букв.

А) известняк

Б) суглинок с валунами

В) кварцит

**25. Рекламные лозунги для привлечения туристов в свои регионы. Установите соответствие между слоганом и регионом.**

• **СЛОГАН**

- А) Добро пожаловать на побережье
- Телецкого озера – горной жемчужины с неповторимой красотой!
- Б) Добро пожаловать в национальный парк
- Валдайский – «жемчужину» средней полосы России!
- Полюбуйтесь красотой озера Ильмень!

• **РЕГИОН**

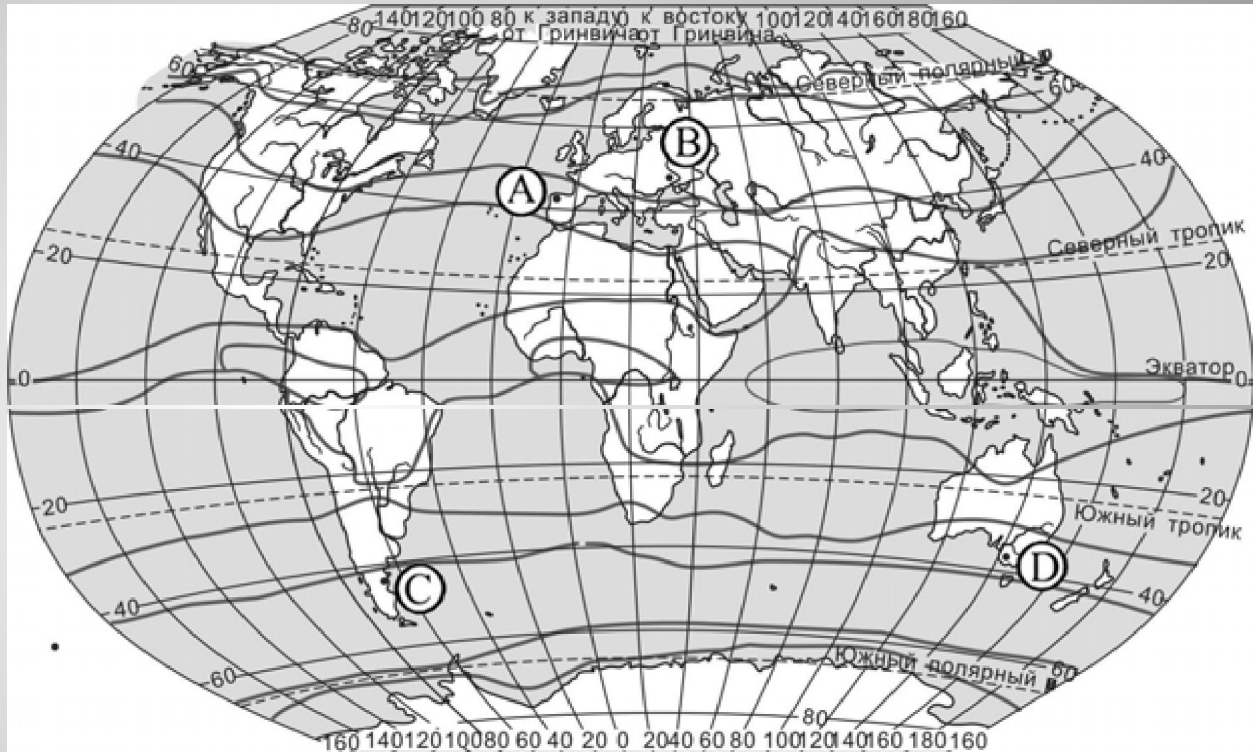
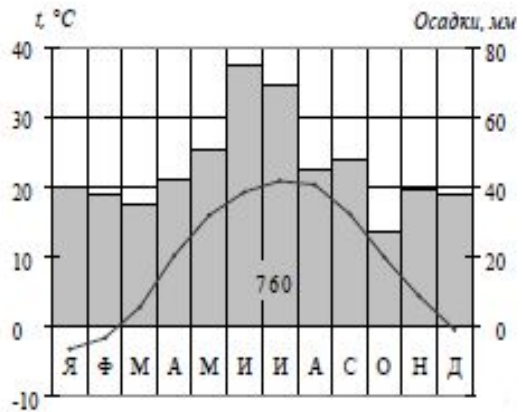
- 1) Республика Карелия
- 2) Краснодарский край
- 3) Республика Алтай
- 4) Новгородская область
- Ответ: А - Б -

***26. Расположите регионы России в той последовательности, в которой их жители встречают Новый год.***

- **А) Республика Карелия**
- **Б) Свердловская область**
- **В) Забайкальский край**
  
- **Ответ: ВБА**



27. Проанализируйте климатограмму и определите, какой буквой на карте обозначен пункт, климат которого показан на климатограмме.



- **Задания 28, 29 выполняются с использованием приведённого ниже текста.**
- Школьники из нескольких населённых пунктов России обменялись данными
- многолетних метеонаблюдений, полученными на местных метеостанциях.
- Собранные ими данные представлены в следующей таблице.

Пункт наблюдения	Географические координаты пункта наблюдения	Высота над уровнем моря, м	Средняя температура воздуха, °С		Среднегодовое количество атмосферных осадков, мм
			июль	январь	
Сортавала	61° с.ш. 30° в.д.	17	+16,4	-9,8	570
Вологда	59° с.ш. 40° в.д.	125	+17,0	-11,9	568
Балазна	57° с.ш. 44° в.д.	63	+19,0	-11,6	542
Уфа	54° с.ш. 56° в.д.	104	+19,5	-15,0	569

- 28. Учащиеся проанализировали собранные данные в целях выявления
- зависимости между особенностями климата и географическим положением
- пункта. У всех учащихся выводы получились разные. Кто из учащихся сделал верный вывод на основе представленных данных?
  
- 1) Алина: «Чем дальше на юго-восток, тем больше среднегодовое количество атмосферных осадков».
- 2) Сергей: «Чем дальше на юго-восток, тем больше среднегодовая амплитуда температуры воздуха».
- 3) Георгий: «Чем севернее, тем ниже температуры воздуха в январе».
- 4) Тамара: «Чем выше над уровнем моря расположен пункт, тем прохладней там в июле».

**29. В каком из перечисленных населённых пунктов 22 июня в полдень по местному солнечному времени угол падения солнечных лучей будет наименьшим?**

- 1) Сортавала
- 2) Вологда
- 3) Балахна
- 4) Уфа

- 30. Определите страну по её краткому описанию.
- Территория этой страны имеет выход к одному из морей Атлантического океана. На её территории расположена крайняя северная точка материка, на
- котором находится эта страна. Природа страны разнообразна: здесь можно увидеть пустынные пейзажи, оливковые и апельсиновые рощи, вечнозелёные средиземноморские леса. Страна имеет сухопутную границу лишь с двумя
- государствами. Название столицы совпадает с названием страны.

- **Ответ – Тунис.**