

Что узнали?
Чему научились?



УРОК № 93

УСТНЫЙ СЧЁТ

Найди ошибки в примерах.



$$45 - 10 = 35$$

$$36 - 8 = 28$$

$$61 - 5 = 55$$

$$31 + 19 = 60$$

$$67 - 9 = 58$$

$$80 - 22 = 57$$

$$56 + 9 = 75$$

$$34 + 41 = 76$$

 $18 + 5$

 $13 + 13$

 $30 - 5$

 $18 + 8$

 $70 - 44$

 $21 + 5$

 $38 - 12$

 $31 - 4$

 $42 - 15$

 $32 - 6$

 $63 - 27$

Помоги белке собрать орехи с ответом

26.



В лесной школе **35** птиц и **40** зверей. Поставь
вопрос и
реши задачу.



На урок технологии мышонок принёс **12**
желудей, это
на **5** меньше, чем принёс лисёнок. Сколько
желудей
принё

$$12 + 5 = 17 \text{ (ж.)}$$

17

желудей



На уроке музыки в лесной школе **39** птиц. Из них **17** синиц,
а остальные воробьи. Сколько воробьёв на уроке музыки?

22 воробья



$$39 - 17 = 22$$

воробья



На уроке физкультуры белочка пробежала **15 м**, а зайчонок на **10 м** больше. А медвежонок столько, сколько белочка

и зайчонок
медвежонок

$$15 + (15 + 10) = 40 \text{ м}$$

40

метров



Замени примеры по
образцу.



$$4 + 4 + 4$$

по 4 3

$$7 + 7 + 7 + 7$$

раза

$$9 + 9 + 9 + 9$$

$$10 + 10 + 10 + 10$$

Запиши в виде суммы и выполни действие.



по 9 взять 3

по 15 ^{раза} взять 3

по 5 взять 2


по 10 взять 7

раз

ЗАДАНИЯ НА СМЕКАЛКУ



Сосчитай четырёхугольники в этой фигуре.



6 четырёхугольников

Определи, на каких рисунках части фигур складываются в целые?



1



2



3



4




5


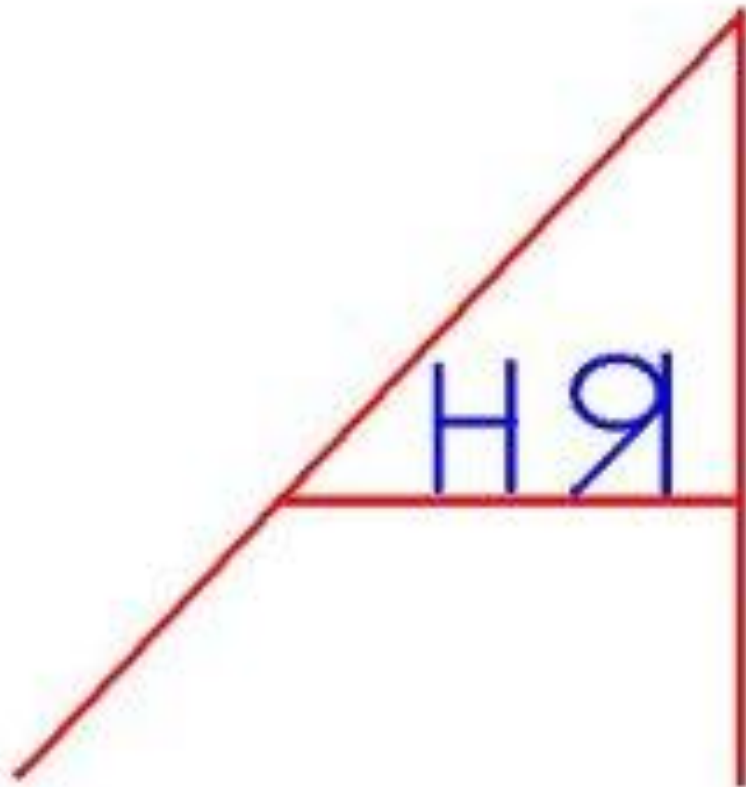
6

7

8



Pop



Ван

Т
—
С



3,2



О=И

Е

настроение

конец

