

Умники и умницы
2 класс

Занятие 19.



Разминка

За тобою он
плетётся, хоть на
месте остаётся.
Что это?



След



Разминка

Через речку лёг,
пробежать
помог. Что это?



Мост




Разминка

Кто над нами
вверх ногами?



Муха




Разминка

На что похожа
половина
яблока?



На
вторую
половин
у.




Разминка

По чему часто
ходят и никогда
не ездят?



По
лестниц
е



Разминка

Назови кислую
ягоду, которая
растёт на
болоте?



Клюкв
а



Разминка

Говорят, что эта
птица приносит
детей. Кто это?



Аист



Разминка

Сколько в одном
часе минут?



60
минут



Разминка

Сколько минут
надо варить
крутое яйцо –
две, три, пять?



Нисколько
о. Оно уже
сварено.



Разминка


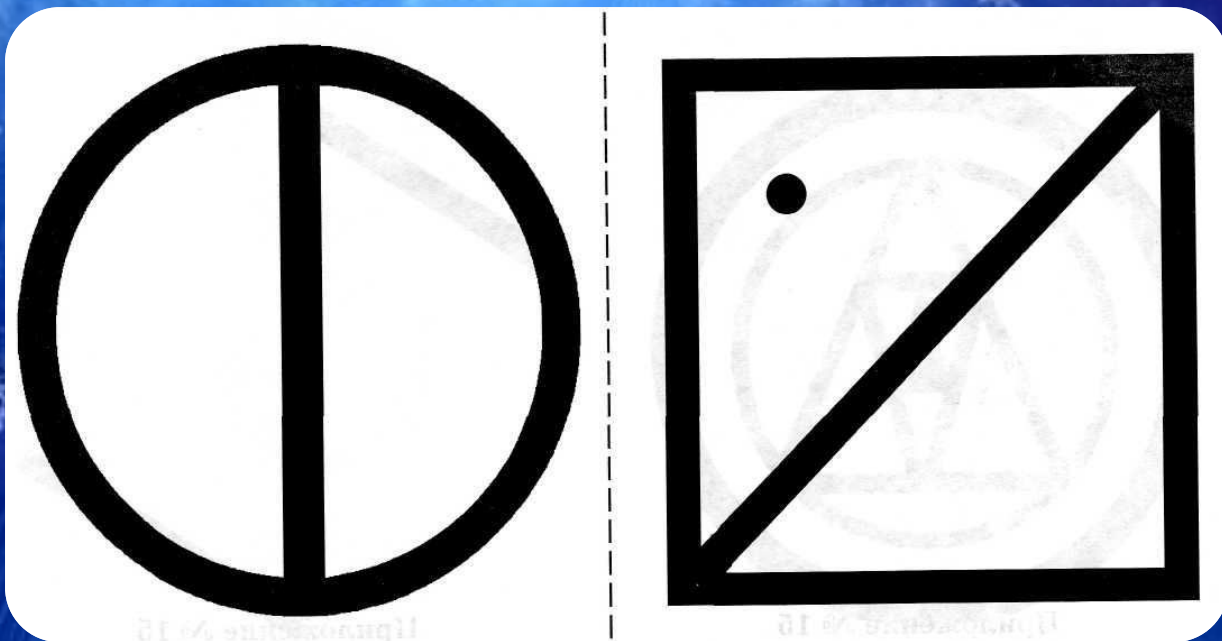
Какие буквы не
употребляются в
начале русских
слов?





ы, в, ъ.





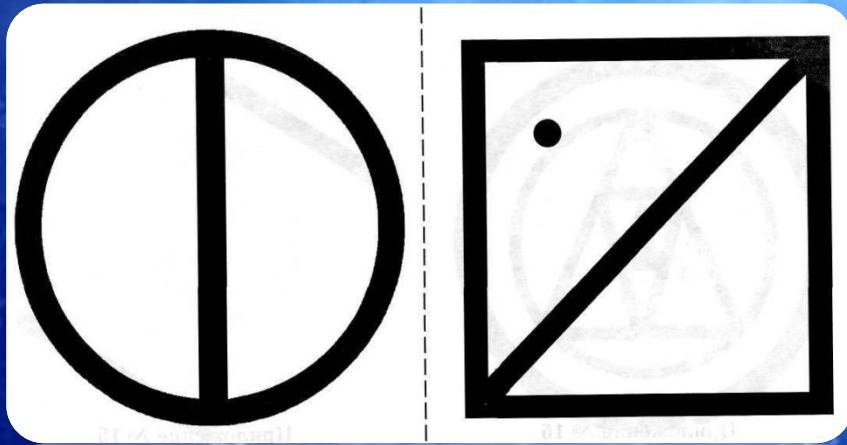
Запомни увиденное изображение и зарисуй как можно точнее.



Запомни увиденное изображение и зарисуй как можно точнее.



Проверь.



Посмотри на геометрические фигуры, а
затем ответь на вопросы:



4



3

2



1



10



Ответь на вопросы:

**а) Какие
геометрические
фигуры были
изображены?**



Ответь на вопросы:

**б) Сколько
одинаковых
геометрических
фигур?**

2



Ответь на вопросы:

в) Какая фигура была
третьей сначала?

круг



Ответь на вопросы:

г) Какое число было
записано в
прямоугольнике?

10



Ответь на вопросы:


д) Чему равна сумма
всех чисел?

$$4 + 3 + 2 + 1 + 10 = 20$$

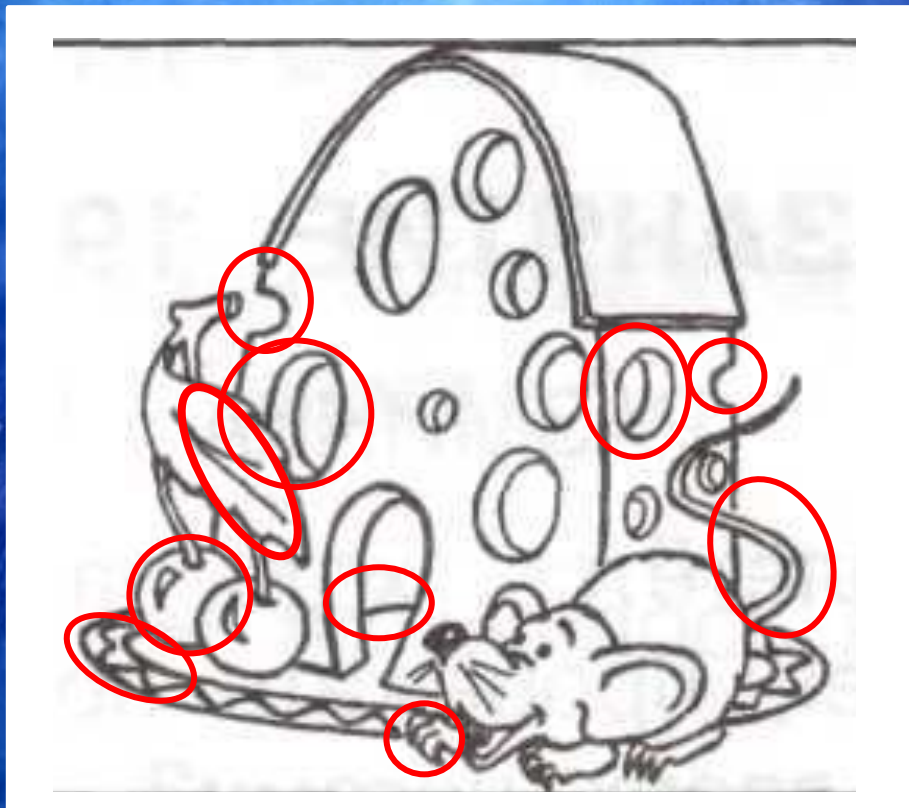
20




Посмотри в течении 10 секунд на рисунок и переверни страницу. Найди 10 отличий в рисунках.



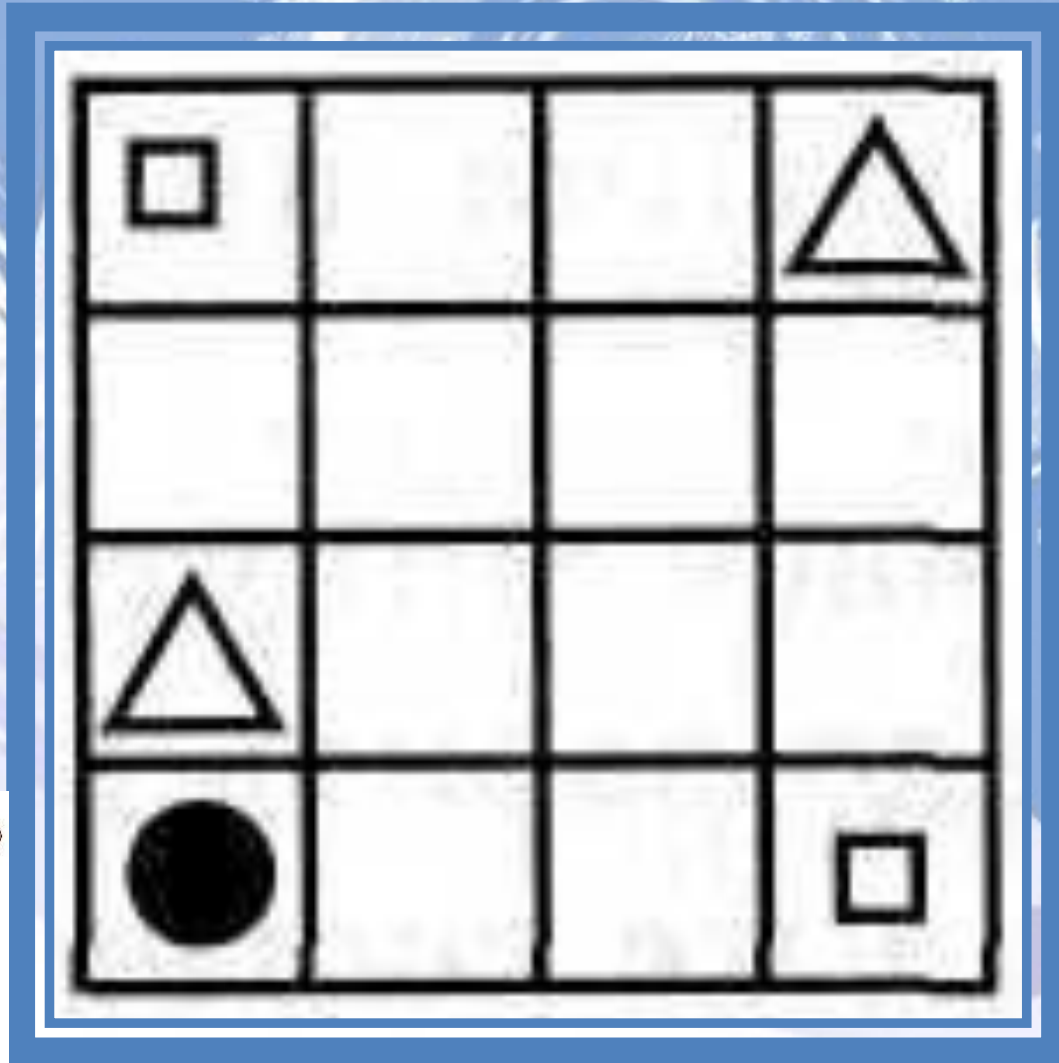
Найди 10 отличий.



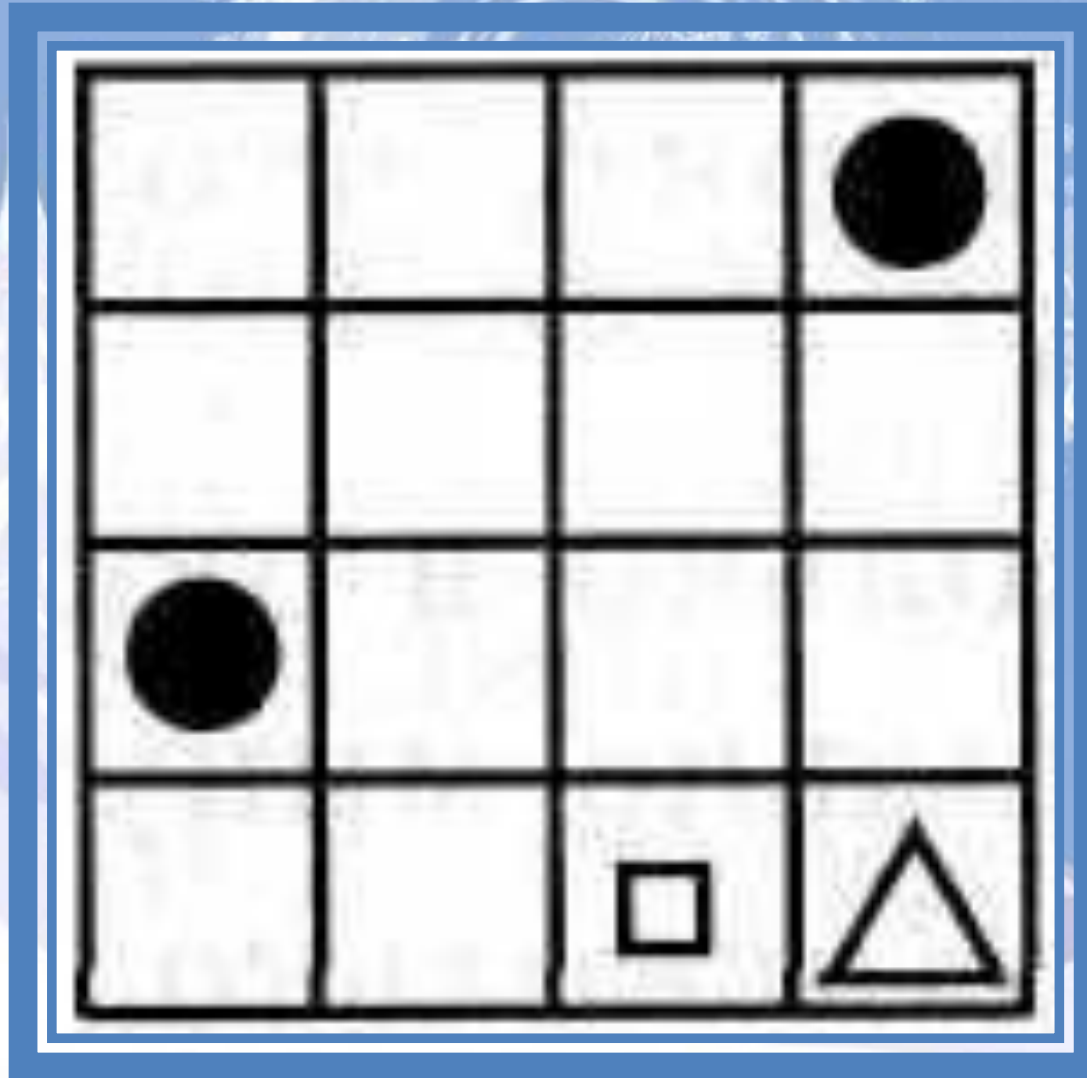
Посмотри на карточки на доске. Запомни
расположение фигур. Нарисуй их по памяти в
пустых квадратах.



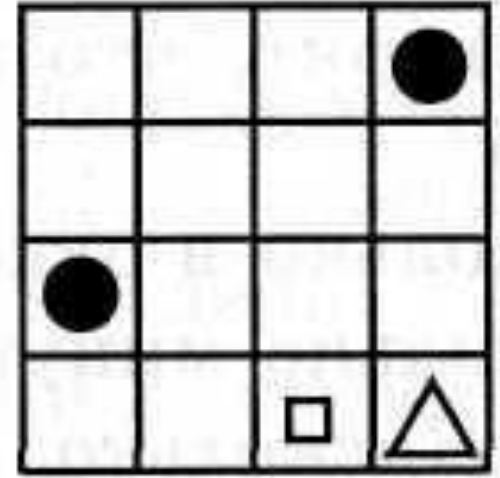

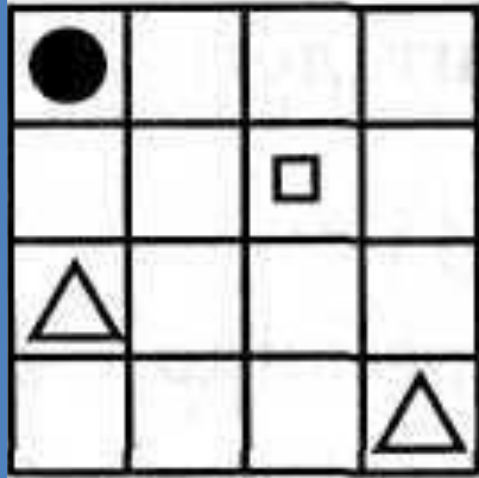
Посмотри на карточки на доске. Запомни расположение фигур. Нарисуй их по памяти в пустых квадратах.



Посмотри на карточки на доске. Запомни
расположение фигур. Нарисуй их по памяти в
пустых квадратах.



Проверь



ЛОГИЧЕСКИ - ПОИСКОВЫЕ ЗАДАНИЯ

Врач прописал Буратино три
таблетки и велел принимать
их по одной через каждые 20
минут. На какое время
Буратино хватит этих
таблеток?

40 минут



Закончи предложения, соединяя с подходящим по смыслу антонимом.

Солнце яркое, а луна ...

Улица широкая, а переулок ...

Булочка мягкая, а хлеб ...

Газета свежая, а журнал ...

Доктор Айболит добрый, а Баба

Яга ...

Сажа чёрная, а снег ...

Смех громкий, а шёпот ...

Чай горячий, а мороженое...

Пруд мелкий, а озеро ...

Фрукты дорогие, а овощи ...

Клубника крупная, а земляника ...

Великан огромный, а Дюймовочка

Карabas Барабас толстый, а

Дуремар ...

Дешёвый

Мелкая

Маленькая

Худой

Злая

Старый

Чёрствый

Узкий

Тусклая

Белый

Тихий

Холодное

Глубокое



Коля умеет складывать двузначные числа на калькуляторе. Но у Колиного калькулятора заедает кнопку «9», и она не нажимается. Напиши, как Коля может вычислить $57 + 29$ на своём калькуляторе.

$$57 + 20 + 3 + 6 = 86$$



Рыдают буквы в каждой
строчке:

«От наших слов одни кусочки.
У всех у нас одно начало
И как назло, оно пропало.
Но если вы его найдёте,
То сразу все слова прочтёте».

РАК

ИТА

ЕТАЧИ

УЩКА
ЕТР

ЕТОДРО

ОВИИМ

ЕТНИЦА

А

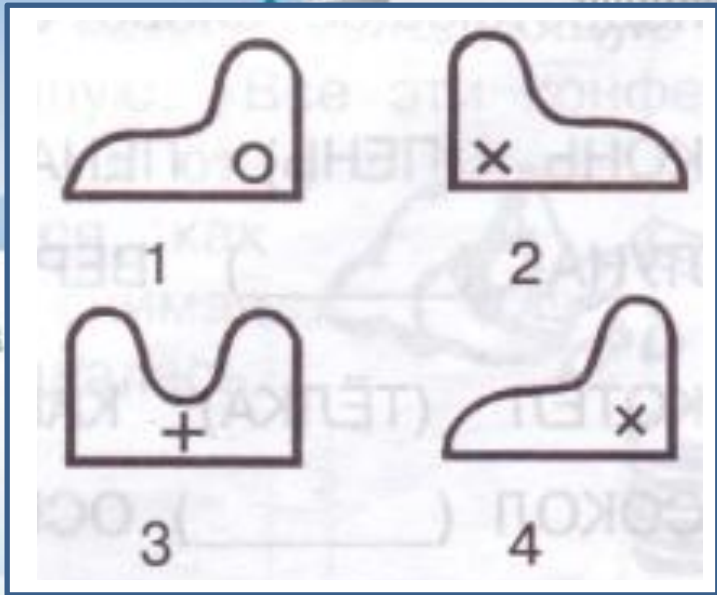
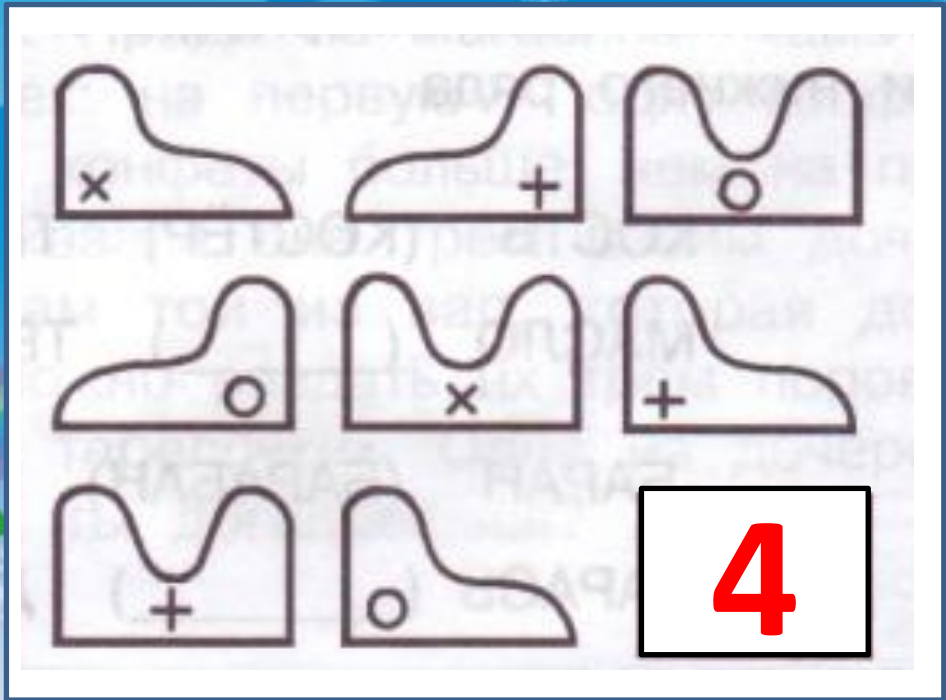


Миша, Игорь, Боря и Вася занимались спортом: один плаванием, другой бегом, третий – прыжками, четвёртый коньками. Кто каким видом спорта занимался, если Вася не катался на коньках, Боря не плавал и не катался на коньках, а Миша бегал?

	Миша	Игорь	Боря	Вася
Плавание	-	-	-	+
Бег	+	-	-	-
Прыжки	-	-	+	-
Коньки	-	+	-	-



Выбери нужную фигуру из 4 пронумерованных.



Молодцы!
Спасибо за урок!

