



Зувлекательная математика
для весёлых девочек и мальчиков
9 класса
(Проверим, чему научились за 5 -9 класс)

Математика учила...

❖ *Правильно рассуждать*



Математика учила...

Принимать обоснованное решение



Математика учила...

- *Защищать и доказывать свое решение*




Математика учила...

- *Развивать память, внимание, воображение*



Мы провели с вами много уроков...

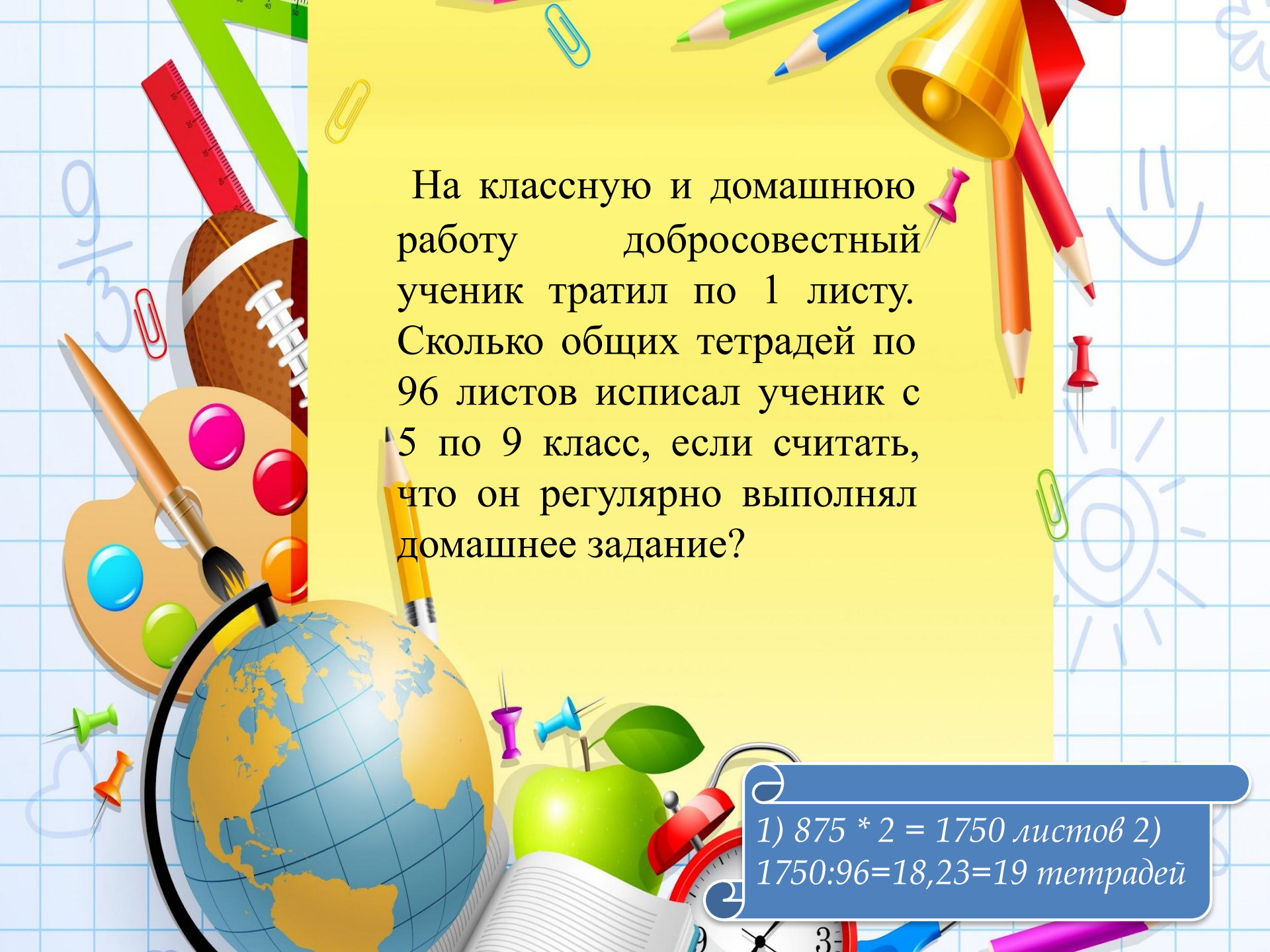
*А давайте
посчитаем сколько
всего их было
у вас с 5 по 9 класс?*



Сколько уроков девятиклассник прозанимался математикой, начиная с пятого класса, если в учебном году 35 недель, а в неделю 5 уроков математики?



$(35 \cdot 5) \cdot 5 = 875$ уроков
математики



На классную и домашнюю работу добросовестный ученик тратил по 1 листу. Сколько общих тетрадей по 96 листов исписал ученик с 5 по 9 класс, если считать, что он регулярно выполнял домашнее задание?

1) $875 * 2 = 1750$ листов 2)
 $1750 : 96 = 18,23 = 19$ тетрадей


Лишнее число

39

17

8

22



Лишнее число

10 46 50 70



Лишнее число

34 24 54 76



Лишнее число

38 69 37 35



Лишнее число


1

6

10



ВЫЧИСЛИТЕ УСТНО



У семи братьев по
одной сестрице.
Сколько их вместе?



- На грядке сидят 6 воробьёв. К ним прилетели ещё 5. Кот подкрался и схватил одного. Сколько осталось воробьёв?






СКОЛЬКО ХВОСТОВ У СЕМИ КОТОВ?






**СКОЛЬКО
НОСОВ У ДВУХ
ПСОВ?**



Сколько пальчиков у четырёх мальчиков?





Сколько ушек у трёх старушек?



**Сколько орехов в
пустом стакане?**





**Журавль, когда
стоит на одной
ноге, весит 3 кг.
Сколько он
будет весить,
если встанет на
2 ноги?**

***Числа в
пословицах
и поговорках***

Один за всех и
все за **одного.**





Семь

раз отмерь,

один

раз отрежь.





К. Са Na Mg Al Mn
Кальций Натрий Магний Алюминий Марганец



Одна ГОЛОВА
хорошо,
а **дв**е лучше.





Не имей **сто**
рублей,
а имей **сто**
друзей.





Разгадай

ребус

ВОСЕМЬ



Родина

Р 1 а

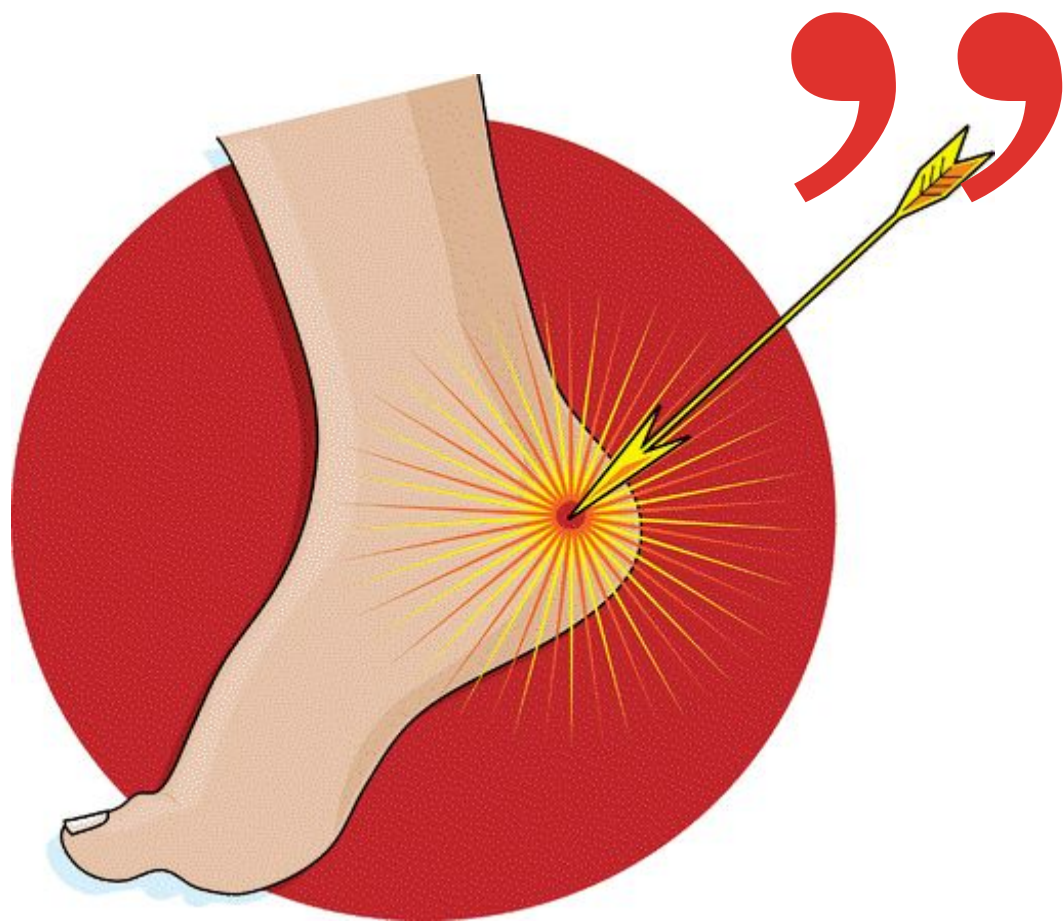
два

Д

””



ПЯТЬ



Ь

ОДИН

О



~~Ж~~

Задачки- смекалки

**Коля прибежал из школы домой
первым, а Оля – второй.
Кто бегает быстрее?**



**У собаки 2 правые лапы, 2 левые лапы,
2 лапы впереди и 2 лапы сзади.
Сколько лап у собаки?**



4



**На лужайке босоногих мальчиков
столько же, сколько обутых девочек.**

**Кого на лужайке больше –
девочек или босоногих детей?**

ОДИНАКОВО



**Мальчик каждую букву
своего имени заменил
порядковым номером этой буквы в
русском алфавите.
Получилось 5,10,14,1.
Как звали мальчика?**



Дима



В теремке Мышка живет выше Лягушки, но ниже Зайца, а Петух живет ниже Лягушки. Скажите, кто на каком этаже живет.

Мышка

Лягушка

Заяц

Петух



ШКОЛА

Вы просто – молодцы!

**Желаю вам дальнейших
успехов и побед!**

