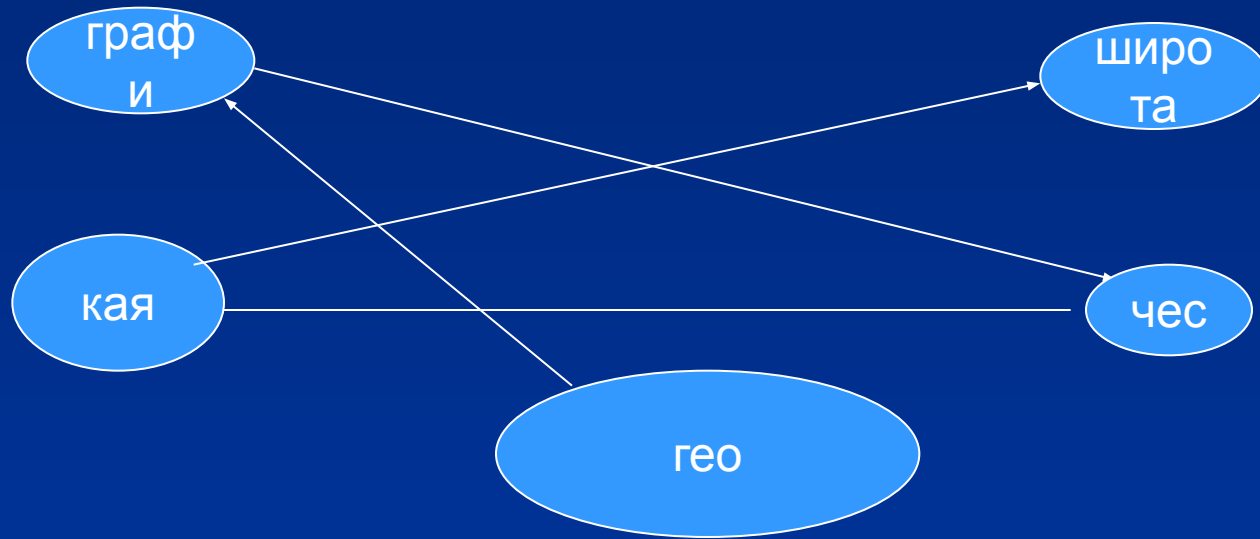


гео



Дежурный словарь

1. Параллель
2. Глобус
3. Рельеф
4. Колумб
5. Экватор
6. Москва
7. 22 октября
8. Компас
9. Меридиан



- Координаты – определяют положение объекта на Земле

- Широта долгота
- (параллели)



Как определить географическую широту?

- 1. г. Санкт-Петербург – с.ш.
- 2. г. Каир
- 3. г. Мехико
- 4. г. Пекин



Какие города расположены?

- А) 50 с.ш.;
- Б) 35 с.ш.;
- В) 60 с.ш.

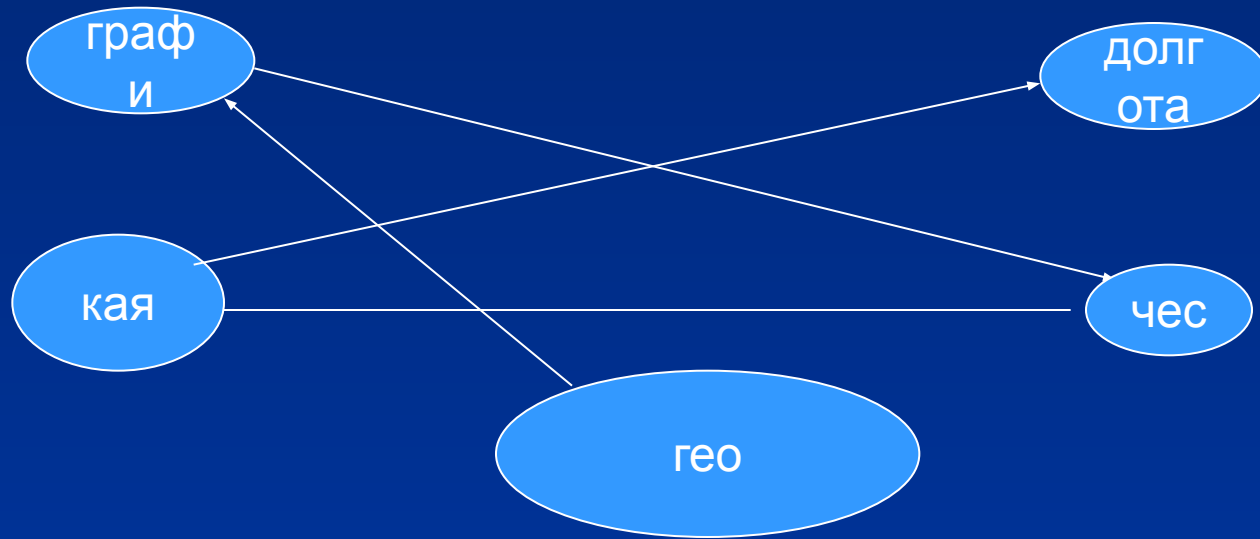


Д/З

- §12, придумать задание на определение широты



гео



Дежурный словарь

1. Параллель
2. Глобус
3. Рельеф
4. Колумб
5. Экватор
6. Москва
7. 28 октября
8. Компас
9. Меридиан
10. Географическая широта



Географическая долгота

- Научиться определять долготу объектов
- Научиться определять географические координаты точек



Определите широту

- 40° с. ш.
- 30° с. ш.
- Город Якутск
- Гора Аконкагуа
- Вулкан Камерун



Географическая долгота-

расстояние в градусах от начального меридиана до заданного места

Как определить долготу

1. Узнать долготу ближнего к пункту меридиана (со стороны начального)
2. Прибавить градусы между этим меридианом и пунктом

Определите долготу Владивостока



Географические координаты

• Широта

— Д~~О~~ЛГОТА

ОПРЕДЕЛИТЕ КООРДИНАТЫ

ГОРОД ВЛАДИВОСТОК

43 С.Ш. 130 В.Д.



Определите географические координаты

1 вариант

- Озера Чад
- Город Сидней

2 вариант

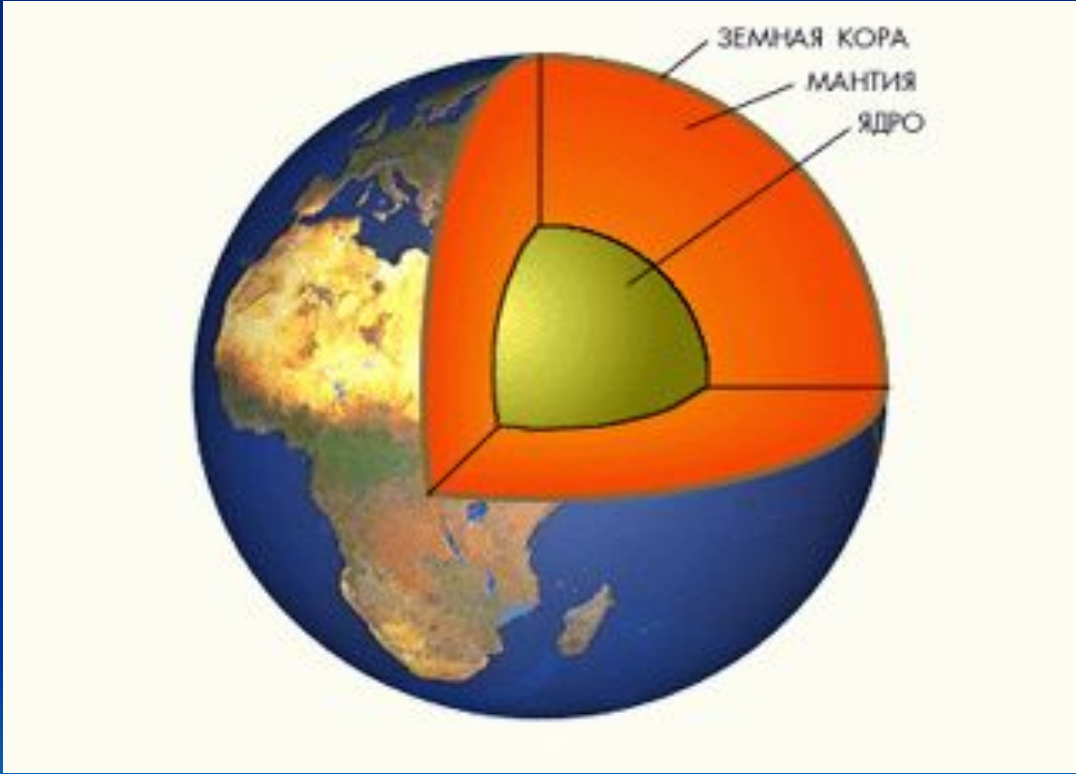
- Вулкан Камерун
- Озеро Эйр-Норт



Домашнее задание


- 13, придумать карточку с заданием на определение географических координат







- Гранитный слой



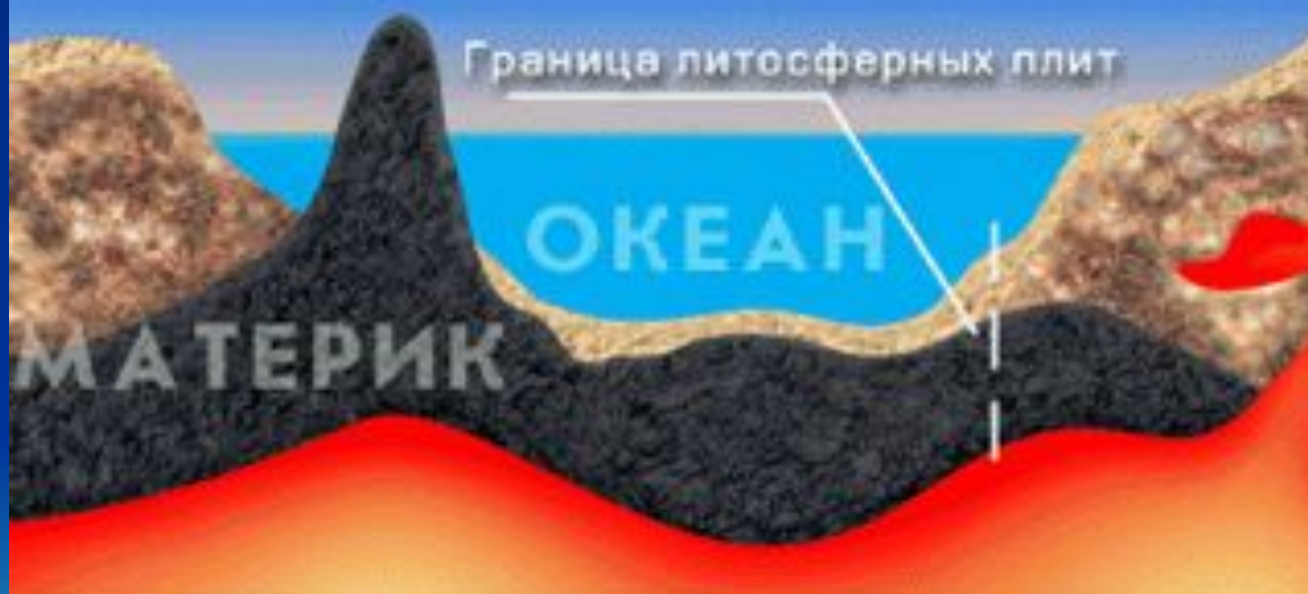
- Базальтовый слой



- Осадочный слой



- Внедрение магмы



Земная кора

- Океаническая материковая
5-10 км 30-80 км
2 слоя ← осадочный 3 слоя
гранитный
базальтовый

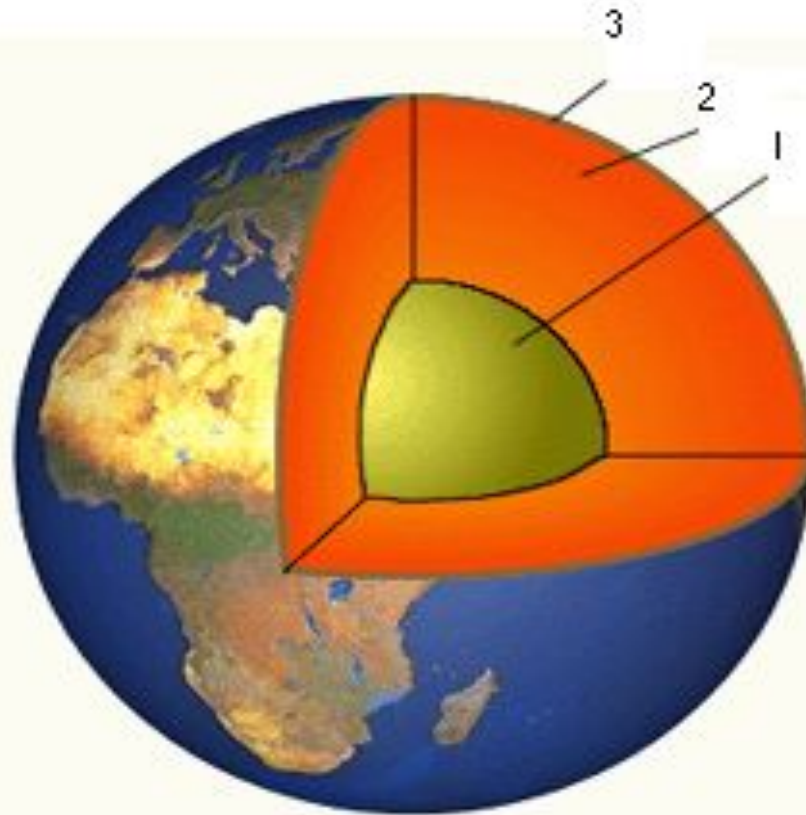


Как изучают земную кору

- Скважины (15 км)
 - Геофизика (приборы записывают скорость распространения колебания внутри Земли)
 - Сейсмология
 - Спутники из космоса



Закрепление: назовите части земного шара



Домашнее задание

- §16
- Сделать коллекцию горных пород и минералов

